

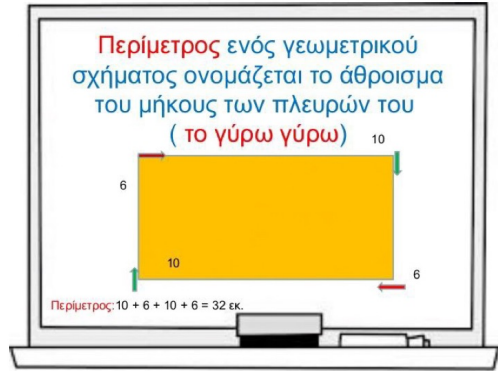
HOMWORK 28

Due Friday 4/17, upload no later than 8am.

Εμβαδόν




Περίμετρος

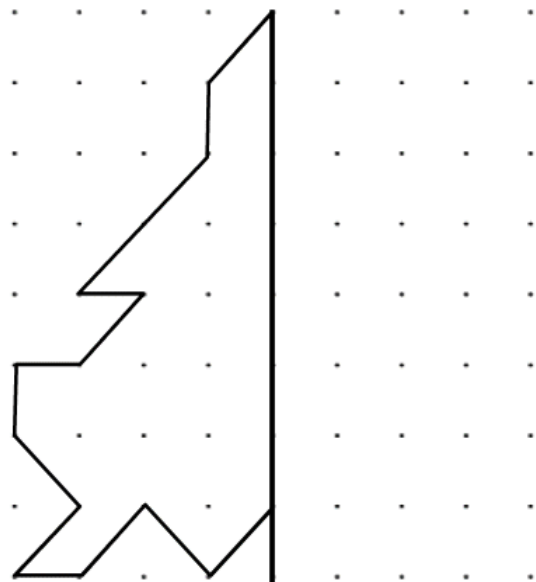
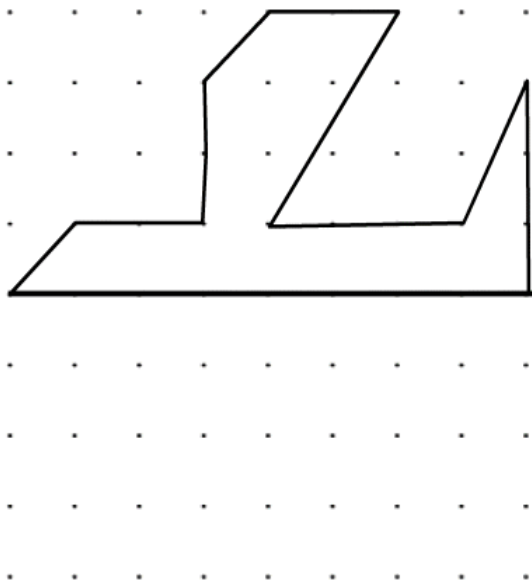
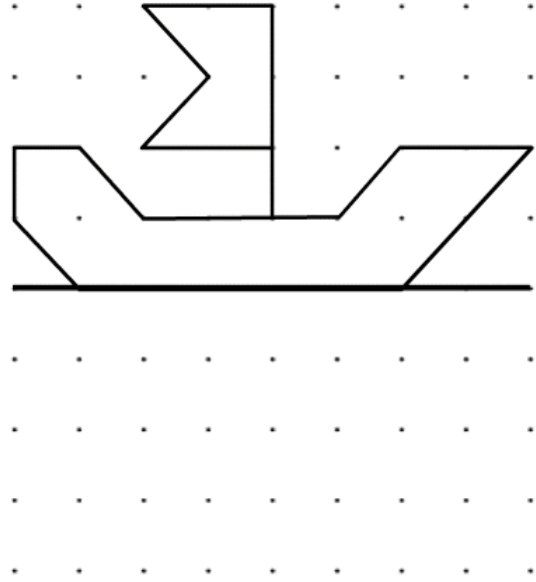
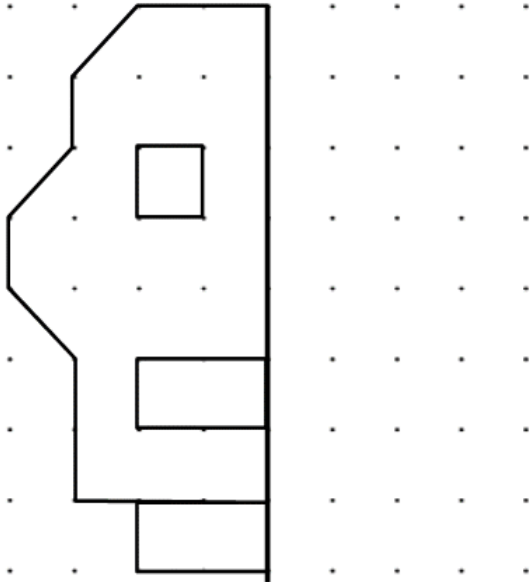


Γωνίες

Our next test will be Monday 4/27.



3. Συμπλήρωσε τα παρακάτω σχήματα ώστε να γίνουν συμμετρικά



ΠΕΡΙΜΕΤΡΟΣ

Άσκηση 1η


Μέτρησε την περίμετρο των σχημάτων.

8εκ.



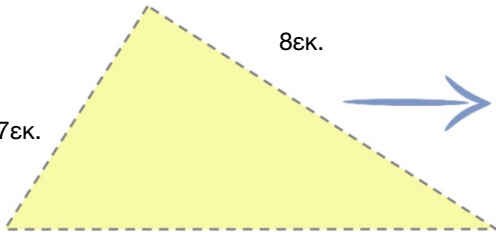
Ας υπολογίσω
την περίμετρο...

7εκ.



Ας υπολογίσω
την περίμετρο...

7εκ.




Ας υπολογίσω
την περίμετρο...

9εκ.

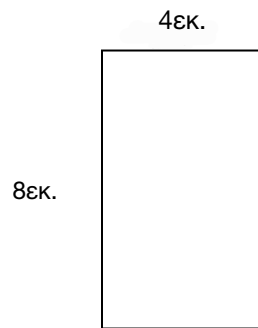


Ασκήσεις:

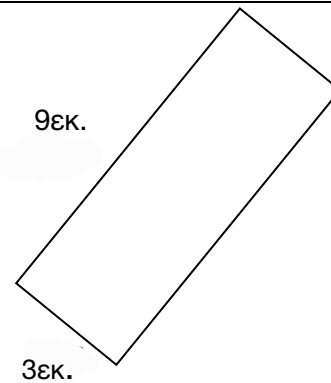
1. Να βρεις το εμβαδόν στα πιο κάτω σχήματα.



$E =$



$E =$



$E =$

Εμβαδόν είναι το μέσα ενός σχήματος.

Γράψε το όνομα της γωνίας.

(ορθή, οξεία, αμβλεία)

