


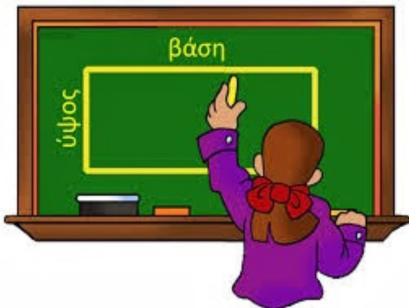

Homework 26

Due Monday 4/6, upload no later than 8am.



σχήματα και στερεά

μετρώ το μήκος



περίμετρος

Quiz on Thursday 4/2

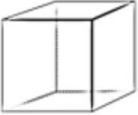







Learn the vocabulary!!!

Γεωμετρικά στερεά

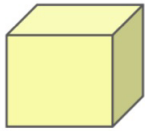




Ένωσε κάθε στερεό γεωμετρικό σχήμα με το όνομά του


Στερεό









Το όνομά του
Σφαίρα
Τετραγωνική Πυραμίδα
Κώνος
Κύλινδρος
Κύβος
Τριγωνική Πυραμίδα
Ορθογώνιο Παραλληλεπίπεδο
Πρίσμα













Χρωμάτισε τα σχήματα που πρέπει.

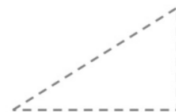
ΤΕΤΡΑΓΩΝΟ



ορθογώνιο
παράλληλόγραμμο



Τρίγωνο



ΜΕΤΡΩ ΜΕ ΕΚΑΤΟΣΤΟΜΕΤΡΑ

1. Βρίσκω πόσα εκατοστόμετρα είναι τα αντικείμενα.



___ εκατοστά



___ εκατοστά



___ εκατοστά



___ εκατοστά


ΜΕΤΡΩ ΤΟ ΜΗΚΟΣ ΣΕ ΪΝΤΣΕΣ (inches).




inches



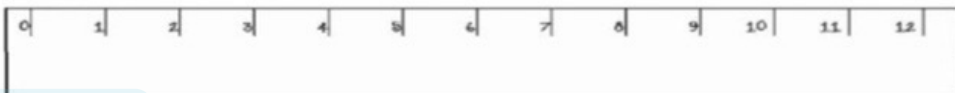
inches



inches





inches

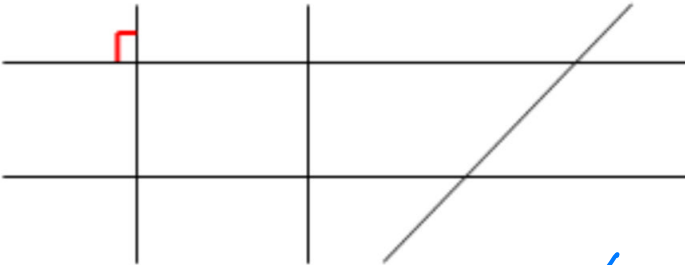


1. Βάζω ✓ στα γράμματα που περιέχουν **ορθές γωνίες**.

← right angles



2. Σημειώνω όπως το παράδειγμα τις ορθές γωνίες στο παρακάτω σχήμα με κόκκινο χρώμα. Find the right angles.



Δύο ευθείες που είναι κάθετες μεταξύ τους (είναι σαν σταυρός) σχηματίζουν μια ορθή γωνία.



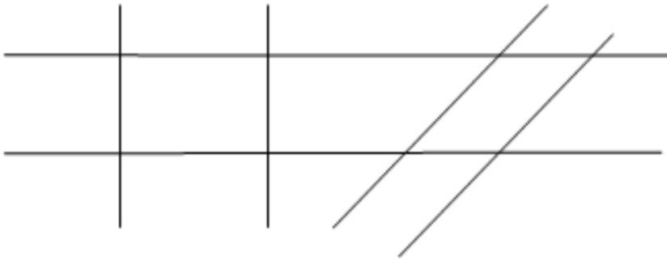
Το παραπάνω σχήμα έχει συνολικά _____ ορθές γωνίες.



1. Βάζω ✓ στα γράμματα που έχουν παράλληλες ευθείες.



2. Σημειώνω με κόκκινο χρώμα τις παράλληλες ευθείες στο παρακάτω σχήμα.



Οι ευθείες που δεν συναντιούνται όσο και να τις προεκτείνουμε με τον χάρακα λέγονται παράλληλες.

Το παραπάνω σχήμα έχει συνολικά _____ ζεύγη (ζευγάρια) από παράλληλες ευθείες.

pairs

