

Homework 25 due Friday 3/27


3η Τάξη

Ελληνικά Μαθηματικά

Όνομα: _____

Ημερομηνία: _____


ΓΕΩΜΕΤΡΙΑ




Quiz on the
Names of the
Shapes ~ Monday
3/30

Make sure you carry a ruler with you in your pencil pouch everyday.

Γεωμετρικά Σχήματα




ΚΥΚΛΟΣ



ΤΡΙΓΩΝΟ



ΤΕΤΡΑΓΩΝΟ



ΡΟΜΒΟΣ



**ΟΡΘΟΓΩΝΙΟ
ΠΑΡΑΛΛΗΛΟΓΡΑΜΜΟ**



**ΠΛΑΓΙΟ
ΠΑΡΑΛΛΗΛΟΓΡΑΜΜΟ**




ΠΕΝΤΑΓΩΝΟ



ΕΞΑΓΩΝΟ



ΟΚΤΑΓΩΝΟ



ΟΒΑΛ



ΤΡΑΠΕΖΙΟ







ΑΣΤΕΡΙ


Learn the vocabulary!!!

ΓΕΩΜΕΤΡΙΚΑ ΣΧΗΜΑΤΑ

Γράφω κάτω από τα γεωμετρικά σχήματα την ονομασία τους:



Γράψε τη λέξη στο σωστό κουτάκι.



οβάλ


ορθογώνιο

τρίγωνο

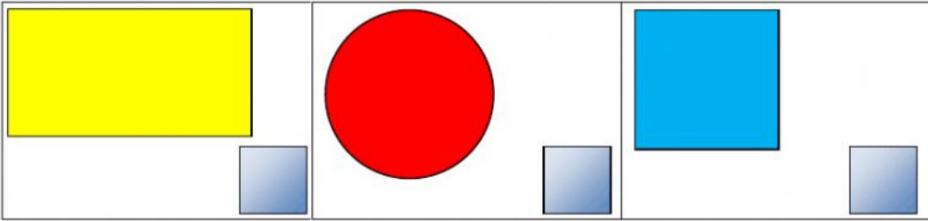
κύκλος

τετράγωνο

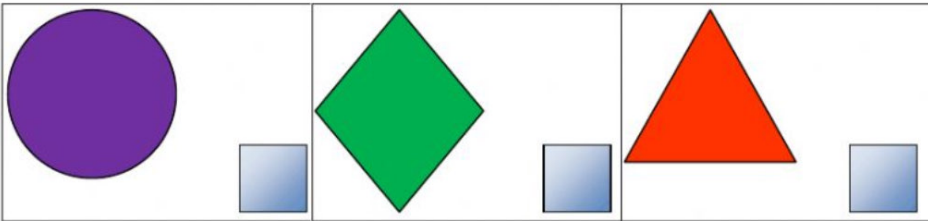
ρόμβος




Ποιο σχήμα είναι το τετράγωνο;



Ποιο σχήμα είναι ο κύκλος;



Ποιο σχήμα είναι το ορθογώνιο;



Ποιο σχήμα είναι το τρίγωνο;

