

Archimedean Pre-K
23 ΜΑΡΤΙΟΥ ΕΩΣ 27 ΑΠΡΙΛΙΟΥ 2026



ΟΝΟΜΑ: _____

ΕΠΑΝΑΛΗΨΗ

Πηγές (Resources)

*The Homework Guides



Εργασία στο σπίτι




ΔΕΥΤΕΡΑ	ΤΡΙΤΗ	ΤΕΤΑΡΤΗ	ΠΕΜΠΤΗ	ΠΑΡΑΣΚΕΥΗ
Review the vocabulary (stories and everyday vocabulary)	Review the vocabulary (flash cards) Section 3: 1, 2	Review the number pairs/number bonds Section 3: 3, 4	Review the shapes Section 3: 5	Vocabulary review

HOMEWORK: REVIEW

1.1 ΑΚΟΥ -ΔΙΑΒΑΣΕ - ΖΩΓΡΑΦΙΣΕ: LISTEN TO- READ - DRAW:

Να, η Λόλα με τη γάτα.

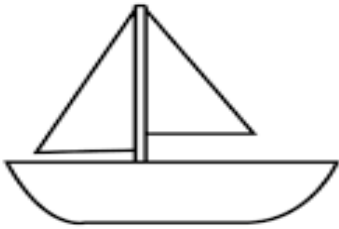


1.2 ΑΚΟΥ -ΔΙΑΒΑΣΕ - ΖΩΓΡΑΦΙΣΕ: LISTEN TO - READ - DRAW:

Να, η θάλασσα. Να, ένα ψάρι.



2.1 ΠΟΣΟ ΕΙΝΑΙ ΤΟ ΜΗΚΟΣ ΤΗΣ ΒΑΡΚΑΣ; ΚΥΚΛΩΣΕ ΤΟΝ ΑΡΙΘΜΟ. *WHAT IS THE LENGTH OF THE BOAT? CIRCLE THE NUMBER.*

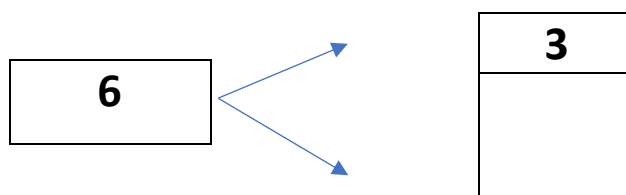
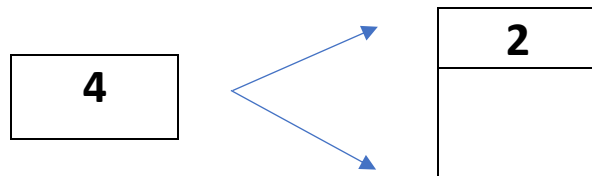


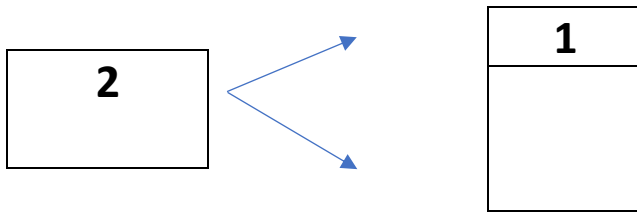
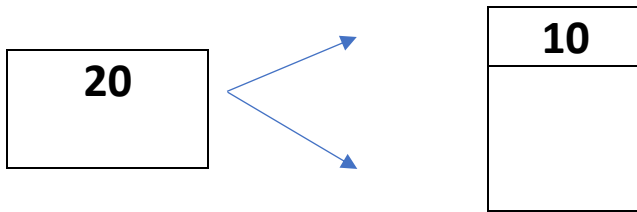
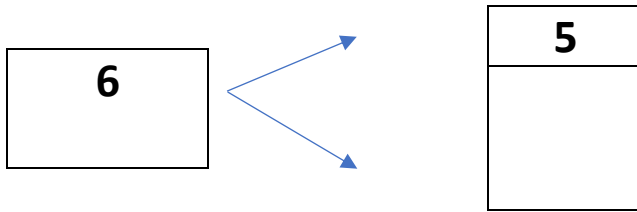
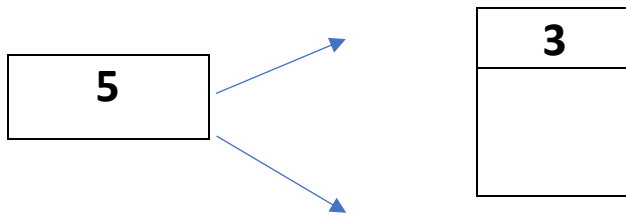
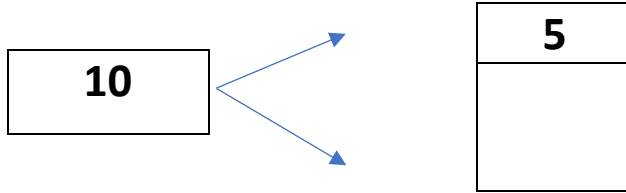
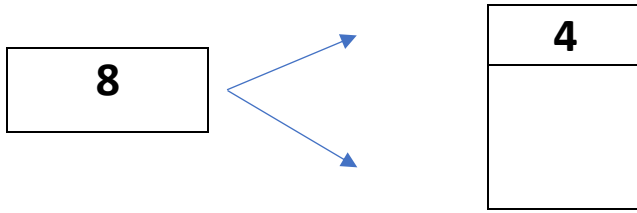
2.2 ΠΟΣΟ ΕΙΝΑΙ ΤΟ ΥΨΟΣ ΤΟΥ ΣΠΙΤΙΟΥ; ΚΥΚΛΩΣΕ ΤΟΝ ΑΡΙΘΜΟ. *WHAT IS THE HEIGHT OF THE HOUSE? CIRCLE THE NUMBER.*

7
6
5
4
3
2
1



3. ΓΡΑΨΕ ΤΟΝ ΑΡΙΘΜΟ ΠΟΥ ΛΕΙΠΕΙ ΜΕΣΑ ΣΤΟ ΚΟΥΤΙ ΓΙΑ ΝΑ ΕΙΝΑΙ ΣΩΣΤΑ ΤΑ ΖΕΥΓΑΡΙΑ ΤΟΥ ΑΡΙΘΜΟΥ. *(ΓΡΑΨΕ ΤΟΝ ΑΡΙΘΜΟ ΠΟΥ ΛΙΠΙ ΜΕΣΑ ΣΤΟ ΚΟΥΤΙ ΓΙΑ ΝΑ ΙΝΕ ΣΟΣΤΑ ΤΑ ΖΕΥΓΑΡΙΑ ΤΟΝ ΑΡΙΘΜΟΝ)* WRITE THE MISSING NUMBER IN THE BOX TO MAKE THE NUMBER PAIRS TRUE.





4. ΚΑΝΕ ΤΙΣ ΠΡΟΣΘΕΣΕΙΣ. DO THE ADDITIONS.

$2 + 3 = \text{-----}$

$6 + 1 = \text{-----}$

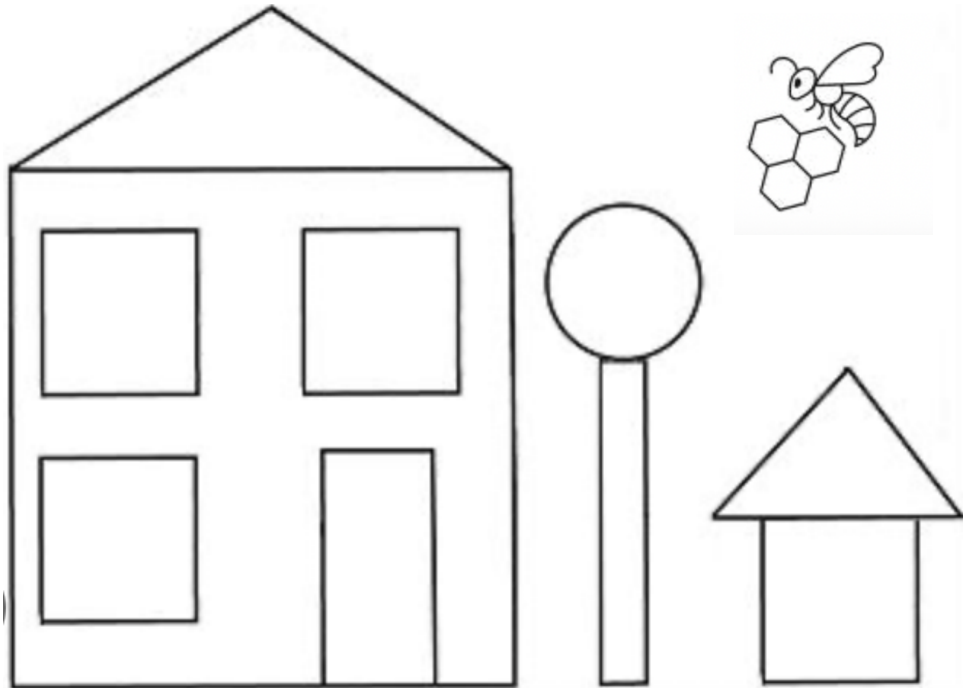
$4 + 4 = \text{-----}$

5. ΜΕΤΡΗΣΕ ΤΑ ΣΧΗΜΑΤΑ. ΓΡΑΨΕ ΤΟΝ ΑΡΙΘΜΟ. COUNT THE SHAPES. WRITE THE NUMBER.

ΤΡΙΓΩΝΑ:



ΚΥΚΛΟΙ:



ΤΕΤΡΑΓΩΝΑ: _____



ΟΡΘΟΓΩΝΙΑ ΠΑΡΑΛΛΗΛΟΓΡΑΜΜΑ: _____



ΕΞΑΓΩΝΑ : _____

