

Δευτέρα 9 αριου 2026

Όνομα _____ Τμήμα: _____

Ελληνικά Μαθηματικά-Greek Math**Γεωμετρία**

Dear scholars

This week we are:

Classifying triangles according to their angles and sides.

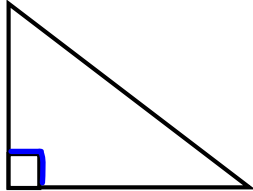
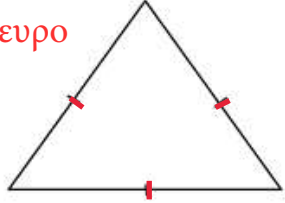
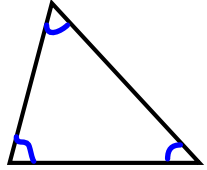
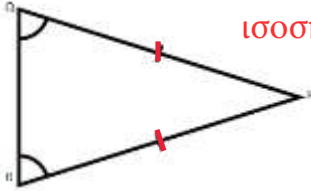
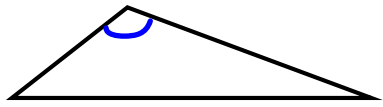
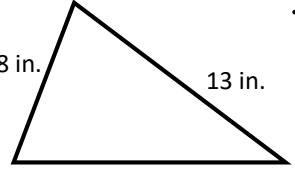
Dear students,
Please follow this scedule:

Δευτέρα	3/9	σελίδες 1 και 2	3/14
Τρίτη	3/10	σελίδα 3	Progress Friday
Τετάρτη	3/11	σελίδα 4	Seesaw-
Πέμπτη	3/12	α λ	Classwork

Επιστροφή**Due date**Κυριακή 3/15
(till 5.00 p.m.)**GEOMETRY**

Είδη τριγώνων

μ :

	<p>μ</p> <p>ορθογώνιο</p>  <p>(90°)</p>	<p>ισόπλευρο</p> 	
	<p>οξυγώνιο</p>  <p>(90°)</p> <p>μ</p>	<p>ισοσκελές</p> 	
<p>μ</p>	<p>μ μ μ</p>  <p>αμβλυγώνιο</p> <p>(H μ μ 90°)</p>	<p>μ</p>  <p>8 in. 13 in. 11 in.</p> <p>σκαλινό</p>	

Είδη τριγώνων, με κριτήριο τις γωνίες τους:

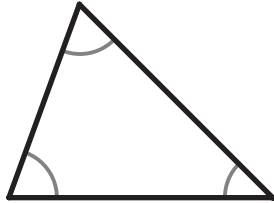
Classifying Triangles (by Angles)

Για κάθε τρίγωνο, βάζω Χ στο αντίστοιχο κουτάκι:

1



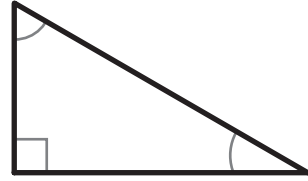
μ



2



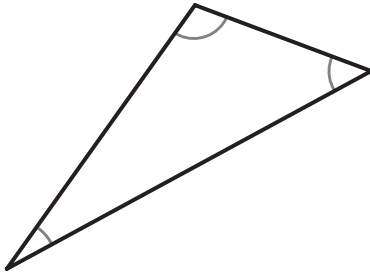
μ



3



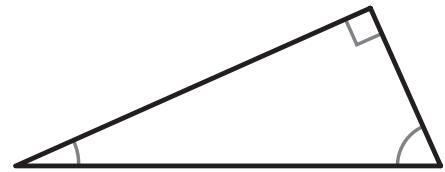
μ



4



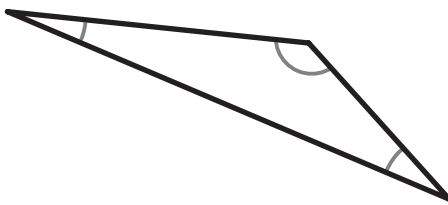
μ



5



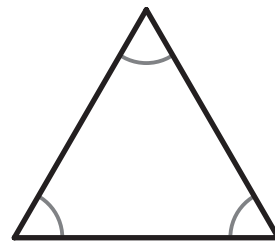
μ



6



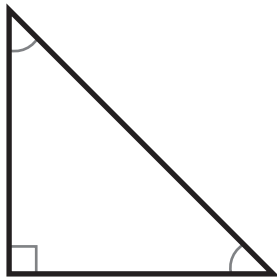
μ



7



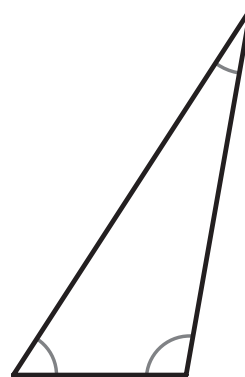
μ



8



μ

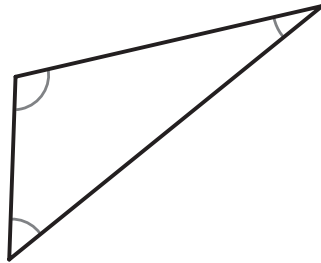


Είδη τριγώνων με κριτήριο τις πλευρές τους:

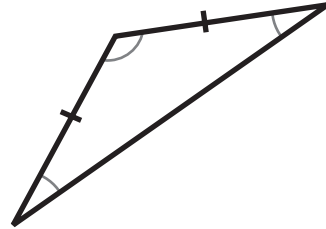
Classifying Triangles (by Sides)

x

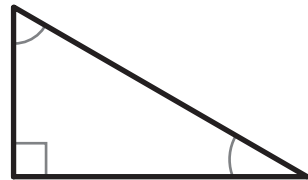
1



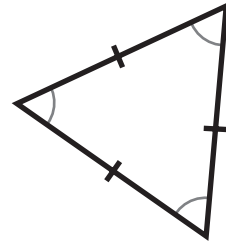
2



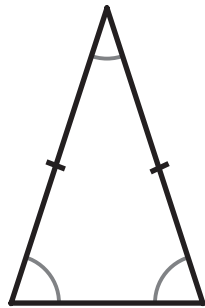
3



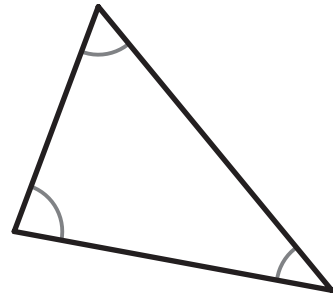
4



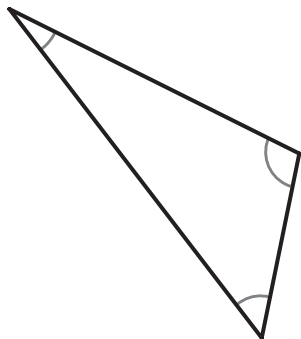
5



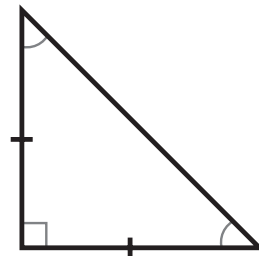
6



7



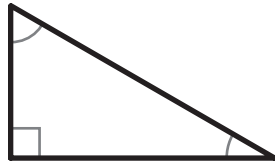
8



Ονομάζω τα τρίγωνα με δύο κριτήρια ταυτόχρονα: τις γωνίες και τις πλευρές.

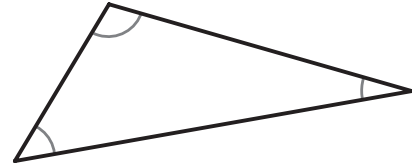
Για κάθε τρίγωνο, βάζω X σε κάθε κατηγορία ώστε να ταιριάζει με τα χαρακτηριστικά του.

1



- | | |
|---|---|
| <input type="checkbox"/> Οξυγώνιο | <input type="checkbox"/> Ισόπλευρο |
| <input checked="" type="checkbox"/> Ορθογώνιο | <input type="checkbox"/> Ισοσκελές |
| <input type="checkbox"/> Αμβλυγώνιο | <input checked="" type="checkbox"/> Σκαληνό |

2



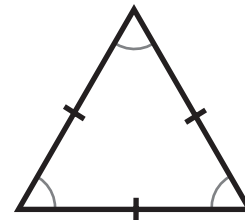
- | | |
|-------------------------------------|------------------------------------|
| <input type="checkbox"/> Οξυγώνιο | <input type="checkbox"/> Ισόπλευρο |
| <input type="checkbox"/> Ορθογώνιο | <input type="checkbox"/> Ισοσκελές |
| <input type="checkbox"/> Αμβλυγώνιο | <input type="checkbox"/> Σκαληνό |

3



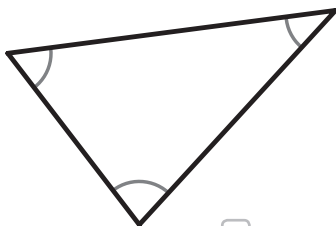
- | | |
|-------------------------------------|------------------------------------|
| <input type="checkbox"/> Οξυγώνιο | <input type="checkbox"/> Ισόπλευρο |
| <input type="checkbox"/> Ορθογώνιο | <input type="checkbox"/> Ισοσκελές |
| <input type="checkbox"/> Αμβλυγώνιο | <input type="checkbox"/> Σκαληνό |

4



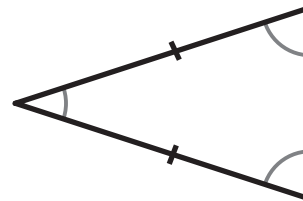
- | | |
|-------------------------------------|------------------------------------|
| <input type="checkbox"/> Οξυγώνιο | <input type="checkbox"/> Ισόπλευρο |
| <input type="checkbox"/> Ορθογώνιο | <input type="checkbox"/> Ισοσκελές |
| <input type="checkbox"/> Αμβλυγώνιο | <input type="checkbox"/> Σκαληνό |

5



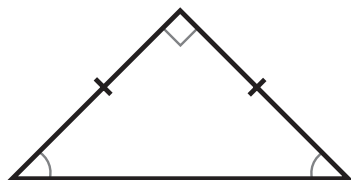
- | | |
|-------------------------------------|------------------------------------|
| <input type="checkbox"/> Οξυγώνιο | <input type="checkbox"/> Ισόπλευρο |
| <input type="checkbox"/> Ορθογώνιο | <input type="checkbox"/> Ισοσκελές |
| <input type="checkbox"/> Αμβλυγώνιο | <input type="checkbox"/> Σκαληνό |

6



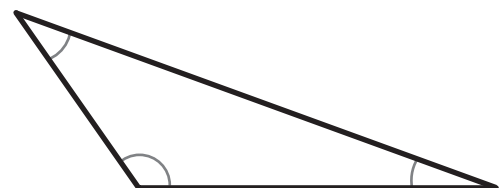
- | | |
|-------------------------------------|------------------------------------|
| <input type="checkbox"/> Οξυγώνιο | <input type="checkbox"/> Ισόπλευρο |
| <input type="checkbox"/> Ορθογώνιο | <input type="checkbox"/> Ισοσκελές |
| <input type="checkbox"/> Αμβλυγώνιο | <input type="checkbox"/> Σκαληνό |

7



- | | |
|-------------------------------------|------------------------------------|
| <input type="checkbox"/> Οξυγώνιο | <input type="checkbox"/> Ισόπλευρο |
| <input type="checkbox"/> Ορθογώνιο | <input type="checkbox"/> Ισοσκελές |
| <input type="checkbox"/> Αμβλυγώνιο | <input type="checkbox"/> Σκαληνό |

8



- | | |
|-------------------------------------|------------------------------------|
| <input type="checkbox"/> Οξυγώνιο | <input type="checkbox"/> Ισόπλευρο |
| <input type="checkbox"/> Ορθογώνιο | <input type="checkbox"/> Ισοσκελές |
| <input type="checkbox"/> Αμβλυγώνιο | <input type="checkbox"/> Σκαληνό |