

Δευτέρα 23 ε ρουαρίου 2026 Όνομα _____ Τμήμα: _____

Ελληνικά Μαθηματικά-Greek Math**Γεωμετρία**

Dear scholars,
This week we are:

1. Learning about lines, rays and angles.
2. Classifying angles.

Dear students,
Please follow this scedule:

Δευτέρα 2/23 σελίδες 1 και 2
Τρίτη 2/24 σελίδες 3 και 4

Επιστροφή**Due date**

ετάρτ 2/25
(till 5.00 p.m.)



Points, Lines, Rays, and Angles
 Σημεία, Γραμμές, Ημιευθείες και Γωνίες


μ point



$\mu\mu$ $\mu\mu$ line segment



$\mu\mu$ line

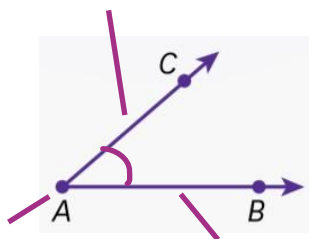


$\mu\mu$ $\mu\mu$ ray



angle

$\angle A$, $\angle CAB$, or $\angle BAC$.



Parallel lines




Perpendicular lines


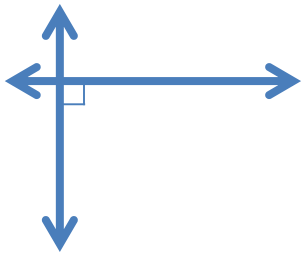
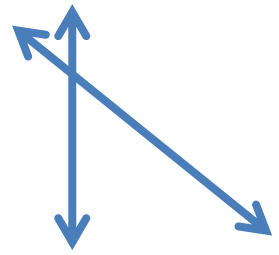
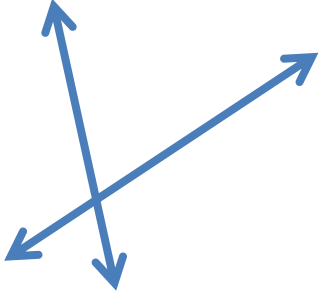

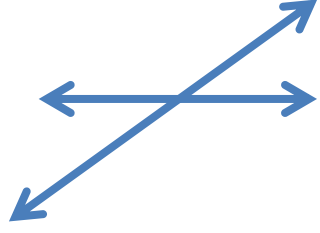


$\mu\mu$

Intersecting lines



Άσκηση: Γράψε: παράλληλες, κάθετες ή τεμνόμενες ευθείες.

| | | |
|--|--|--|
|  _____ |  _____ |  _____ |
|  _____ |  _____ |  _____ |

Σχεδιάσε τα ακόλουθα:

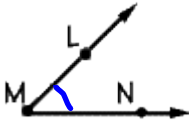
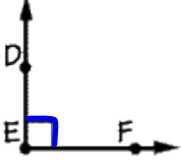
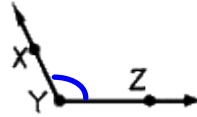
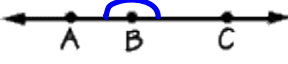
| | | |
|--|--|--|
| | | |
|--|--|--|

Παράλληλες ευθείες

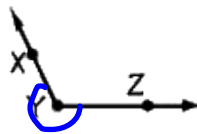
Κάθετες ευθείες

Τεμνόμενες ευθείες

Είδη γωνιών

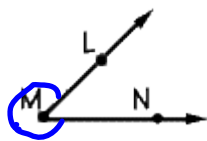
| | | |
|---------------------------|---|----------------------------|
| οξεία Acute |  | • $0^\circ < < 90^\circ$ |
| ορθή Right |  | • $= 90^\circ$ |
| αμβλεία Obtuse |  | • $90^\circ < < 180^\circ$ |
| ευθεία Straight |  | • $= 180^\circ$ |

μη κυρτή
Reflex angle



• $180^\circ < < 360^\circ$

μη κυρτή
Reflex angle



Άσκηση: Γράφω το είδος κάθε γωνίας

