

Α΄ Τάξη Ελληνικά Μαθηματικά

1st Grade Greek Math

HW # 22

Week of 2/16 - 2/20

Όνομα:.....

Τάξη: 1.....

✓ This week we will practice the names of the 2D and 3D shapes in Greek and we will focus angles and sides. Introduction to fractions will be given.

✓ Homework must be printed out, filled in and returned in the red folder.



Cinemath:

<https://cinemath.archimedean.org/>

login with archie username and password

click on “The AA Cinemath Portal” —Grade 1—1A— Greek Math

Notes :

✓ If you have any questions or concerns, please do not hesitate to email me at:

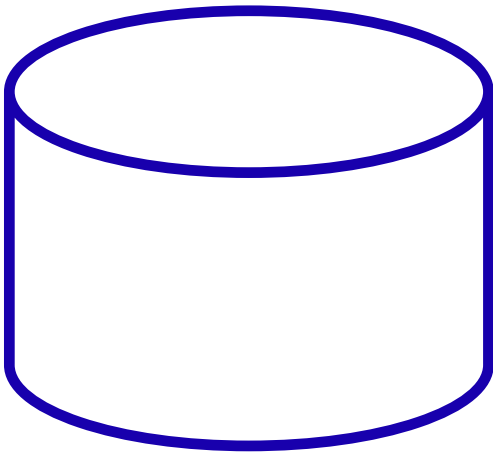
vasiliki.myrtsidou@archimedean.org

Reminders :

✓ Homework is due on Monday
February 23th

Εργασία 1

Πώς ονομάζεται το παρακάτω σχήμα; Κύκλωσε τη σωστή απάντηση.



Α. κύλινδρος

Β. σφαίρα

Γ. κώνος

Δ. κύβος

Εργασία 2

Ποιο από τα παρακάτω αντικείμενα μοιάζει με τη σφαίρα;
Κύκλωσε τη σωστή απάντηση.




Α



Β




Γ



Δ

Εργασία 3

Ποια πίτσα είναι κομμένη σε 4 ίσα κομμάτια;
Κύκλωσε τη σωστή απάντηση.



A



B



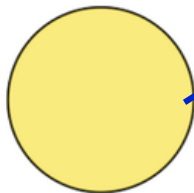
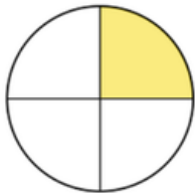
Γ



Δ

Εργασία 4

Αντιστοίχισε σωστά.



$$\frac{1}{2}$$

$$\frac{1}{3}$$

$$1$$

$$\frac{1}{4}$$

