

Archimedean Pre-K  
9 ΕΩΣ 14 ΦΕΒΡΟΥΑΡΙΟΥ 2026

ΟΝΟΜΑ: \_\_\_\_\_



Αυτή την εβδομάδα μαθαίνουμε....

Homework 17 Sect. 1

ΔΕΚΑΕΠΤΑ

17

ΚΥΚΛΟΣ



ΔΕΛΤΑ

Δ δ

δένδρο



\*Language:

-The letter: Δδ  
Listening, Speaking, Reading  
Writing.

\*Mathematics:

-Number: 17  
Counting and matching strategies,  
constructing sets, comparing  
quantities, ordering numbers,  
composing numbers.

\* Geometry:

-The circle  
\* Patterns

Πηγές ( Resources)

\*The Homework 17 Guide



**Εργασία στο σπίτι**



ΔΕΥΤΕΡΑ	ΤΡΙΤΗ	ΤΕΤΑΡΤΗ	ΠΕΜΠΤΗ	ΠΑΡΑΣΚΕΥΗ
Section 1 & 2	Section 3: 1, 2	Section 3: 3, 4	Section 3: 5, 6	<b>REVIEW:</b> Flash cards: the colors, the letters and Geometry. Count up to 17

HOMEWORK 17. Section 3. Activities. Activities should be turned in on Friday.

**ΟΝΟΜΑ:** .....

(ONOMA) NAME

**1. ΚΥΚΛΩΣΕ ΤΟ ΓΡΑΜΜΑ : Δ δ**

[KIKLOSE] TO YRAMMA: Δ δ) CIRCLE THE LETTER: Δ δ

Αα, Ββ, Γγ, Δδ, Εε, Ζζ,  
Ηη, Θθ, Ιι, Κκ, Λλ, Μμ,  
Νν, Ξξ, Οο, Ππ, Ρρ, Σσς,  
Ττ, Υυ, Φφ, Χχ, Ψψ, Ωω

**2. ΓΡΑΨΕ:**

(YRAPSE) WRITE

Δ Δ  
δ δ  
δάσος

**3.1. ΧΡΩΜΑΤΙΣΕ ΠΡΑΣΙΝΑ ΤΑ ΔΕΚΑ ΚΟΥΤΙΑ ΤΗΣ ΔΕΚΑΔΑΣ ΜΕ ΤΑ ΜΙΚΡΑ ΚΟΥΤΙΑ. ΧΡΩΜΑΤΙΣΕ ΚΑΦΕ ΤΑ ΕΠΤΑ ΚΟΥΤΙΑ ΤΗΣ ΔΕΚΑΔΑΣ ΜΕ ΤΑ ΜΕΓΑΛΥΤΕΡΑ ΚΟΥΤΙΑ.**

(*HROMATISE PRASINA TA THEKA KOUTIA TIS THEKATHAS ME TA MIKRA KOUTIA. HROMATISE KAFE TA EPTA KOUTIA TIS THEKATHAS ME TA MEYALITERA KOUTIA.*)

COLOR GREEN THE TEN SMALL BOXES OF THE GROUP OF THE TEN SMALL BOXES. COLOR BROWN SEVEN BOXES OF THE GROUP OF THE TEN BIGGER BOXES.



**3.2. ΜΕΤΡΗΣΕ. ΠΟΣΑ ΕΙΝΑΙ ΟΛΑ ΜΑΖΙ ΤΑ ΚΟΥΤΙΑ ΜΕ ΧΡΩΜΑ; ΠΕΣ ΤΟΝ ΑΡΙΘΜΟ. ΓΡΑΨΕ ΤΟΝ ΑΡΙΘΜΟ ΠΑΝΩ ΣΤΗ ΓΡΑΜΜΗ.** (*METRISE. POSA INE OLA MAZI TA KOUTIA ME HROMA? PES TON ARITHMO. YRAPSE TON ARITHMO PANO STI YRAMMI.*)

COUNT. HOW MANY ARE THE BOXES WITH COLOR ALL TOGETHER?  
WRITE THE NUMBER ON THE LINE.

.....

**3.3. ΜΕΤΡΗΣΕ ΚΑΙ ΓΡΑΨΕ ΤΟΥΣ ΑΡΙΘΜΟΥΣ.** COUNT AND WRITE THE NUMBERS.

.....

**ΠΡΑΣΙΝΑ ΚΟΥΤΙΑ**

*PRASINA KOUTIA*  
GREEN BOXES

**ΚΑΙ**

*KE*  
AND

.....

**ΚΑΦΕ ΚΟΥΤΙΑ**

*KAFE KOUTIA*  
BROWN BOXES

.....

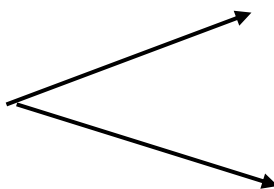
**ΤΑ ΚΟΥΤΙΑ ΜΕ ΧΡΩΜΑ ΟΛΑ ΜΑΖΙ**

*TA KOUTIA ME HROMA OLA MAZI*  
THE BOXES WITH COLOR ALL TOGETHER

**3.4 ΠΟΣΑ ΕΙΝΑΙ ΟΛΑ ΜΑΖΙ; ΓΡΑΨΕ ΤΟΝ ΑΡΙΘΜΟ ΜΕΣΑ ΣΤΟ ΚΟΥΤΙ.**

(*POSA INE OLA MAZI? YRAPSE TON ARITHMO MESA STO KOUTI*) HOW MANY ARE ALL TOGETHER? WRITE THE NUMBER IN THE BOX.

--



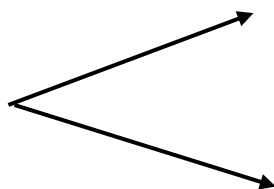
<b>10</b>
-----------

<b>7</b>
----------

**3.5 ΠΟΣΑ ΕΙΝΑΙ ΜΕΣΑ ΣΕ ΚΑΘΕ ΔΕΚΑΔΑ; ΓΡΑΨΕ ΤΟΥΣ ΑΡΙΘΜΟΥΣ ΜΕΣΑ ΣΤΑ ΚΟΥΤΙΑ.**

(*POSA INE MESA SE KATHE THEKATHA? YRAPSE TOUS ARITHMOUS MESA STA KOUTIA*) HOW MANY ARE IN EACH TEN FRAME? WRITE THE NUMBERS IN THE BOXES.

<b>17</b>
-----------



--

--

4. ΚΥΚΛΩΣΕ ΤΟΝ ΜΕΓΑΛΥΤΕΡΟ ΑΡΙΘΜΟ. (ΚΙΚΛΟΣΕ ΤΟΝ ΜΕΓΑΤΥΤΕΡΟ ΑΡΙΘΜΟ). CIRCLE THE NUMBER THAT IS GREATER

5

8

.....

9

7

.....

5. ΓΡΑΨΕ ΤΟΝ ΑΡΙΘΜΟ ΠΟΥ ΕΙΝΑΙ ΠΡΙΝ ΚΑΙ ΜΕΤΑ. (ΥΡΑΨΕ ΤΟΝ ΑΡΙΘΜΟ ΠΟΥ ΙΝΕ ΠΡΙΝ ΚΕ ΜΕΤΑ)  
WRITE THE NUMBER THAT COMES BEFORE AND AFTER.

.....,3,.....

.....,5,.....

.....,2,.....

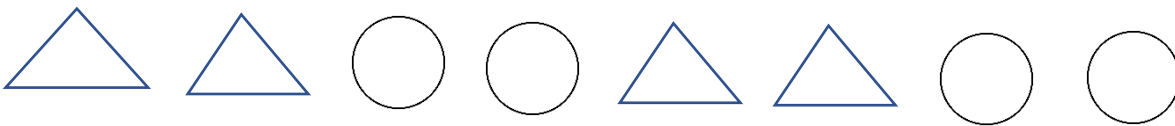
.....,4,.....

.....,6,.....

.....,7,.....

6. ΠΕΣ ΤΑ ΣΧΗΜΑΤΑ. ΣΧΕΔΙΑΣΕ ΤΟ ΣΧΗΜΑ ΠΟΥ ΕΙΝΑΙ ΜΕΤΑ. (ΠΕΣ ΤΑ ΣΧΗΜΑΤΑ. ΣΗΘΗΙΑΣΕ ΤΟ ΣΗΜΑ ΠΟΥ ΙΝΕ ΜΕΤΑ. SAY THE SHAPES.) DRAW THE SHAPE THAT COMES AFTER.

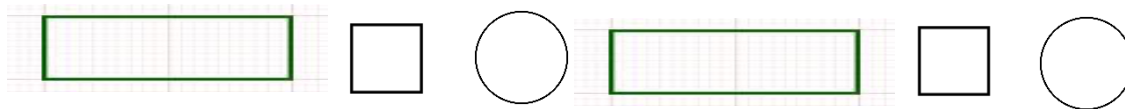
A.








B.



Γ.





**Να το δάσος.  
Να ο Σώτος.  
Να ο λαγός.  
Χοπ, χοπ, χοπ.**