

Α΄ Τάξη Ελληνικά Μαθηματικά

1st Grade Greek Math

HW # 20

Week of 2/2 - 2/6

Όνομα:.....

Τάξη: 1.....

✓ This week we will practice the names of the shapes in Greek and we will focus angles and sides. We will continue to practice subtraction using the “horizo” method with double digit numbers.

✓ Homework must be printed out, filled in and returned in the red folder.



Cinemath:

<https://cinemath.archimedean.org/>

login with archie username and password

click on “The AA Cinemath Portal” --Grade 1--1A-- Greek Math

Notes :

✓ If you have any questions or concerns, please do not hesitate to email me at:

vasiliki.myrtsidou@archimedean.org

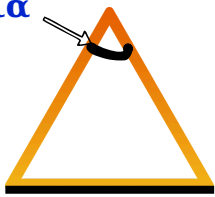
Reminders :

✓ Homework is due on Monday
February 9th


✓ **Test** on subtraction
Thursday, February 5

✓ **Test** on shapes Thursday,
February 12

γωνία



πλευρά



κύκλος



τετράγωνο




τρίγωνο



ορθογώνιο

Εργασία 1

Γράφω πόσα τρίγωνα, πόσα τετράγωνα, πόσα ορθογώνια και πόσους κύκλους βλέπω.



Τρίγωνα: Τετράγωνα: Ορθογώνια: Κύκλοι:

Εργασία 2

Σχεδιάζω και μετράω τις γωνίες και τις πλευρές που έχει το σπίτι.



Γωνίες:

Πλευρές:

Εργασία 3

Κάνω τις πράξεις .

$53 - 9 =$
 $\underline{\quad} + \underline{\quad} =$
 $\underline{\quad} - \underline{\quad} =$
 $\underline{\quad} - \underline{\quad} =$

$67 + 8 =$
 $\underline{\quad} + \underline{\quad} =$
 $\underline{\quad} + \underline{\quad} =$

Εργασία 4

Εκινώ από το 95. Μετρώ ανά 3 πηγαίνοντας πίσω.
Γράφω τους αριθμούς .

1	2	3	4	5	6	7	8	9	10
11	12	13	14	15	16	17	18	19	20
21	22	23	24	25	26	27	28	29	30
31	32	33	34	35	36	37	38	39	40
41	42	43	44	45	46	47	48	49	50
51	52	53	54	55	56	57	58	59	60
61	62	63	64	65	66	67	68	69	70
71	72	73	74	75	76	77	78	79	80
81	82	83	84	85	86	87	88	89	90
91	92	93	94	95	96	97	98	99	100

95, 92, 89

.....

.....

.....

.....

.....

.....

.....

.....

.....