


# HOMEWORK 18

Due Friday 1/30, upload no later than  
8am.



Ελληνικά Μαθηματικά

Όνομα: \_\_\_\_\_

Ημερομηνία: \_\_\_\_\_

Review the study guide below. We will  
have a Quiz on the Names of the  
Fractions on Friday 1/30.

*Study!*

1. Μάθε:

$\frac{1}{2}$  = ένα δεύτερο

2

$\frac{1}{3}$  = ένα τρίτο

3

$\frac{1}{4}$  = ένα τέταρτο

4

$\frac{1}{5}$  = ένα πέμπτο

5

$\frac{1}{6}$  = ένα έκτο

6

$\frac{1}{7}$  = ένα έβδομο

7

**Study!**

$$\frac{1}{8} = \text{ένα όγδοο}$$

$$\frac{1}{9} = \text{ένα ένατο}$$

$$\frac{1}{10} = \text{ένα δέκατο}$$

$$\frac{1}{11} = \text{ένα εντέκατο}$$

$$\frac{1}{12} = \text{ένα δωδέκατο}$$

$$\frac{1}{13} = \text{ένα δέκατο τρίτο}$$

$$\frac{1}{14} = \text{ένα δέκατο τέταρτο}$$

$$\frac{1}{15} = \text{ένα δέκατο πέμπτο}$$

$$\frac{1}{16} = \text{ένα δέκατο έκτο}$$

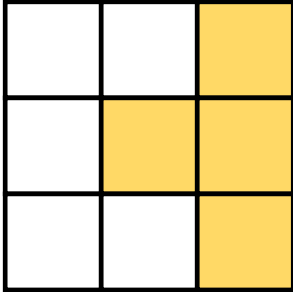
$$\frac{1}{17} = \text{ένα δέκατο έβδομο}$$

$$\frac{1}{18} = \text{ένα δέκατο όγδοο}$$


$$\frac{1}{19} = \text{ένα δέκατο ένατο}$$

ΚΛΑΣΜΑΤΙΚΕΣ ΜΟΝΑΔΕΣ ΚΑΙ ΚΛΑΣΜΑΤΙΚΟΙ ΑΡΙΘΜΟΙ


1. Γράφω το κλάσμα που δηλώνει το χρωματισμένο μέρος κάθε σχήματος.



\_\_\_\_\_

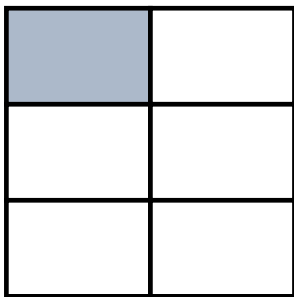


\_\_\_\_\_



\_\_\_\_\_

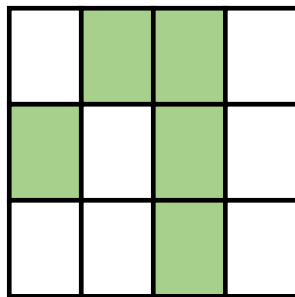
Τα κλάσματα που έχουν αριθμητή το ένα λέγονται **κλασματικές μονάδες**. Τα υπόλοιπα λέγονται **απλοί κλασματικοί αριθμοί**.



\_\_\_\_\_



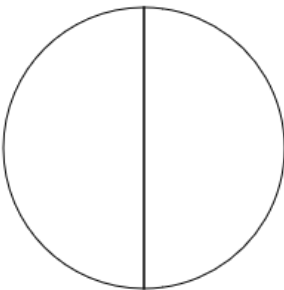
\_\_\_\_\_



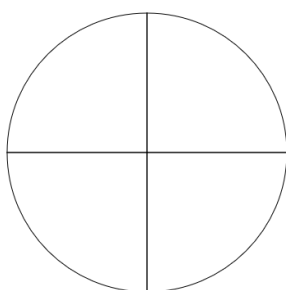
\_\_\_\_\_



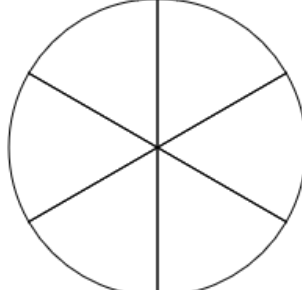
2. Χρωματίζω το μέρος του κύκλου που μου δείχνει κάθε κλάσμα.



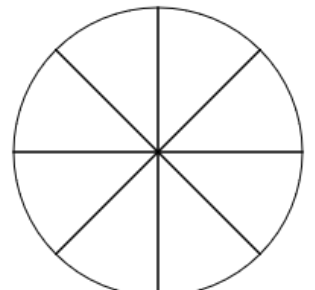
$$\frac{1}{2}$$



$$\frac{4}{4}$$



$$\frac{3}{6}$$



$$\frac{7}{8}$$

1. Γράφω το κατάλληλο κλάσμα, που δείχνει τι μέρος κάθε σχήματος είναι χρωματισμένο.



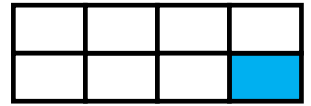
\_\_\_\_\_



\_\_\_\_\_




\_\_\_\_\_



\_\_\_\_\_

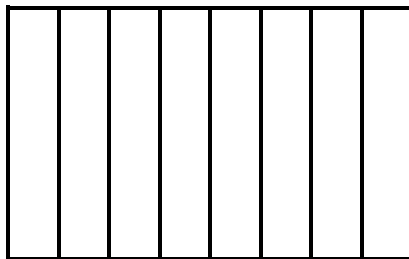
2. Χρωματίζω το μέρος του σχήματος που μου δείχνει το κλάσμα. Έπειτα γράφω το **όνομα** του κλάσματος με λέξεις.

$$\frac{1}{5}$$



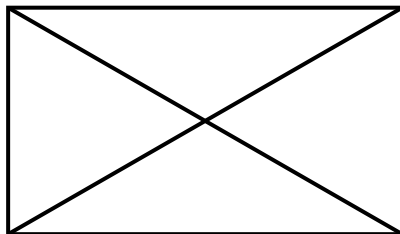
\_\_\_\_\_

$$\frac{1}{8}$$




\_\_\_\_\_

$$\frac{1}{4}$$



\_\_\_\_\_

$$\frac{1}{6}$$



\_\_\_\_\_