

Archimedean Pre-K
12 ΕΩΣ 16 Ιανουαρίου 2026



ΟΝΟΜΑ: _____

ΕΠΑΝΑΛΗΨΗ

Πηγές (Resources)

*The Homework Guides



Εργασία στο σπίτι



ΔΕΥΤΕΡΑ	ΤΡΙΤΗ	ΤΕΤΑΡΤΗ	ΠΕΜΠΤΗ	ΠΑΡΑΣΚΕΥΗ
Review the letters, and the vocabulary: the stories and the flash cards.	Section 3: 1, 2	Section 3: 3, 4	Identify and write the numbers up to 13	NO SCHOOL

HOMEWORK: REVIEW

ΟΝΟΜΑ:

(ΟΝΟΜΑ) NAME

1. ΤΙ ΕΙΝΑΙ ΑΥΤΟ; ΓΡΑΨΕ ΤΙΣ ΛΕΞΕΙΣ. WHAT IS THIS? WRITE THE WORDS.



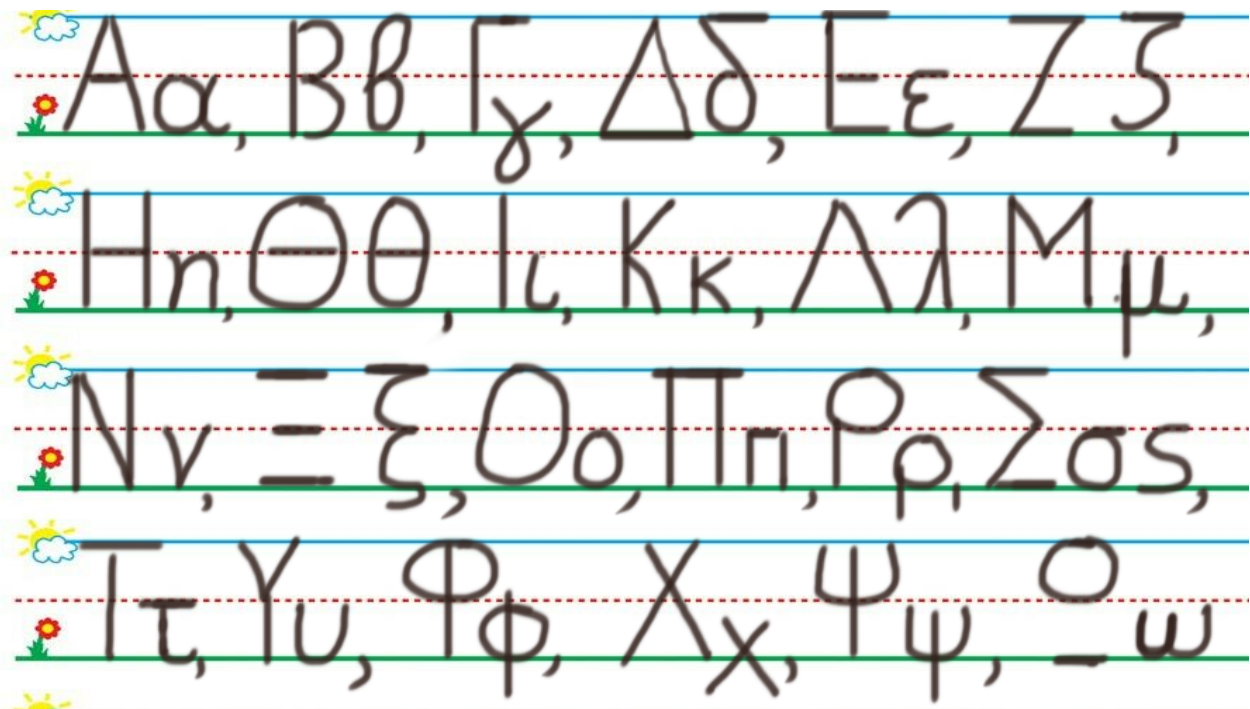
.....



.....


2. ΚΥΚΛΩΣΕ ΚΑΙ ΠΕΣ ΤΑ ΓΡΑΜΜΑΤΑ ΠΟΥ ΒΡΙΣΚΟΝΤΑΙ ΣΤΗΝ ΛΕΞΗ “μήλο”

CIRCLE AND SAY THE LETTERS OF THE WORD: “μήλο”



3. Η ΕΛΛΗ ΕΧΕΙ ΔΥΟ ΑΧΛΑΔΙΑ ΚΑΙ Η ΑΝΝΑ ΕΧΕΙ ΠΕΝΤΕ ΑΧΛΑΔΙΑ. (I ELLI EHI THIO AHLATHIA KE I ANNA EHI PENTE AHLATHIA) ELLI HAS 2 PEARS AND ANNA HAS 5 PEARS.

ΖΩΡΑΦΙΣΕ ΤΑ ΑΧΛΑΔΙΑ ΚΑΤΩ ΑΠΟ ΤΟ ΣΩΣΤΟ ΑΡΙΘΜΟ. ΖΟΥΡΑΦΙΣΕ ΤΑ ΑΧΛΑΔΙΑ. DRAW THE PEARS.



• **ΠΟΙΑ ΕΧΕΙ ΛΙΓΟΤΕΡΑ ΑΧΛΑΔΙΑ;**
ΓΡΑΨΕ ΤΟ ΟΝΟΜΑ ΤΗΣ ΣΤΗ ΓΡΑΜΜΗ.
(ΠΙΑ ΕΗΙ ΛΙΥΟΤΕΡΑ ΑΗΛΑΘΙΑ? ΥΡΑΨΕ ΤΟ ΟΝΟΜΑ ΤΙΣ ΠΑΝΟ ΣΤΙ ΥΡΑΜΜΙ)

WHO HAS FEWER PEARS? WRITE HER NAME ON THE LINE.


• **ΠΟΙΑ ΕΧΕΙ ΠΕΡΙΣΣΟΤΕΡΑ ΑΧΛΑΔΙΑ;**
ΓΡΑΨΕ ΤΟ ΟΝΟΜΑ ΤΗΣ ΣΤΗ ΓΡΑΜΜΗ.
(ΠΙΑ ΕΗΙ ΠΕΡΙΣΣΟΤΕΡΑ ΑΗΛΑΘΙΑ? ΥΡΑΨΕ ΤΟ ΟΝΟΜΑ ΤΙΣ ΠΑΝΟ ΣΤΙ ΥΡΑΜΜΙ)

WHO HAS MORE PEARS? WRITE HER NAME ON THE LINE.

• **ΠΕΣ ΤΟΥΣ ΑΡΙΘΜΟΥΣ ΚΑΙ ΚΥΚΛΩΣΕ ΤΟΝ ΜΕΓΑΛΥΤΕΡΟ ΑΡΙΘΜΟ.**
(ΣΚΕΨΟΥ ΤΗ ΣΕΙΡΑ ΠΟΥ ΜΕΤΡΑΣ ΚΑΘΩΣ ΣΥΓΚΡΙΝΕΙΣ ΤΟΥΣ ΑΡΙΘΜΟΥΣ)
(ΠΕΣ ΤΟΥΣ ΑΡΙΘΜΟΥΣ ΚΕ ΚΙΚΛΟΣΕ ΤΟΝ ΜΕΥΑΛΙΤΕΡΟ ΑΡΙΘΗΜΟ. (ΣΚΕΨΟΥ ΤΙ ΣΙΡΑ ΠΟΥ ΜΕΤΡΑΣ ΚΑΘΟΣ ΣΙΓΡΙΝΙΣ ΤΟΥΣ ΑΡΙΘΗΜΟΥΣ.)
SAY THE NUMBERS. CIRCLE THE GREATER NUMBER. (THINK ABOUT THE COUNTING ORDER AS YOU COMPARE THE NUMBERS.)

2

5



4. ΧΡΩΜΑΤΙΣΕ ΠΕΝΤΕ ΚΟΥΤΙΑ ΚΟΚΚΙΝΑ ΚΑΙ ΠΕΝΤΕ ΚΟΥΤΙΑ ΚΙΤΡΙΝΑ.

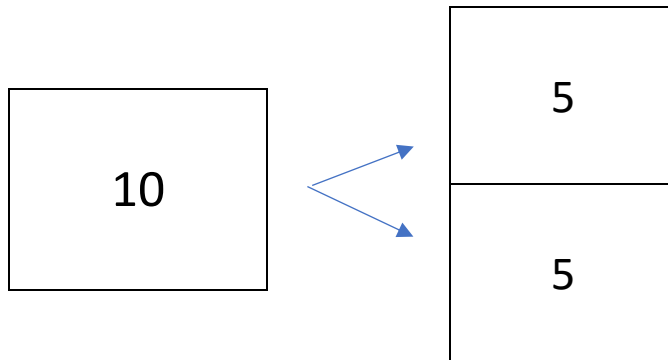
ΠΟΣΑ ΕΙΝΑΙ ΟΛΑ ΜΑΖΙ; ΓΡΑΨΕ ΤΟΝ ΑΡΙΘΜΟ.

(ΧΡΩΜΑΤΙΣΕ ΠΕΝΤΕ ΚΟΥΤΙΑ ΚΟΚΚΙΝΑ ΚΑΙ ΠΕΝΤΕ ΚΟΥΤΙΑ ΚΙΤΡΙΝΑ. ΠΟΣΑ ΙΝΕ ΟΛΑ ΜΑΖΙ? ΥΡΑΨΕ ΤΟΝ ΑΡΙΘΜΟ.)

COLOR RED FIVE BOXES AND COLOR YELLOW FIVE BOXES. HOW MANY ARE ALL TOGETHER? WRITE THE NUMBER.

5 ΚΟΚΚΙΝΑ ΚΑΙ 5 ΚΙΤΡΙΝΑ ΟΛΑ ΜΑΖΙ

- **ΓΡΑΨΕ ΤΟΝ ΑΡΙΘΜΟ ΠΟΥ ΛΕΙΠΕΙ ΜΕΣΑ ΣΤΟ ΚΟΥΤΙ.** (ΥΡΑΨΕ ΤΟΝ ΑΡΙΘΜΟ ΠΟΥ ΛΙΠΙ ΜΕΣΑ ΣΤΟ ΚΟΥΤΙ.)
WRITE THE MISSING NUMBER IN THE BOX.



- **ΓΡΑΨΕ ΤΟΝ ΑΡΙΘΜΟ ΠΟΥ ΛΕΙΠΕΙ ΜΕΣΑ ΣΤΟ ΚΟΥΤΙ.** (ΥΡΑΨΕ ΤΟΝ ΑΡΙΘΜΟ ΠΟΥ ΛΙΠΙ ΜΕΣΑ ΣΤΟ ΚΟΥΤΙ.)
WRITE THE MISSING NUMBER IN THE BOX.

