

Archimedean Pre-K
10 ΕΩΣ 14 ΝΟΕΜΒΡΙΟΥ 2025

ΟΝΟΜΑ: _____



Αυτή την εβδομάδα μαθαίνουμε....


- *Language:
 - The letter: Π π
 - Color: Μαύρο
- Listening, Speaking, Reading Writing.
- *Mathematics:
 - Number: 9
- Counting and matching strategies, constructing sets, comparing quantities, ordering numbers.

Homework 9, Sect. 1

ΕΝΝΕΑ	9
-------	---

ΜΑΥΡΟ	
-------	---

ΠΙ	Π π
----	-----

ΠΑΠΙ	
------	--

Πηγές (Resources)

*The Homework 9 Guide



Εργασία στο σπίτι



ΔΕΥΤΕΡΑ	ΤΡΙΤΗ	ΤΕΤΑΡΤΗ	ΠΕΜΠΤΗ	ΠΑΡΑΣΚΕΥΗ
Section 1 & 2 Section 3: 1, 2	NO SCHOOL	Section 3: 3, 4	Section 3: 5	REVIEW: THE COLORS IN GREEK NUMBER IDENTIFICATION AND WRITING

HOMEWORK 9. Section 3

ΟΝΟΜΑ:
(ONOMA) NAME

1. ΚΥΚΛΩΣΕ ΤΟ ΓΡΑΜΜΑ : Π π

(KYKLOSE TO YRAMMA: Π π.) CIRCLE THE LETTER: Π π

2. ΓΡΑΨΕ :

(YRAPSE :.) WRITE :

3.1 ΠΕΣ ΤΟΝ ΑΡΙΘΜΟ: ΕΝΝΕΑ

(PES TON ARITHMO: ENNEA) SAY THE NUMBER: NINE

ΧΡΩΜΑΤΙΣΕ ΜΑΥΡΑ ΤΟΣΑ ΚΟΥΤΙΑ ΟΣΑ ΛΕΕΙ Ο ΑΡΙΘΜΟΣ.

(HROMATISE MAVRA TOSA KOUTIA OSA LEI O ARITHMOS.) COLOR BLACK AS MANY BOXES AS THE NUMBER SAYS.

3.2 ΜΕΤΡΗΣΕ. ΠΟΣΑ ΕΙΝΑΙ ΤΑ ΜΑΥΡΑ ΚΟΥΤΙΑ;

(METRISE. POSA EINAI TA MAVRA KOUTIA?) COUNT. HOW MANY ARE THE BLACK BOXES?

ΠΕΣ ΤΟΝ ΑΡΙΘΜΟ. ΓΡΑΨΕ ΤΟΝ ΑΡΙΘΜΟ ΜΕΣΑ ΣΤΟ ΚΟΥΤΙ. (PES TON ARITHMO.) SAY THE NUMBER. (YRAPSE TON ARITHMO MESA STO KOUTI.) WRITE THE NUMBER IN THE BOX.

--

3.3 ΜΕΤΡΗΣΕ. ΠΟΣΑ ΕΙΝΑΙ ΤΑ ΑΣΠΡΑ ΚΟΥΤΙΑ;

(METRISE. POSA EINAI TA ASPRA KOUTIA?) COUNT. HOW MANY ARE THE WHITE BOXES?

ΠΕΣ ΤΟΝ ΑΡΙΘΜΟ. ΓΡΑΨΕ ΤΟΝ ΑΡΙΘΜΟ ΜΕΣΑ ΣΤΟ ΚΟΥΤΙ.

(PES TON ARITHMO.) SAY THE NUMBER. (YRAPSE TON ARITHMO MESA STO KOUTI.) WRITE THE NUMBER IN THE BOX.

--

3.4 ΕΙΝΑΙ ΤΑ ΜΑΥΡΑ ΚΟΥΤΙΑ ΤΟΣΑ ΟΣΑ ΤΑ ΑΣΠΡΑ ΚΟΥΤΙΑ; ΚΥΚΛΩΣΕ ΤΗ ΣΩΣΤΗ ΛΕΞΗ.

(INE TA MAVRA KOUTIA TOSA OSA TA ASPRA KOUTIA? KIKLOSE TI SOSTI LEXI.) ARE THE BLACK BOXES AS MANY AS THE WHITE ONES? CIRCLE THE RIGHT WORD.

ΝΑΙ

ΟΧΙ

3.5 ΕΙΝΑΙ ΤΑ ΜΑΥΡΑ ΚΟΥΤΙΑ ΙΣΑ ΣΤΟΝ ΑΡΙΘΜΟ ΜΕ ΤΑ ΑΣΠΡΑ; ΚΥΚΛΩΣΕ ΤΗ ΣΩΣΤΗ

ΛΕΞΗ. (INE TA MAVRA KOUTIA ISA STON ARITHMO ME TA ASPRA? KIKLOSE TI SOSTI LEXI.) IS THE NUMBER OF THE BLACK BOXES EQUAL TO THE NUMBER OF THE WHITE ONES? CIRCLE THE RIGHT WORD.

ΝΑΙ

ΟΧΙ

3.6 ΕΙΝΑΙ ΤΑ ΜΑΥΡΑ ΚΟΥΤΙΑ ΠΕΡΙΣΣΟΤΕΡΑ ΑΠΟ ΤΑ ΑΣΠΡΑ; ΚΥΚΛΩΣΕ ΤΗ ΣΩΣΤΗ ΛΕΞΗ.

(INE TA MAVRA KOUTIA PERISSOTERA APO TA ASPRA? KIKLOSE TI SOSTI LEXI.) ARE THE BLACK BOXES MORE THAN THE WHITE ONES? CIRCLE THE RIGHT WORD.

ΝΑΙ

ΟΧΙ

3.7 ΕΙΝΑΙ ΤΑ ΜΑΥΡΑ ΚΟΥΤΙΑ ΛΙΓΟΤΕΡΑ ΑΠΟ ΤΑ ΑΣΠΡΑ; ΚΥΚΛΩΣΕ ΤΗ ΣΩΣΤΗ ΛΕΞΗ.

(*INE TA MAVRA KOUTIA LIYOTERA APO TA ASPRA? KIKLOSE TI SOSTI LEXI.*) ARE THE BLACK BOXES FEWER THAN THE WHITE ONES? CIRCLE THE RIGHT WORD.

ΝΑΙ

ΟΧΙ

4.1 ΠΟΣΑ ΕΙΝΑΙ ΤΑ ΠΑΠΙΑ; ΓΡΑΨΕ ΤΟΝ ΑΡΙΘΜΟ.

(*POSA INE TA PAPIA? YRAPSE TON ARITHMO.*) HOW MANY ARE THE DUCKS?

WRITE THE NUMBER.

.....



4.2. ΠΟΣΑ ΠΑΠΙΑ ΕΙΝΑΙ ΜΕΣΑ ΣΤΟ

ΝΕΡΟ;

(*POSA PAPIA INE MESA STO NERO? YRAPSE TON ARITHMO.*)

HOW MANY DUCKS ARE IN THE WATER? WRITE THE NUMBER.

.....

4.3 ΠΟΣΑ ΠΑΠΙΑ ΕΙΝΑΙ ΕΞΩ ΑΠΟ ΤΟ ΝΕΡΟ;

(*POSA PAPIA INE MESA STO NERO? YRAPSE TON ARITHMO.*)

HOW MANY DUCKS ARE OUT OF THE WATER? WRITE THE NUMBER.

.....

4.4 ΕΙΝΑΙ ΤΑ ΠΑΠΙΑ ΕΞΩ ΑΠΟ ΤΟ ΝΕΡΟ ΠΕΡΙΣΣΟΤΕΡΑ; ΚΥΚΛΩΣΕ ΤΗ ΣΩΣΤΗ ΛΕΞΗ.


(*INE TA PAPIA EXO APO TO NERO PERISSOTERA? KIKLOSE TI SOSTI LEXI.*) ARE THE DUCKS OUT OF THE WATER MORE? CIRCLE THE RIGHT WORD.

ΝΑΙ

ΟΧΙ

5. ΖΩΓΡΑΦΙΣΕ ΜΕΣΑ ΣΤΟΝ ΕΝΑ ΚΥΚΛΟ ΔΥΟ ΚΙΤΡΙΝΑ ΠΑΠΙΑ. ΖΩΓΡΑΦΙΣΕ ΜΕΣΑ ΣΤΟΝ ΑΛΛΟ ΚΥΚΛΟ ΠΕΡΙΣΣΟΤΕΡΑ ΚΙΤΡΙΝΑ ΠΑΠΙΑ.

(ΖΟΥΡΑΦΙΣΕ ΜΕΣΑ ΣΤΟΝ ΕΝΑΝ ΚΥΚΛΟ ΤΗΥΟ ΚΙΤΡΙΝΑ ΠΑΠΙΑ. ΖΟΥΡΑΦΙΣΕ ΜΕΣΑ ΣΤΟΝ ΑΛΛΟ ΚΥΚΛΟ ΠΕΡΙΣΣΟΤΕΡΑ ΚΙΤΡΙΝΑ ΠΑΠΙΑ.) DRAW TWO YELLOW DUCKS IN ONE OF THE CIRCLES. DRAW MORE YELLOW DUCKS IN THE OTHER CIRCLE.




Π π



Πα πα πα ...

Πι πι πι ...



-Έλα, Μίμη.

Να, ένα παπί.

