

Archimedean Pre-K

3 ΕΩΣ 7 ΝΟΕΜΒΡΙΟΥ 2025

ΟΝΟΜΑ: _____



Αυτή την εβδομάδα μαθαίνουμε....

Homework 8 Sect. 1

ΟΚΤΩ

8

ΚΟΚΚΙΝΟ



ΜΙ

Μ μ

ΜΗΛΟ



*Language:

-The letter: Μ μ

-Color: Κόκκινο

Listening, Speaking, Reading
Writing.

*Mathematics:

-Number: 8

Counting and matching strategies,
constructing sets, comparing
quantities, ordering numbers.

Πηγές (Resources)

*The Homework 8 Guide



Εργασία στο σπίτι



ΔΕΥΤΕΡΑ	ΤΡΙΤΗ	ΤΕΤΑΡΤΗ	ΠΕΜΠΤΗ	ΠΑΡΑΣΚΕΥΗ
NO SCHOOL	Section 1 & 2 Section 3: 1, 2	Section 3: 3, 4	Section 3: 5, 6	REVIEW: 1. Flash cards (Homework 1, 2, 3, 4, 5, 6, 7, 8) 2. Number recognition and writing each number at digit form

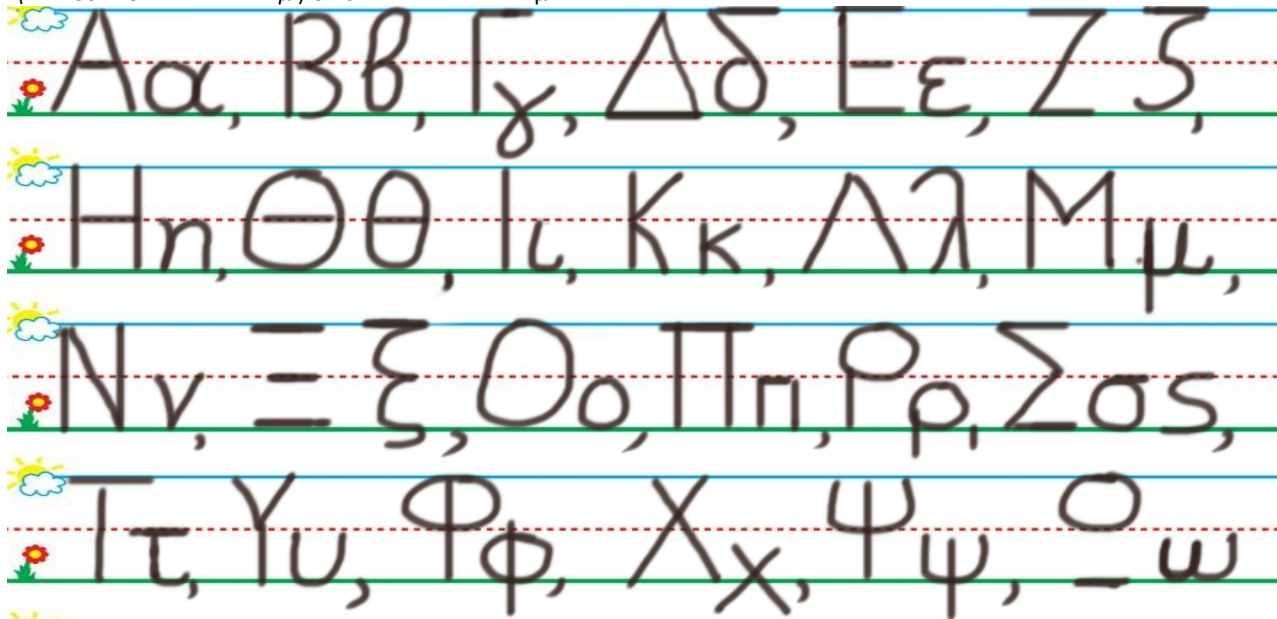
HOMEWORK 8. Section 3

ΟΝΟΜΑ:

(ΟΝΟΜΑ) NAME


1. ΚΥΚΛΩΣΕ ΤΟ ΓΡΑΜΜΑ Μ μ:

(ΚΥΚΛΩΣΕ ΤΟ ΥΡΑΜΜΑ: Μ μ.) CIRCLE THE LETTER: Μ μ



2. ΓΡΑΨΕ ΤΟ ΓΡΑΜΜΑ Μ μ ΚΑΙ ΤΙΣ ΛΕΞΕΙΣ:

(ΥΡΑΨΕ ΤΟ ΥΡΑΜΜΑ: Μ μ. ΚΕ ΤΙΣ ΛΕΞΙΣ) WRITE THE LETTER: Μ μ AND THE WORDS



3.1 ΠΕΣ ΤΟΝ ΑΡΙΘΜΟ: ΟΚΤΩ

(PES TON ARITHMO: OKTO) SAY THE NUMBER: EIGHT

ΧΡΩΜΑΤΙΣΕ ΚΟΚΚΙΝΑ ΤΟΣΑ ΚΟΥΤΙΑ ΟΣΑ ΛΕΕΙ Ο ΑΡΙΘΜΟΣ.

(HROMATISE KOKKINA TOSA KOUTIA OSA LEI O ARITHMOS.) COLOR RED AS MANY BOXES AS THE NUMBER SAYS.

3.2 ΜΕΤΡΗΣΕ. ΠΟΣΑ ΕΙΝΑΙ ΤΑ ΚΟΚΚΙΝΑ ΚΟΥΤΙΑ;

(METRISE. POSA EINAI TA KOKKINA KOUTIA?) COUNT. HOW MANY ARE THE RED BOXES?

ΠΕΣ ΤΟΝ ΑΡΙΘΜΟ. ΓΡΑΨΕ ΤΟΝ ΑΡΙΘΜΟ ΜΕΣΑ ΣΤΟ ΚΟΥΤΙ. (PES TON ARITHMO.) SAY THE NUMBER. (YRAPSE TON ARITHMO MESA STO KOUTI.) WRITE THE NUMBER IN THE BOX.

3.3 ΜΕΤΡΗΣΕ. ΠΟΣΑ ΕΙΝΑΙ ΤΑ ΑΣΠΡΑ ΚΟΥΤΙΑ;

(METRISE. POSA EINAI TA ASPRA KOUTIA?) COUNT. HOW MANY ARE THE WHITE BOXES?

ΠΕΣ ΤΟΝ ΑΡΙΘΜΟ. ΓΡΑΨΕ ΤΟΝ ΑΡΙΘΜΟ ΜΕΣΑ ΣΤΟ ΚΟΥΤΙ. (PES TON ARITHMO.) SAY THE NUMBER. (YRAPSE TON ARITHMO MESA STO KOUTI.) WRITE THE NUMBER IN THE BOX.

3.4 ΕΙΝΑΙ ΤΑ ΚΟΚΚΙΝΑ ΚΟΥΤΙΑ ΤΟΣΑ ΟΣΑ ΤΑ ΑΣΠΡΑ ΚΟΥΤΙΑ; ΚΥΚΛΩΣΕ ΤΗ ΣΩΣΤΗ

ΛΕΞΗ. (INE TA KOKKINA KOUTIA TOSA OSA TA ASPRA KOUTIA? KIKLOSE TI SOSTI LEXI.) ARE THE RED BOXES AS MANY AS THE WHITE ONES? CIRCLE THE RIGHT WORD.

ΝΑΙ

ΟΧΙ

3.5 ΕΙΝΑΙ ΤΑ ΚΟΚΚΙΝΑ ΚΟΥΤΙΑ ΙΣΑ ΣΤΟΝ ΑΡΙΘΜΟ ΜΕ ΤΑ ΑΣΠΡΑ; ΚΥΚΛΩΣΕ ΤΗ ΣΩΣΤΗ

ΛΕΞΗ. (INE TA KOKKINA KOUTIA ISA STON ARITHMO ME TA ASPRA?) IS THE NUMBER OF THE RED BOXES EQUAL TO THE NUMBER OF THE WHITE ONES? CIRCLE THE RIGHT WORD.

ΝΑΙ

ΟΧΙ

3.6 ΕΙΝΑΙ ΤΑ ΚΟΚΚΙΝΑ ΚΟΥΤΙΑ ΠΕΡΙΣΣΟΤΕΡΑ ΑΠΟ ΤΑ ΑΣΠΡΑ; ΚΥΚΛΩΣΕ ΤΗ ΣΩΣΤΗ

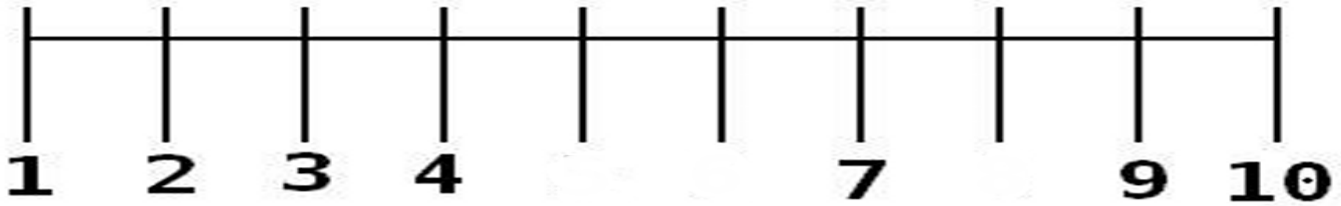
ΛΕΞΗ. (INE TA KOKKINA KOUTIA PERISSOTERA APO TA ASPRA?) ARE THE RED BOXES MORE THAN THE WHITE ONES? CIRCLE THE RIGHT WORD.

ΝΑΙ

ΟΧΙ

4. ΒΑΛΕ ΤΟΝ ΑΡΙΘΜΟ ΠΕΝΤΕ, ΤΟΝ ΑΡΙΘΜΟ ΕΞΙ ΚΑΙ ΤΟΝ ΑΡΙΘΜΟ ΟΚΤΩ ΠΑΝΩ ΣΤΗΝ ΑΡΙΘΜΟΓΡΑΜΜΗ.


(VALE ΤΟΝ ΑΡΙΘΜΟ ΠΕΝΤΕ ΤΟΝ ΑΡΙΘΜΟ ΕΞΙ ΚΑΙ ΤΟΝ ΑΡΙΘΜΟ ΟΚΤΩ ΠΑΝΟ ΣΤΙΝ ΑΡΙΘΜΟΓΡΑΜΜΗ) PUT THE NUMBER FIVE, THE NUMBER SIX AND THE NUMBER EIGHT ON THE NUMBER LINE.



5 8 6


5. ΧΡΩΜΑΤΙΣΕ ΜΕ ΚΟΚΚΙΝΟ ΧΡΩΜΑ ΤΗΝ ΤΣΑΝΤΑ ΜΕ ΤΑ ΠΕΡΙΣΣΟΤΕΡΑ ΜΗΛΑ ΚΑΙ ΜΕ ΠΡΑΣΙΝΟ ΧΡΩΜΑ ΤΗΝ ΤΣΑΝΤΑ ΜΕ ΤΑ ΛΙΓΟΤΕΡΑ ΜΗΛΑ.

(HROMATISE ME KOKKINO HROMA TIN TSANTA ME TA PERISSOTERA MILA KE ME PRASINO HROMA THN TSANTA ME TA LIYOTERA MILA.) COLOR RED THE BAG WITH THE MORE APPLES AND GREEN THE BAG WITH THE FEWER APPLES.




6. ΖΩΓΡΑΦΙΣΕ 8 ΜΗΛΑ ΠΑΝΩ ΣΤΟ ΔΕΝΔΡΟ ΚΑΙ ΛΙΓΟΤΕΡΑ ΜΗΛΑ ΚΑΤΩ ΑΠΟ ΤΟ ΔΕΝΔΡΟ

(ΖΟΥΡΑΦΙΣΕ ΟΚΤΟ ΜΗΛΑ ΠΑΝΩ ΣΤΟ ΤΗΝΕΤΗΡΟ ΚΑΙ ΛΙΥΟΤΕΡΑ ΜΗΛΑ ΚΑΤΟ ΑΠΟ ΤΟ ΤΗΝΕΤΗΡΟ.) DRAW 8 APPLES ON THE TREE AND FEWER APPLES UNDER THE TREE.



Μ μ



- Έλα, Άννα.

Έλα, Έλλη.

Έλα, Λόλα.

Να, ένα μήλο.

Να, μήλα.