

Archimedean Pre-K

27 ΕΩΣ 31 ΟΚΤΩΒΡΙΟΥ 2025

ΟΝΟΜΑ: _____



Αυτή την εβδομάδα μαθαίνουμε....

*Language:

-The letter: Η η

-Color: Πορτοκαλί

Listening, Speaking, Reading
Writing.

*Mathematics:

-Number: 7

Counting and matching strategies,
constructing sets, comparing
quantities, ordering numbers.

Πηγές (Resources)

*The Homework 7 Guide

Homework 7.Sect. 1



ΕΠΤΑ

7

ΠΟΡΤΟΚΑΛΙ



ΗΤΑ

Η η

ΗΛΙΟΣ



Εργασία στο σπίτι



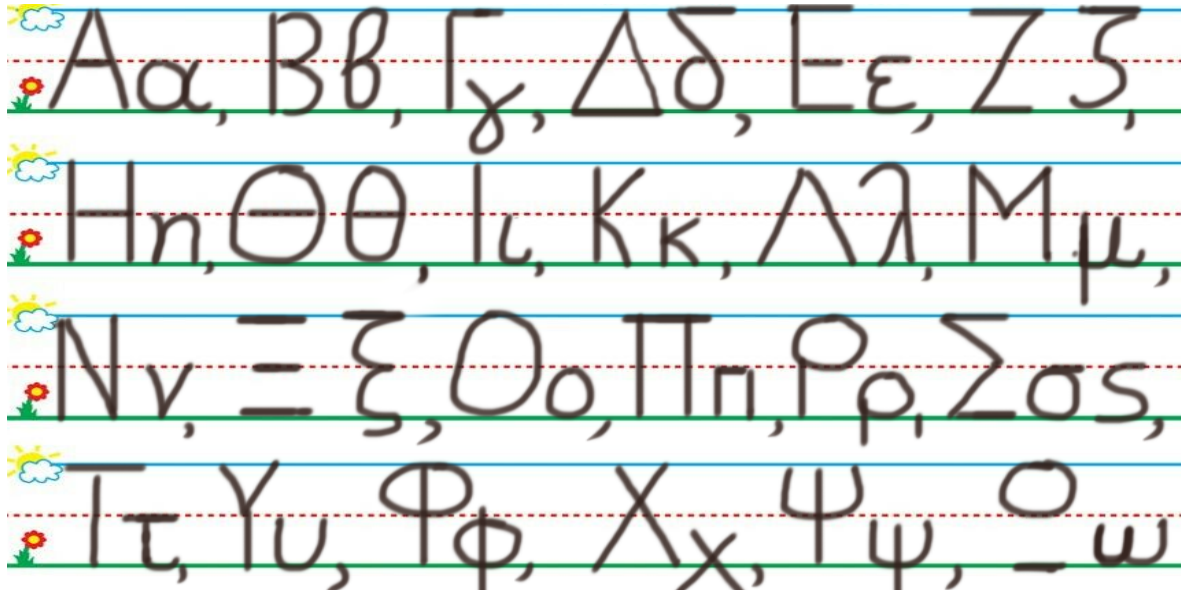
ΔΕΥΤΕΡΑ	ΤΡΙΤΗ	ΤΕΤΑΡΤΗ	ΠΕΜΠΤΗ	ΠΑΡΑΣΚΕΥΗ
Section 1 & 2 Review: Τι είναι αυτό; Πού είναι; Πόσα είναι;	Section 3: 1, 2	Section 3: 3	Section 3: 4	REVIEW: 1.Number recognition and writing each number at digit form 2. The colors

HOMEWORK 7. Sect. 3.

ΟΝΟΜΑ:
(ΟΝΟΜΑ) NAME


1. ΚΥΚΛΩΣΕ ΤΟ ΓΡΑΜΜΑ Η η:

(ΚΥΚΛΩΣΕ ΤΟ ΓΡΑΜΜΑ: Η η) CIRCLE THE LETTER: Η η



2. ΓΡΑΨΕ ΤΟ ΓΡΑΜΜΑ Η η ΚΑΙ ΤΙΣ ΛΕΞΕΙΣ:

(ΓΡΑΨΕ ΤΟ ΓΡΑΜΜΑ: Η Η ΚΕ ΤΙΣ ΛΕΞΙΣ) WRITE THE LETTER: Η η AND THE WORDS.



3.1 ΠΕΣ ΤΟΝ ΑΡΙΘΜΟ: ΕΠΤΑ

(PES TON ARITHMO: EPTA) SAY THE NUMBER: SEVEN

ΧΡΩΜΑΤΙΣΕ ΠΟΡΤΟΚΑΛΙ ΤΟΣΑ ΚΟΥΤΙΑ ΟΣΑ ΛΕΕΙ Ο ΑΡΙΘΜΟΣ.

(HROMATISE PORTOKALI TOSA KOUTIA OSA LEI O ARITHMOS.) COLOR ORANGE AS MANY BOXES AS THE NUMBER SAYS.

3.2 ΜΕΤΡΗΣΕ. ΠΟΣΑ ΕΙΝΑΙ ΤΑ ΠΟΡΤΟΚΑΛΙ ΚΟΥΤΙΑ;

(METRISE. POSA EINAI TA PORTOKALI KOUTIA?) COUNT. HOW MANY ARE THE ORANGE BOXES?

ΠΕΣ ΤΟΝ ΑΡΙΘΜΟ. ΓΡΑΨΕ ΤΟΝ ΑΡΙΘΜΟ ΜΕΣΑ ΣΤΟ ΚΟΥΤΙ.

(PES TON ARITHMO.) SAY THE NUMBER. (YRAPSE TON ARITHMO MESA STO KOUTI.) WRITE THE NUMBER IN THE BOX.

3.3 ΜΕΤΡΗΣΕ. ΠΟΣΑ ΕΙΝΑΙ ΤΑ ΑΣΠΡΑ ΚΟΥΤΙΑ;

(METRISE. POSA EINAI TA ASPRA KOUTIA?) COUNT. HOW MANY ARE THE WHITE BOXES?

ΠΕΣ ΤΟΝ ΑΡΙΘΜΟ. ΓΡΑΨΕ ΤΟΝ ΑΡΙΘΜΟ ΜΕΣΑ ΣΤΟ ΚΟΥΤΙ.

(PES TON ARITHMO.) SAY THE NUMBER. (YRAPSE TON ARITHMO MESA STO KOUTI.) WRITE THE NUMBER IN THE BOX.

3.4 ΕΙΝΑΙ ΤΑ ΠΟΡΤΟΚΑΛΙ ΚΟΥΤΙΑ ΤΟΣΑ ΟΣΑ ΤΑ ΑΣΠΡΑ ΚΟΥΤΙΑ; ΚΥΚΛΩΣΕ ΤΗ ΣΩΣΤΗ

ΛΕΞΗ. (INE TA PORTOKALI KOUTIA TOSA OSA TA ASPRA KOUTIA? KIKLOSE TI SOSTI LEXI.) ARE THE ORANGE BOXES AS MANY AS THE WHITE ONES? CIRCLE THE RIGHT WORD.

ΝΑΙ

ΟΧΙ

3.5 ΕΙΝΑΙ ΤΑ ΠΟΡΤΟΚΑΛΙ ΚΟΥΤΙΑ ΙΣΑ ΣΤΟΝ ΑΡΙΘΜΟ ΜΕ ΤΑ ΑΣΠΡΑ; ΚΥΚΛΩΣΕ ΤΗ

ΣΩΣΤΗ ΛΕΞΗ. (INE TA PORTOKALI KOUTIA ISA STON ARITHMO ME TA ASPRA?) IS THE NUMBER OF THE ORANGE BOXES EQUAL TO THE NUMBER OF THE WHITE ONES? CIRCLE THE RIGHT WORD.

ΝΑΙ

ΟΧΙ

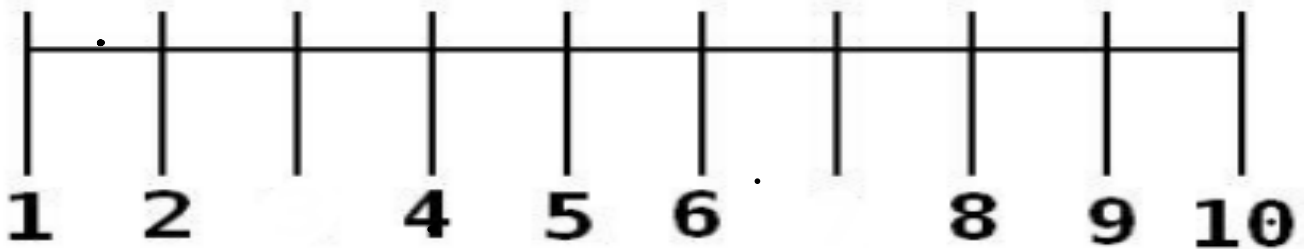
3.6 ΕΙΝΑΙ ΤΑ ΠΟΡΤΟΚΑΛΙ ΚΟΥΤΙΑ ΠΕΡΙΣΣΟΤΕΡΑ ΑΠΟ ΤΑ ΑΣΠΡΑ; ΚΥΚΛΩΣΕ ΤΗ ΣΩΣΤΗ ΛΕΞΗ. (INE TA PORTOKALI KOUTIA PERISSOTERA APO TA ASPRA?) ARE THE ORANGE BOXES MORE THAN THE WHITE ONES? CIRCLE THE RIGHT WORD.

ΝΑΙ **ΟΧΙ**

3.7 ΕΙΝΑΙ ΤΑ ΠΟΡΤΟΚΑΛΙ ΚΟΥΤΙΑ ΛΙΓΟΤΕΡΑ ΑΠΟ ΤΑ ΑΣΠΡΑ; ΚΥΚΛΩΣΕ ΤΗ ΣΩΣΤΗ ΛΕΞΗ. (INE TA PORTOKALI KOUTIA LIYOTERA APO TA ASPRA.) ARE THE ORANGE BOXES FEWER THAN THE WHITE ONES? CIRCLE THE RIGHT WORD.

ΝΑΙ **ΟΧΙ**

4. ΒΑΛΕ ΤΟΝ ΑΡΙΘΜΟ ΤΡΙΑ ΚΑΙ ΤΟΝ ΑΡΙΘΜΟ ΕΠΤΑ ΠΑΝΩ ΣΤΗΝ ΑΡΙΘΜΟΓΡΑΜΜΗ. (VALE TON ARITHMO TRIA KAI TON ARITHMO EP TA PANO STIN ARITHMOGRAMMI) PUT THE NUMBER THREE AND THE NUMBER SEVEN ON THE NUMBER LINE.



7 **3**

Η η



Να, η Λόλα.

Να, η Άννα.

Να, η Έλλη.

- Έλα, Λόλα.

Έλα, Άννα.

Έλα, Έλλη.

