


Archimedean Pre-K  
20 ΟΩΣ 24 ΟΚΤΩΒΡΙΟΥ 2025


ΟΝΟΜΑ: \_\_\_\_\_



Αυτή την εβδομάδα μαθαίνουμε....

Homework 6.1 

ΕΞΙ	6
-----	---

ΡΟΖ	
-----	-----------------------------------------------------------------------------------

ΕΨΙΛΟΝ	Ε ε
--------	-----

ελέφαντας	
-----------	------------------------------------------------------------------------------------

\*Language:  
-The letter: Ε ε  
-Color: Ροζ  
Listening, Speaking, Reading Writing.  
\*Mathematics:  
-Number: 6  
Counting and matching strategies,  
constructing sets, comparing  
quantities, ordering numbers.

Πηγές ( Resources)

\*The Homework 6 Guide

 **Εργασία στο σπίτι** 

ΔΕΥΤΕΡΑ	ΤΡΙΤΗ	ΤΕΤΑΡΤΗ	ΠΕΜΠΤΗ	ΠΑΡΑΣΚΕΥΗ
No School	Section 1 & 2 Section 3: 1, 2	Section 3: 3	Section 3: 4	Review: -Number identification and number writing practice(1-6) -The colors

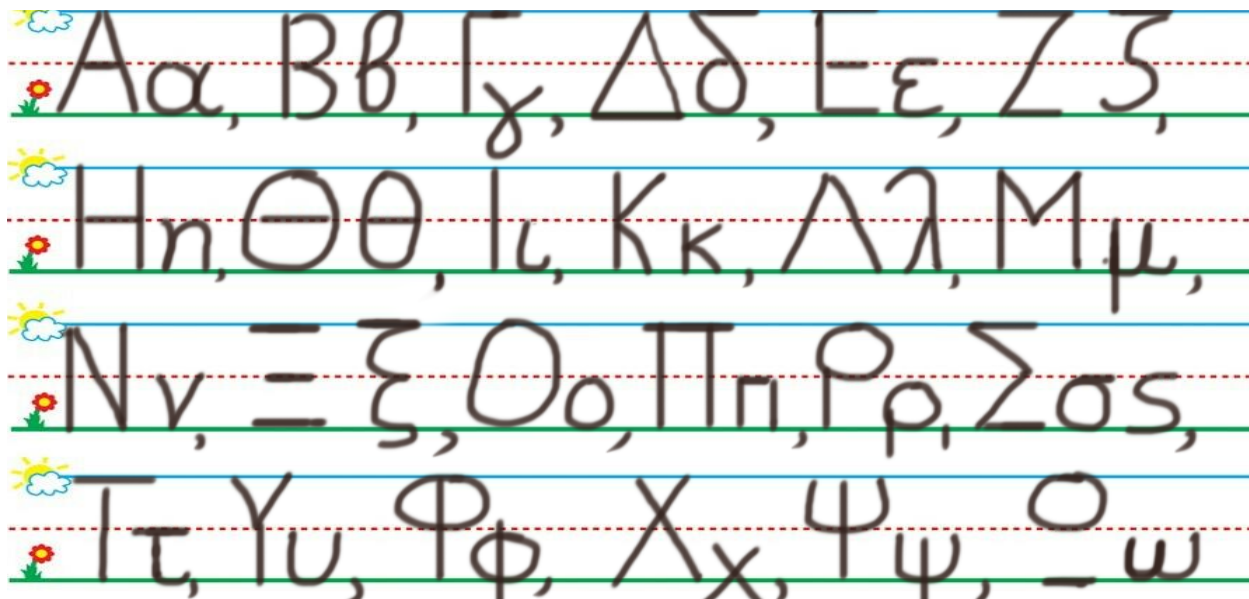
HOMEWORK 6. Sect. 3.

ΟΝΟΜΑ: .....

(ΟΝΟΜΑ) NAME

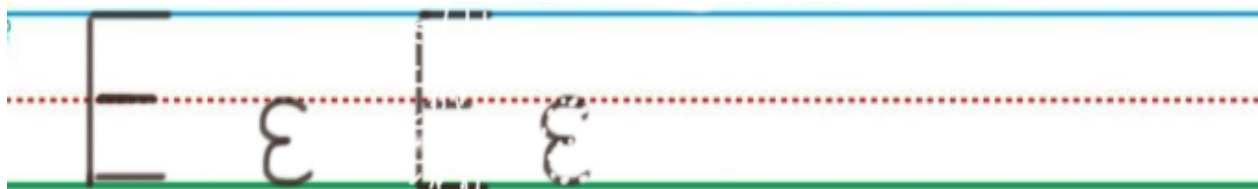
1. ΚΥΚΛΩΣΕ ΤΟ ΓΡΑΜΜΑ Ε ε:

(ΚΥΚΛΩΣΕ ΤΟ ΥΡΑΜΜΑ: Ε ε.) CIRCLE THE LETTER: Ε ε



2. ΓΡΑΨΕ ΤΟ ΓΡΑΜΜΑ Ε ε ΚΑΙ ΤΗ ΛΕΞΗ:

(ΥΡΑΨΕ ΤΟ ΥΡΑΜΜΑ ΚΕ ΤΙ ΛΕΞΙ.) WRITE THE LETTER AND THE WORD.



### 3.1 ΠΕΣ ΤΟΝ ΑΡΙΘΜΟ: **ΕΞΙ**

(PES TON ARITHMO: EXI) SAY THE NUMBER: SIX

#### ΧΡΩΜΑΤΙΣΕ ΡΟΖ ΤΟΣΑ ΚΟΥΤΙΑ ΟΣΑ ΛΕΕΙ Ο ΑΡΙΘΜΟΣ.

(HROMATISE ROZ TOSA KOUTIA OSA LEI O ARITHMOS.) COLOR PINK AS MANY BOXES AS THE NUMBER SAYS.


--

### 3.2 ΜΕΤΡΗΣΕ. ΠΟΣΑ ΕΙΝΑΙ ΤΑ ΡΟΖ ΚΟΥΤΙΑ;

(METRISE. POSA EINAI TA ROZ KOUTIA?) COUNT. HOW MANY ARE THE PINK BOXES?

#### ΠΕΣ ΤΟΝ ΑΡΙΘΜΟ. ΓΡΑΨΕ ΤΟΝ ΑΡΙΘΜΟ ΜΕΣΑ ΣΤΟ ΚΟΥΤΙ.

(PES TON ARITHMO.) SAY THE NUMBER. (YRAPSE TON ARITHMO MESA STO KOUTI.) WRITE THE NUMBER IN THE BOX.

--

### 3.3 ΜΕΤΡΗΣΕ. ΠΟΣΑ ΕΙΝΑΙ ΤΑ ΑΣΠΡΑ ΚΟΥΤΙΑ;

(METRISE. POSA EINAI TA ASPRA KOUTIA?) COUNT. HOW MANY ARE THE WHITE BOXES?

#### ΠΕΣ ΤΟΝ ΑΡΙΘΜΟ. ΓΡΑΨΕ ΤΟΝ ΑΡΙΘΜΟ ΜΕΣΑ ΣΤΟ ΚΟΥΤΙ.

(PES TON ARITHMO.) SAY THE NUMBER. (YRAPSE TON ARITHMO MESA STO KOUTI.) WRITE THE NUMBER IN THE BOX.

3.4 ΕΙΝΑΙ ΤΑ ΡΟΖ ΚΟΥΤΙΑ ΤΟΣΑ ΟΣΑ ΤΑ ΑΣΠΡΑ ΚΟΥΤΙΑ; ΚΥΚΛΩΣΕ ΤΗ ΣΩΣΤΗ ΛΕΞΗ. (INE TA ROZ KOUTIA TOSA OSA TA ASPRA KOUTIA? KIKLOSE TI SOSTI LEXI.) ARE THE PINK BOXES AS MANY AS THE WHITE ONES? CIRCLE THE RIGHT WORD.

**ΝΑΙ**

**ΟΧΙ**

3.5 ΕΙΝΑΙ ΤΑ ΡΟΖ ΚΟΥΤΙΑ ΙΣΑ ΣΤΟΝ ΑΡΙΘΜΟ ΜΕ ΤΑ ΑΣΠΡΑ; ΚΥΚΛΩΣΕ ΤΗ ΣΩΣΤΗ ΛΕΞΗ. (INE TA ROZ KOUTIA ISA STON ARITHMO ME TA ASPRA?) IS THE NUMBER OF THE PINK BOXES EQUAL TO THE NUMBER OF THE WHITE ONES? CIRCLE THE RIGHT WORD.

**ΝΑΙ**

**ΟΧΙ**

3.6 ΕΙΝΑΙ ΤΑ ΡΟΖ ΚΟΥΤΙΑ ΠΕΡΙΣΣΟΤΕΡΑ ΑΠΟ ΤΑ ΑΣΠΡΑ; ΚΥΚΛΩΣΕ ΤΗ ΣΩΣΤΗ ΛΕΞΗ. (INE TA ROZ KOUTIA PERISSOTERA APO TA ASPRA?) ARE THE PINK BOXES MORE THAN THE WHITE ONES? CIRCLE THE RIGHT WORD.

**ΝΑΙ**

**ΟΧΙ**

3.7 ΕΙΝΑΙ ΤΑ ΡΟΖ ΚΟΥΤΙΑ ΛΙΓΟΤΕΡΑ ΑΠΟ ΤΑ ΑΣΠΡΑ; ΚΥΚΛΩΣΕ ΤΗ ΣΩΣΤΗ ΛΕΞΗ.

(INE TA ROZ KOUTIA LIYOTERA APO TA ASPRA.) ARE THE PINK BOXES FEWER THAN THE WHITE ONES? CIRCLE THE RIGHT WORD.

**ΝΑΙ**

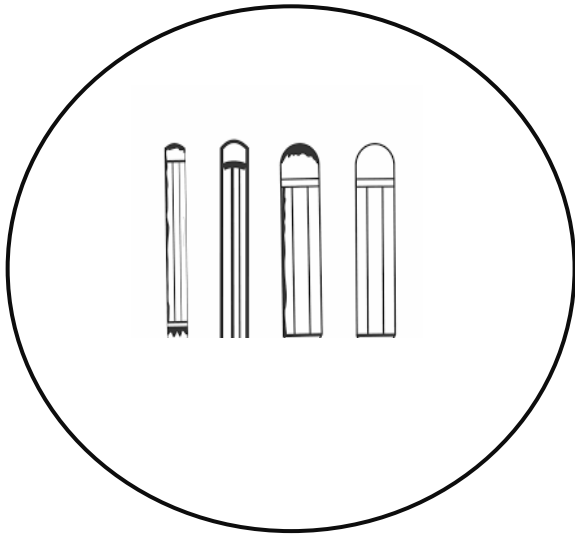
**ΟΧΙ**

**4.1 ΜΕΤΡΗΣΕ. ΠΟΣΑ ΕΙΝΑΙ ΤΑ ΜΟΛΥΒΙΑ ;**

(METRISE. POSA EINAI TA MOLYVIA?) COUNT. HOW MANY ARE THE PENCILS?


**ΓΡΑΨΕ ΤΟΝ ΑΡΙΘΜΟ ΜΕΣΑ ΣΤΟ ΚΟΥΤΙ.**

(YRAPSE TON ARITHMO MESA STO KOUTI.) WRITE THE NUMBER IN THE BOX.



**4.2 ΖΩΓΡΑΦΙΣΕ ΠΕΡΙΣΣΟΤΕΡΑ ΜΟΛΥΒΙΑ ΜΕΣΑ ΣΤΟΝ ΚΥΚΛΟ.**

(ZOYRAFISE IPERISSOTERA MOLYVIA MESA STON KYKLO) DRAW MORE PENCILS IN THE CIRCLE.



**ΓΡΑΨΕ ΤΟΝ ΑΡΙΘΜΟ ΜΕΣΑ ΣΤΟ ΚΟΥΤΙ.**

(YRAPSE TON ARITHMO MESA STO KOUTI.) WRITE THE NUMBER IN THE BOX.

Ε ε



-Λόλα, έλα. Να.



-Ιιι... Οοο....