

Archimedean Pre-K

29 ΣΕΠΤΕΜΒΡΙΟΥ ΕΩΣ 3 ΟΚΤΩΒΡΙΟΥ 2025

ΟΝΟΜΑ: _____



Αυτή την εβδομάδα μαθαίνουμε....

ΤΡΙΑ

3

ΑΣΠΡΟ



ΟΜΙΚΡΟΝ

ο ο

ομπρέλα



*Language:

-The letter: Ο ο

-Color: Άσπρο

Listening, Speaking, Reading Writing.

*Mathematics:

-Number: 3

Counting and matching strategies,
the five frame, constructing and
comparing sets.

Πηγές (Resources)

*The Homework 3 Guide



Εργασία στο σπίτι



ΔΕΥΤΕΡΑ	ΤΡΙΤΗ	ΤΕΤΑΡΤΗ	ΠΕΜΠΤΗ	ΠΑΡΑΣΚΕΥΗ
Section 1 & 2 Section 3: 1, 2	Section 3: 3	Section 3: 4, 5	NO SCHOOL	Review: Flash cards (homework 1, 2, 3), counting in Greek up to 10

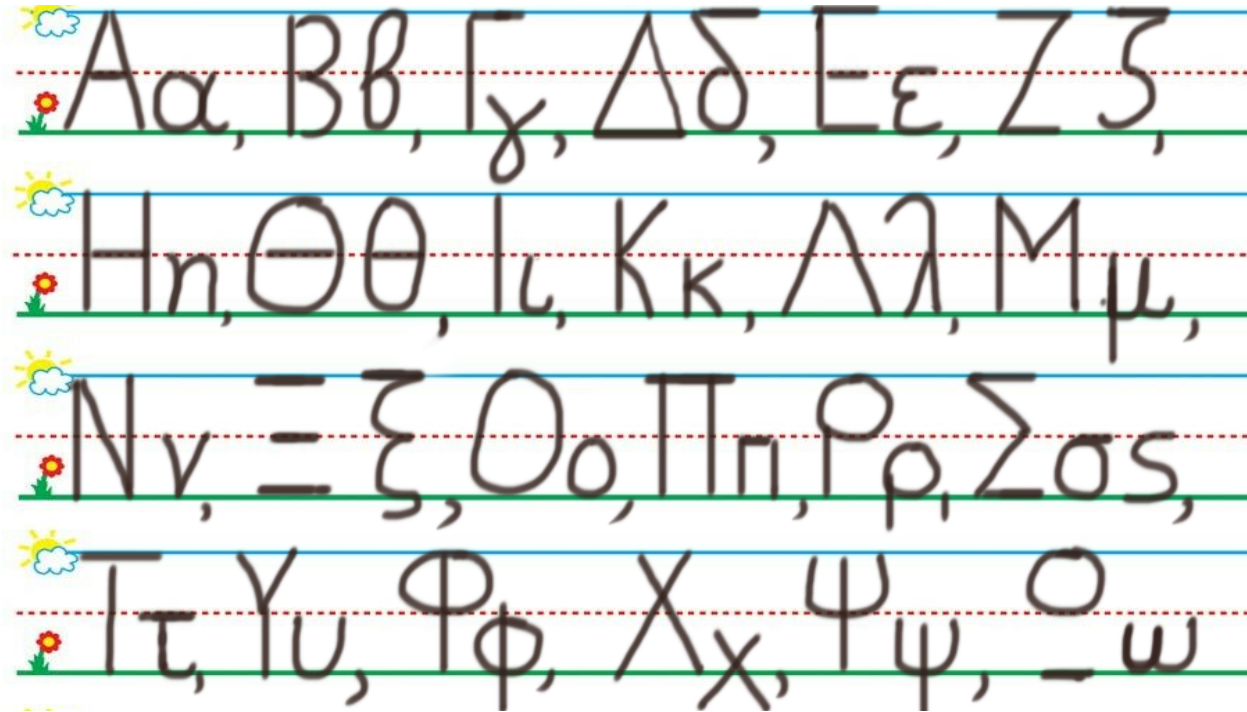
HOMEWORK 3. Sect. 3.

ΟΝΟΜΑ:

(ΟΝΟΜΑ) NAME

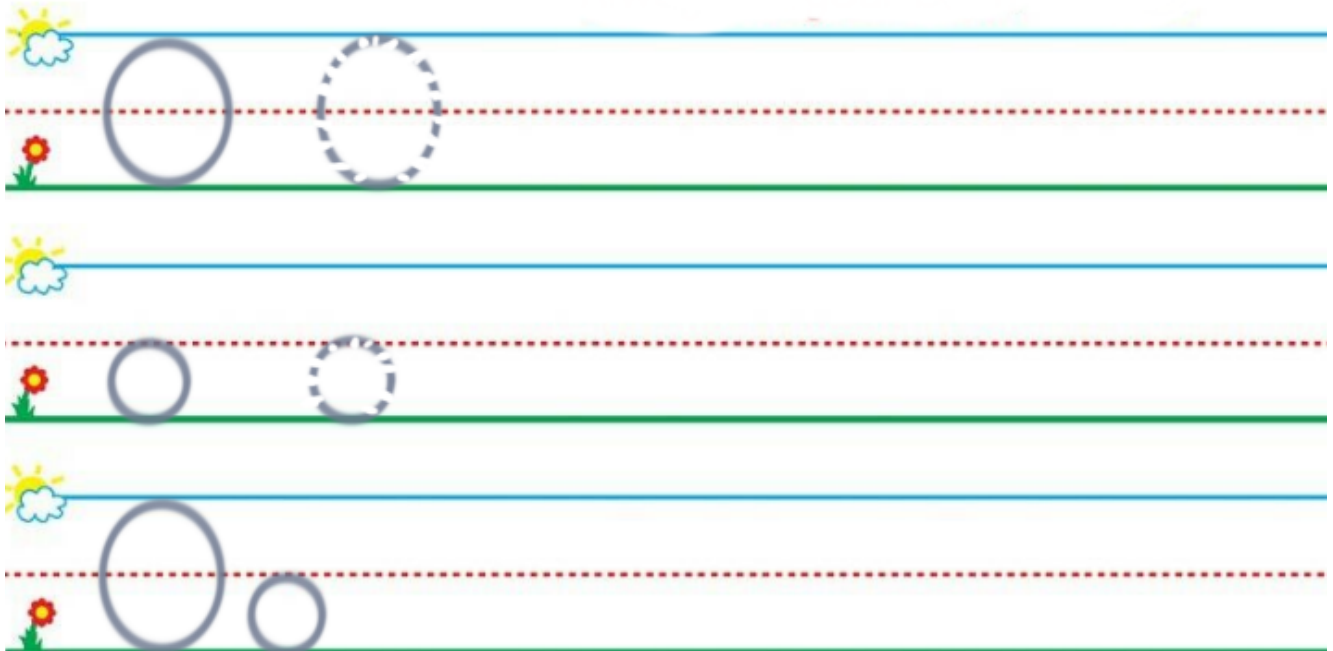
1. ΤΟ ΓΡΑΜΜΑ Ο ο:

(ΚΥΚΛΩΣΕ ΤΟ ΥΡΑΜΜΑ: Ο ο.) CIRCLE THE LETTER: Ο ο:



2. ΓΡΑΨΕ ΤΟ ΓΡΑΜΜΑ Ο ο:

(ΥΡΑΨΕ ΤΟ ΥΡΑΜΜΑ: Ο ο.) WRITE THE LETTER: Ο ο.



3.1.ΕΝΩΣΕ ΜΕ ΓΡΑΜΜΗ ΚΑΘΕ ΕΝΑ ΠΑΙΔΙ ΜΕ ΜΙΑ ΟΜΠΡΕΛΑ. (ENOSE ME YRAMMI KATHE ENA PETHI ME MIA OMPRELA). DRAW LINES TO MUCH THE CHILDREN AND UMBRELLAS.



3.2 ΜΕΤΡΗΣΕ. ΠΟΣΑ ΕΙΝΑΙ ΤΑ ΠΑΙΔΙΑ; ΠΕΣ ΤΟΝ ΑΡΙΘΜΟ.

(METRISE. POSA INE TA PETHIA? PES TON ARITHMO.) COUNT. HOW MANY ARE THE CHILDREN? SAY THE NUMBER.

ΓΡΑΨΕ ΤΟΝ ΑΡΙΘΜΟ ΜΕΣΑ ΣΤΟ ΚΟΥΤΙ.

(YRAPSE TON ARITHMO MESA STO KOUTI.) WRITE THE NUMBER IN THE BOX.

--

3.3 ΜΕΤΡΗΣΕ. ΠΟΣΕΣ ΕΙΝΑΙ ΟΙ ΟΜΠΡΕΛΕΣ; ΠΕΣ ΤΟΝ ΑΡΙΘΜΟ.

(METRISE. POSES INE I OMPRELES? PES TON ARITHMO.) COUNT. HOW MANY ARE THE UMBRELLAS? SAY THE NUMBER.

ΓΡΑΨΕ ΤΟΝ ΑΡΙΘΜΟ ΜΕΣΑ ΣΤΟ ΚΟΥΤΙ.

(YRAPSE TON ARITHMO MESA STO KOUTI.) WRITE THE NUMBER IN THE BOX.

--

3.4 ΕΙΝΑΙ ΟΙ ΟΜΠΡΕΛΕΣ ΤΟΣΕΣ ΟΣΕΣ ΕΙΝΑΙ ΤΑ ΠΑΙΔΙΑ;

(INE I OMPRELES TOSES OSES INE TA PETHIA?) ARE THE UMBRELLAS AS MANY AS THE CHILDREN?

ΚΥΚΛΩΣΕ ΤΗ ΣΩΣΤΗ ΛΕΞΗ.

(KIKLOSE TI SOSTI LEXI.) CIRCLE THE RIGHT WORD. (NE) YES/ (OHI) NO

ΝΑΙ

ΟΧΙ

4.1 ΠΕΣ ΤΟΝ ΑΡΙΘΜΟ: ΤΡΙΑ 3

(PES TON ARITHMO: TRIA 3.) SAY THE NUMBER: THREE 3

4.2 ΧΡΩΜΑΤΙΣΕ ΓΚΡΙ ΤΟΣΑ ΚΟΥΤΙΑ ΟΣΑ ΛΕΕΙ Ο ΑΡΙΘΜΟΣ 3

(HROMATISE GRI TOSA KOUTIA OSA LEI O ARITHMOS 3) COLOR GRAY AS MANY BOXES AS THE NUMBER SAYS.

--	--	--	--	--

4.3. ΜΕΤΡΗΣΕ. ΠΟΣΑ ΕΙΝΑΙ ΤΑ ΓΚΡΙ ΚΟΥΤΙΑ; ΠΕΣ ΤΟΝ ΑΡΙΘΜΟ. ΚΥΚΛΩΣΕ ΤΟΝ


ΑΡΙΘΜΟ. (METRISE. POSA EINAI TA KOUTIA ME HROMA? PES TON ARITHMO. KIKLOSE TON ARITHMO.) HOW MANY ARE THE BOXES WITH COLOR? SAY THE NUMBER. CIRCLE THE NUMBER.

1 2 3

4.4. ΜΕΤΡΗΣΕ. ΠΟΣΑ ΕΙΝΑΙ ΤΑ ΑΣΠΡΑ ΚΟΥΤΙΑ; ΠΕΣ ΤΟΝ ΑΡΙΘΜΟ. ΚΥΚΛΩΣΕ ΤΟΝ ΑΡΙΘΜΟ. (METRISE. POSA EINAI TA ASPRA KOUTIA? PES TON ARITHMO. KIKLOSE TON ARITHMO.) COUNT. HOW MANY ARE THE WHITE BOXES? SAY THE NUMBER. CIRCLE THE NUMBER.

1 2 3

5. ΖΩΓΡΑΦΙΣΕ 2 ΠΑΙΔΙΑ ΚΑΙ ΤΟΣΕΣ ΟΜΠΡΕΛΕΣ ΟΣΑ ΕΙΝΑΙ ΤΑ ΠΑΙΔΙΑ. (ΖΟΥΡΑΦΙΣΕ ΤΗΘΙΟ ΡΕΤΗΙΑ ΚΑΙ ΤΟΣΕΣ ΟΜΠΡΕΛΕΣ ΟΣΑ ΙΝΕ ΤΑ ΡΕΤΗΙΑ).DRAW TWO CHILDREN AND AS MANY UMBRELLAS AS THE CHILDREN.



O o

