

Homework 2

due Friday 9/5 (Upload on Archie no later than 8am.)

Quiz Friday 9/5 (Numbers in Greek & Place Value)

Όνομα: _____

Ημερομηνία: _____



Αριθμοί

<u>Μονάδες</u>	<u>Δεκάδες</u>	<u>Εκατοντάδες</u>
1 : ένα	10 : δέκα	100 : εκατό
2 : δύο	20 : είκοσι	200 : διακόσια
3 : τρία	30 : τριάντα	300 : τριακόσια
4 : τέσσερα	40 : σαράντα	400 : τετρακόσια
5 : πέντε	50 : πενήντα	500 : πεντακόσια
6 : έξι	60 : εξήντα	600 : εξακόσια
7 : επτά	70 : εβδομήντα	700 : επτακόσια
8 : οκτώ	80 : ογδόντα	800 : οκτακόσια
9 : εννέα	90 : ενενήντα	900 : εννιακόσια

11 : έντεκα

12 : δώδεκα

Γράφω αριθμούς μέχρι το 100

1. Συμπληρώνω ό,τι λείπει (ψηφία ή λέξεις).

είκοσι εννέα

32

45

δεκατέσσερα

εξήντα τρία

90

27

πενήντα ένα

τριάντα οχτώ

76

2. Αντιστοιχίζω όσα είναι ίσα.

$20+10+3$	•	•	65
$60+10+6$	•	•	76
$20+20+20+5$	•	•	33
$30+10+10+2$	•	•	90
$70+10+10$	•	•	52

3. Συγκρίνω τους αριθμούς και συμπληρώνω τα κενά με τα σύμβολα:

$=$ (ίσο) $>$ (μεγαλύτερο από) $<$ (μικρότερο από)

26.....30

15.....51

40.....34

65.....50

45.....45

29.....39

38.....50

47.....42

70.....70

18.....21

56.....49

79.....91

1.

Βρες πόσες εκατοντάδες (Ε), δεκάδες (Δ) και μονάδες (Μ) έχουν οι αριθμοί.

Ο αριθμός **781** έχει **7** Ε **8** Δ και **1** Μ.

Ο αριθμός **345** έχει Ε Δ και Μ.

Ο αριθμός **523** έχει Ε Δ και Μ.

Ο αριθμός **956** έχει Ε Δ και Μ.

Ο αριθμός **138** έχει Ε Δ και Μ.

Ο αριθμός **864** έχει Ε Δ και Μ.

2.

Ανάλυσε και σύνθεσε τους αριθμούς όπως στα παραδείγματα.

$$492 = 400 + 90 + 2$$

$$900 + 80 + 3 = 983$$

$$214 = \square + \square + \square$$

$$700 + 50 + 1 = \square$$

$$679 = \square + \square + \square$$

$$100 + 40 + 5 = \square$$

$$867 = \square + \square + \square$$


$$300 + 8 = \square$$

$$520 = \square + \square + \square$$






$$400 + 30 + 6 = \square$$

3.

Γράψε τους αριθμούς που βλέπεις στους άβακες.



2 3 6



Σε έναν τριψήφιο αριθμό: το 1^ο ψηφίο από τα δεξιά είναι οι μονάδες, το 2^ο ψηφίο από τα δεξιά είναι οι δεκάδες και το 3^ο ψηφίο από τα δεξιά είναι οι εκατοντάδες.

4.

Γράψε τις αριθμολέξεις με αριθμούς.

Τριακόσια πενήντα ένα

Τετρακόσια ογδόντα

Εξακόσια σαράντα επτά

Οκτακόσια ενενήντα τρία

Εννιακόσια πέντε

Πεντακόσια τριάντα δύο

Εκατόν εβδομήντα τέσσερα

Διακόσια εξήντα εννέα