

Archimedean Pre-K

12 ΕΩΣ 16 ΜΑΪΟΥ 2025

ΟΝΟΜΑ: _____





Αυτή την εβδομάδα μαθαίνουμε....

*Language:

Listening/Talking, Reading and Writing.
Review-Letters and Vocabulary

*Mathematics:

Review Comparing numbers, ordering numbers, composing and decomposing numbers, addition, subtraction.



Πηγές (Resources)

The Homework Guides

Εργασία στο σπίτι




| ΔΕΥΤΕΡΑ | ΤΡΙΤΗ | ΤΕΤΑΡΤΗ | ΠΕΜΠΤΗ | ΠΑΡΑΣΚΕΥΗ |
|-----------------|-----------------|-----------------|--------------|---------------------------------------|
| Section 3: 1, 2 | Section 3: 3, 4 | Section 3: 5, 6 | Section 3: 7 | REVIEW THE STORIES AND THE VOCABULARY |

HOMEWORK 28. Section 3. Activities. Activities should be turned in on Friday.

ΟΝΟΜΑ:

(ΟΝΟΜΑ) NAME

1. 1. ΤΙ ΕΙΝΑΙ ΑΥΤΟ; ΓΡΑΨΕ ΤΙΣ ΛΕΞΕΙΣ. WHAT IS THIS? WRITE THE WORDS.




.....



.....

1. 2. ΚΥΚΛΩΣΕ ΚΑΙ ΠΕΣ ΤΑ ΓΡΑΜΜΑΤΑ ΠΟΥ ΒΡΙΣΚΟΝΤΑΙ ΣΤΗ ΛΕΞΗ : 'ΚΟΤΑ'

CIRCLE AND SAY THE LETTERS OF THE WORD: 'ΚΟΤΑ'




2. 1. ΑΚΟΥ -ΔΙΑΒΑΣΕ - ΖΩΓΡΑΦΙΣΕ: LISTEN TO- READ - DRAW:

Να το ρολόι. Δέκα η ώρα.



2. 2. ΑΚΟΥY -ΔΙΑΒΑΣΕ - ΖΩΓΡΑΦΙΣΕ: LISTEN TO- READ - DRAW:

Δύο η ώρα. Ώρα για φαγητό.



3. ΒΑΛΕ ΤΟ ΣΩΣΤΟ ΣΥΜΒΟΛΟ ΚΑΙ ΔΙΑΒΑΣΕ. ($>$, $<$, $=$) (VALE TO SOSTO ΣΥΜΒΟΛΟ ΚΕ ΘΙΑΒΑΣΕ) .PUT THE CORRECT SYMBOL AND READ. ($>$, $<$, $=$)

25 -----15

17-----27

22-----12

4. ΓΡΑΨΕ ΤΟΝ ΑΡΙΘΜΟ ΠΟΥ ΕΙΝΑΙ ΠΡΙΝ ΚΑΙ ΜΕΤΑ. WRITE THE NUMBER THAT COMES BEFORE AND AFTER.

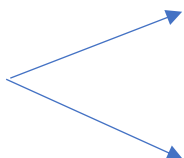
....., 5,

....., 8,

....., 10,

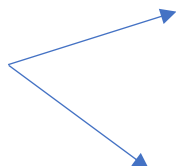
5. ΓΡΑΨΕ ΤΟΝ ΑΡΙΘΜΟ ΠΟΥ ΛΕΙΠΕΙ ΜΕΣΑ ΣΤΟ ΚΟΥΤΙ WRITE THE MISSING NUMBER IN THE BOX

| |
|----|
| 10 |
|----|



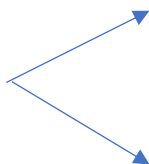
| |
|---|
| 9 |
| |

| |
|----|
| 10 |
|----|



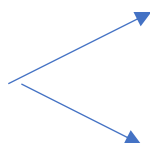
| |
|---|
| 8 |
| |

| |
|----|
| 10 |
|----|



| |
|---|
| 7 |
| |

| |
|----|
| 10 |
|----|



| |
|---|
| 6 |
| |

6. ΚΑΝΕ ΤΙΣ ΠΡΟΣΘΕΣΕΙΣ. DO THE ADDITIONS.

$9 + 1 = \dots\dots$

$8 + 2 = \dots\dots$

$7 + 3 = \dots\dots$

$6 + 4 = \dots\dots$

7. ΚΑΝΕ ΤΙΣ ΑΦΑΙΡΕΣΕΙΣ. DO THE SUBTRACTIONS.

$10 - 5 = \dots\dots$

$4 - 2 = \dots\dots$

$4 - 3 = \dots\dots$

$5 - 3 = \dots\dots$