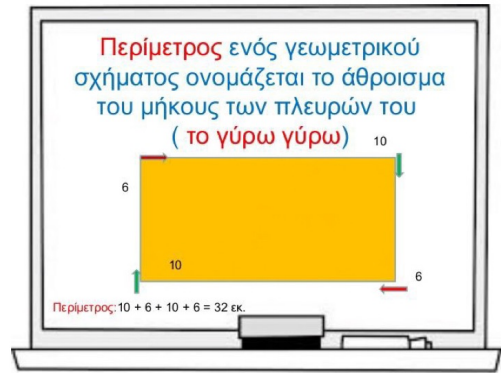


HOMEWORK 29


Due Friday 4/11, upload no later than 8am.

Τρίγωνα



Γωνίες

Test on
Thursday
4/10.



Η συμμετρία

1. Φέρε, σε όσα από τα παρακάτω γράμματα έχουν , από έναν άξονα συμμετρίας

← example
Α

Β

Γ

Δ

Ε

Ζ

Η

Θ

Ι

Κ

Λ

Μ

Ν

Ξ

Ο

Π

Ρ

Σ

Τ

Υ



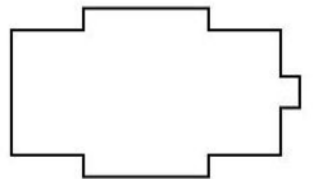



Φ

Χ

Ψ

Ω


2. Φέρε από έναν τουλάχιστον άξονα συμμετρίας στα παρακάτω σχήματα



ΠΕΡΙΜΕΤΡΟΣ

άσκηση 1η

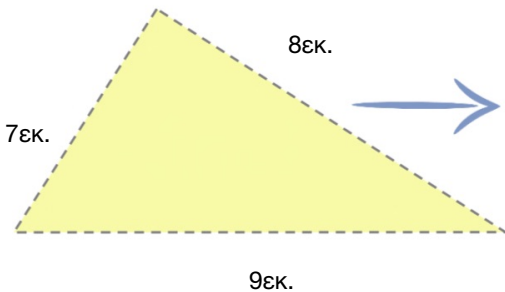
Μέτρησε την περίμετρο των σχημάτων.



Ας υπολογίσω
την περίμετρο...



Ας υπολογίσω
την περίμετρο...

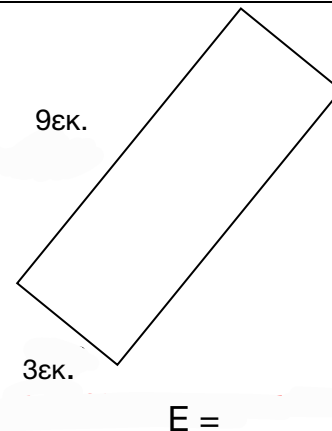
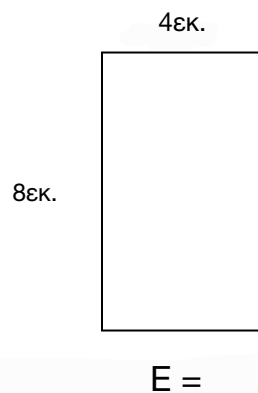



Ας υπολογίσω
την περίμετρο...



Ασκήσεις:

1. Να βρεις το εμβαδόν στα πιο κάτω σχήματα.



Εμβαδόν είναι το μέγεθος ενός σχήματος.

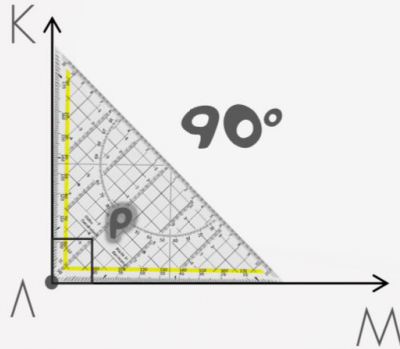
Study the
vocabulary.

ΤΑ ΕΙΔΗ ΤΩΝ ΓΩΝΙΩΝ

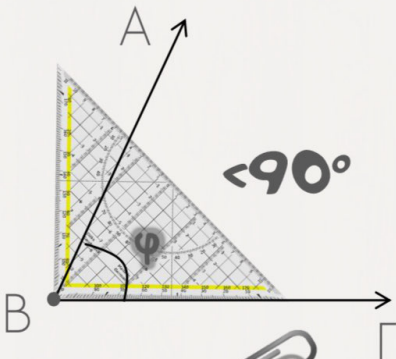
Θυμάμαι ότι:

Γωνία είναι το
άνοιγμα μεταξύ δύο
πλευρών που
ενώνονται σε μία
κορυφή και μετρείται
σε μοίρες.

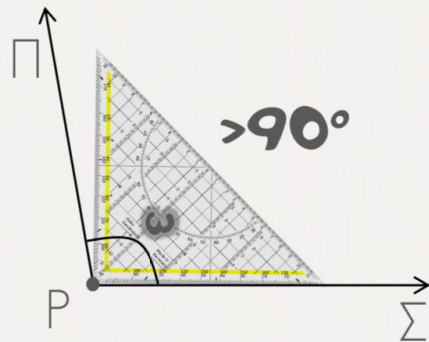
ορθή γωνία



οξεία γωνία



αμβλεία γωνία



Γράψε το όνομα της γωνίας.

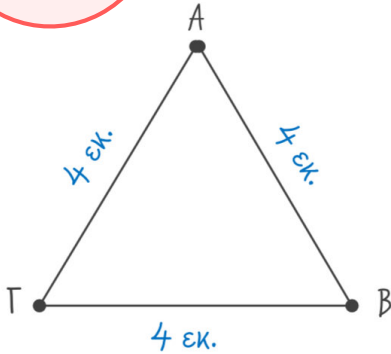
(ορθή, οξεία, αμβλεία)



ΕΙΔΗ ΤΡΙΓΩΝΩΝ

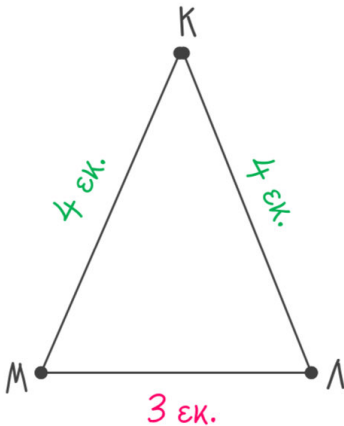
ΩΣ ΠΡΟΣ ΤΙΣ ΠΛΕΥΡΕΣ

Study the vocabulary.



ΙΣΟΠΛΕΥΡΟ ΤΡΙΤΩΝΟ

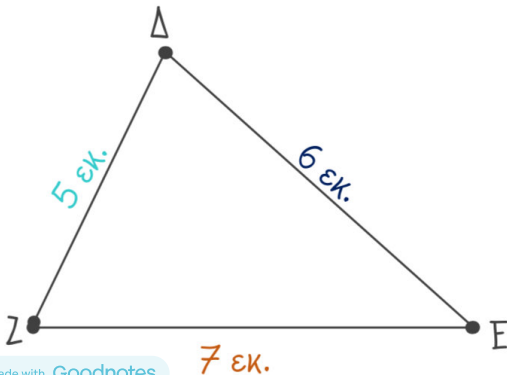
Όλες οι πλευρές και οι γωνίες του είναι ίσες.



ΙΣΟΣΚΕΛΕΣ ΤΡΙΤΩΝΟ

Έχει δύο πλευρές και δύο γωνίες ίσες.

Οι ίσες γωνίες είναι αυτές που βρίσκονται απέναντι από τις ίσες πλευρές.



ΣΚΑΛΗΝΟ ΤΡΙΤΩΝΟ

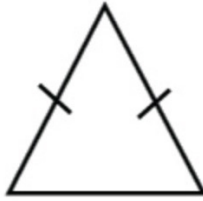
Όλες οι πλευρές και οι γωνίες του είναι άνισες.

Γράψε το όνομα του τριγώνου.

1



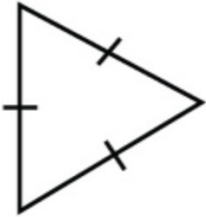
2



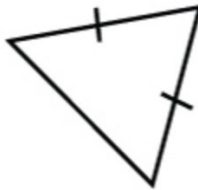
3



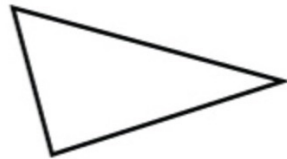
4



5



6



Αντιστοίχησε (match):

Σκαληνό τρίγωνο ■

Ισοσκελές τρίγωνο ■

Ισόπλευρο τρίγωνο ■

- το τρίγωνο που έχει όλες τις πλευρές ίσες
- το τρίγωνο που έχει δύο γωνίες ίσες
- το τρίγωνο που έχει όλες τις πλευρές άνισες
- το τρίγωνο που έχει όλες τις γωνίες ίσες
- το τρίγωνο που έχει όλες τις γωνίες άνισες
- το τρίγωνο που έχει δύο πλευρές ίσες

