

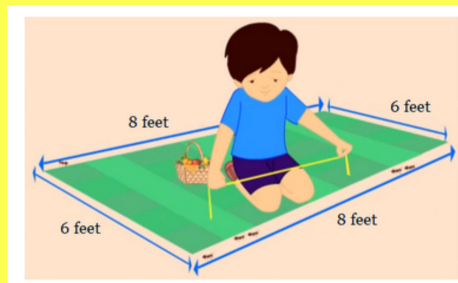
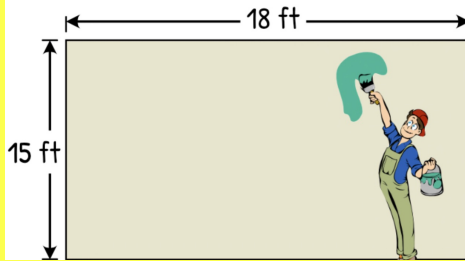
# Homework 28

Due Friday 4/4, upload no later than 8am.

Ελληνικά Μαθηματικά

Όνομα: \_\_\_\_\_

## Area and Perimeter



Do 1 page per day!

# Μέτρηση μήκους

Μετρώ το μήκος κάθε αντικειμένου, το γράφω στο κουτάκι και στη συνέχεια τοποθετώ τα μήκη στη σωστή σειρά από το μεγαλύτερο προς το μικρότερο.


α.



β.



γ.



δ.



Τα βάζω στη σωστή σειρά:

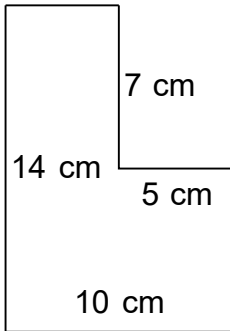
\_\_\_ > \_\_\_ > \_\_\_ > \_\_\_



Βρες την περίμετρο.

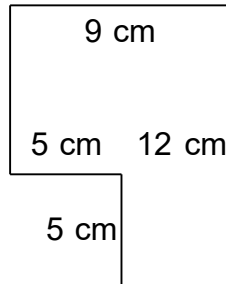
$\Pi =$

1.



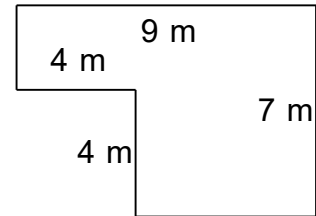
$\Pi =$

2.



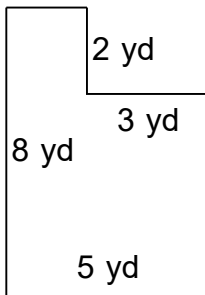
$\Pi =$

3.



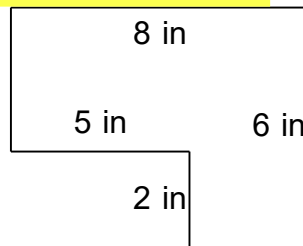
$\Pi =$

4.



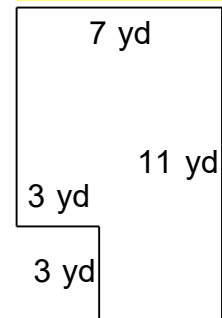
$\Pi =$

5.



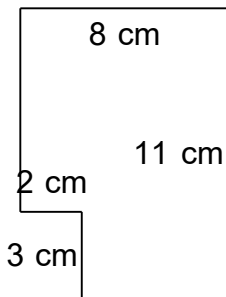
$\Pi =$

6.



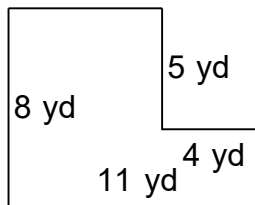
$\Pi =$

7.

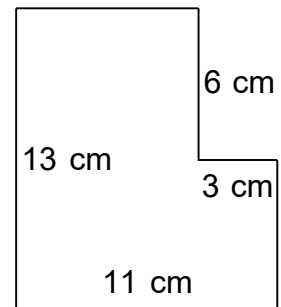


$\Pi =$

8.

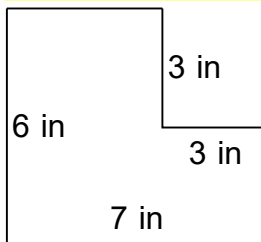


9.



$\Pi =$

10.



$\Pi =$

## άσκηση 2η

Σχεδιάσε....

---

- ✓ Ένα ορθογώνιο παραλληλόγραμμο με περίμετρο 15 εκατοστά.
  
  
  
  
  
  
  
  
  
  
- ✓ Ένα τετράγωνο με περίμετρο 8 εκατοστά.

