

Archimedean Pre-K  
31 ΜΑΡΤΙΟΥ ΕΩΣ 4 ΑΠΡΙΛΙΟΥ 2025



ΟΝΟΜΑ: \_\_\_\_\_

## ΕΠΑΝΑΛΗΨΗ

Πηγές ( Resources)

\*The Homework Guides




**Εργασία στο σπίτι**



ΔΕΥΤΕΡΑ	ΤΡΙΤΗ	ΤΕΤΑΡΤΗ	ΠΕΜΠΤΗ	ΠΑΡΑΣΚΕΥΗ
NO SCHOOL	Review the sstories and the vocabulary  Section 3: 1, 2	Section 3: 3, 4	Section 3: 5	Review Step by step math: number pairs/number bonds

**HOMEWORK: REVIEW**

**1. ΤΙ ΕΙΝΑΙ ΑΥΤΟ; ΓΡΑΨΕ ΤΙΣ ΛΕΞΕΙΣ.** WHAT IS THIS? WRITE THE WORDS.



.....

**2.1 ΑΚΟΥ -ΔΙΑΒΑΣΕ - ΖΩΓΡΑΦΙΣΕ:** LISTEN TO- READ - DRAW:

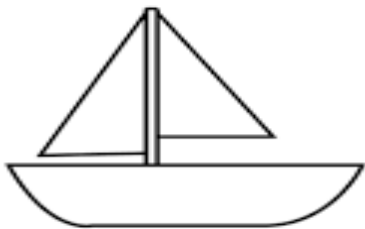
**Να, η Λόλα με τη γάτα.**

**2.2 ΑΚΟΥ -ΔΙΑΒΑΣΕ - ΖΩΓΡΑΦΙΣΕ:** LISTEN TO - READ - DRAW:

Να, η θάλασσα. Να, ένα ψάρι.



**3.1 ΠΟΣΟ ΕΙΝΑΙ ΤΟ ΜΗΚΟΣ ΤΗΣ ΒΑΡΚΑΣ; ΚΥΚΛΩΣΕ ΤΟΝ ΑΡΙΘΜΟ.** *WHAT IS THE LENGTH OF THE BOAT? CIRCLE THE NUMBER.*



3.2 ΠΟΣΟ ΕΙΝΑΙ ΤΟ ΥΨΟΣ ΤΟΥ ΣΠΙΤΙΟΥ; ΚΥΚΛΩΣΕ ΤΟΝ ΑΡΙΘΜΟ. WHAT IS THE HEIGHT OF THE HOUSE? CIRCLE THE NUMBER.

7
6
5
4
3
2
1



4. ΓΡΑΨΕ ΤΟΝ ΑΡΙΘΜΟ ΠΟΥ ΛΕΙΠΕΙ ΜΕΣΑ ΣΤΟ ΚΟΥΤΙ ΓΙΑ ΝΑ ΕΙΝΑΙ ΣΩΣΤΑ ΤΑ ΖΕΥΓΑΡΙΑ ΤΟΥ ΑΡΙΘΜΟΥ. (ΥΡΑΨΕ ΤΟΝ ΑΡΙΘΜΟ ΠΟΥ ΛΙΠΙ ΜΕΣΑ ΣΤΟ ΚΟΥΤΙ ΓΙΑ ΝΑ ΙΝΕ ΣΟΣΤΑ ΤΑ ΖΕΥΓΑΡΙΑ ΤΟΝ ΑΡΙΘΜΟΝ) WRITE THE MISSING NUMBER IN THE BOX TO MAKE THE NUMBER PAIRS TRUE.

4	<div><div>2</div><div></div></div>
---	------------------------------------

---

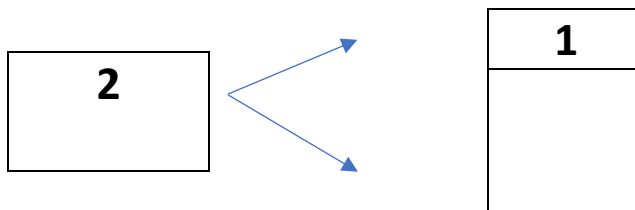
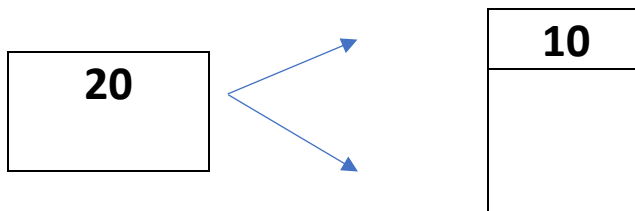
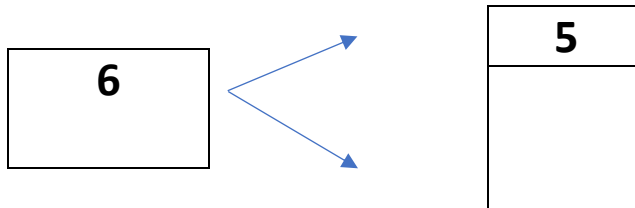
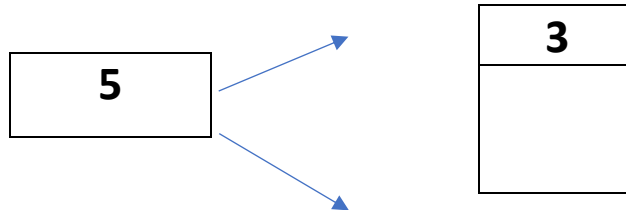
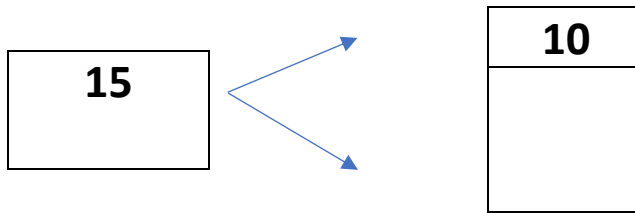
6	<div><div>3</div><div></div></div>
---	------------------------------------

---

8	<div><div>4</div><div></div></div>
---	------------------------------------

---

10	<div><div>5</div><div></div></div>
----	------------------------------------



5. ΚΑΝΕ ΤΙΣ ΠΡΟΣΘΕΣΕΙΣ. DO THE ADDITIONS.

$2 + 3 = \text{-----}$

$6 + 1 = \text{-----}$

$4 + 4 = \text{-----}$