

Homework 26 due Friday 3/21


3η Τάξη

Ελληνικά Μαθηματικά

Όνομα: _____

Ημερομηνία: _____


ΓΕΩΜΕΤΡΙΑ




Quiz on the
Names of the
Shapes ~
Thursday 3/20

Make sure you carry a ruler with you in your pencil pouch
everyday.

Γεωμετρικά Σχήματα




ΚΥΚΛΟΣ



ΤΡΙΓΩΝΟ



ΤΕΤΡΑΓΩΝΟ



ΡΟΜΒΟΣ



**ΟΡΘΟΓΩΝΙΟ
ΠΑΡΑΛΛΗΛΟΓΡΑΜΜΟ**



**ΠΛΑΓΙΟ
ΠΑΡΑΛΛΗΛΟΓΡΑΜΜΟ**




ΠΕΝΤΑΓΩΝΟ



ΕΞΑΓΩΝΟ



ΟΚΤΑΓΩΝΟ



ΟΒΑΛ



ΤΡΑΠΕΖΙΟ







ΑΣΤΕΡΙ


Learn the vocabulary!!!

ΓΕΩΜΕΤΡΙΚΑ ΣΧΗΜΑΤΑ

Γράφω κάτω από τα γεωμετρικά σχήματα την ονομασία τους:



Γράψε τη λέξη στο σωστό κουτάκι.



οβάλ



ορθογώνιο

τρίγωνο

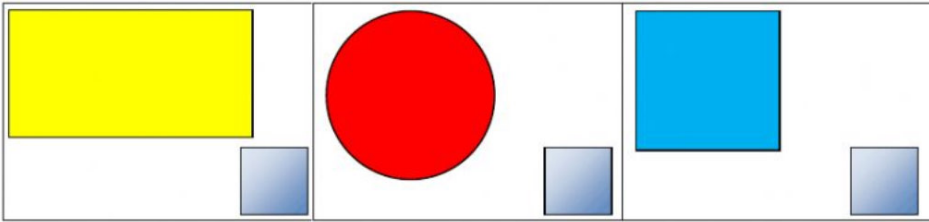
κύκλος

τετράγωνο

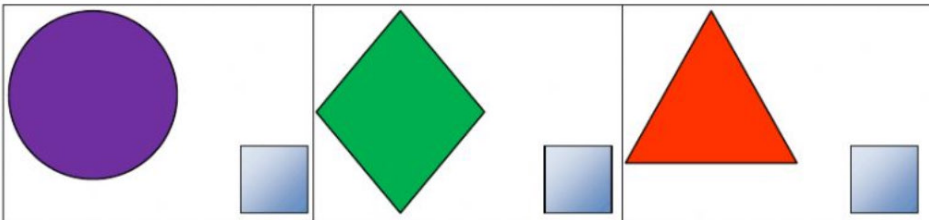
ρόμβος




Ποιο σχήμα είναι το τετράγωνο;



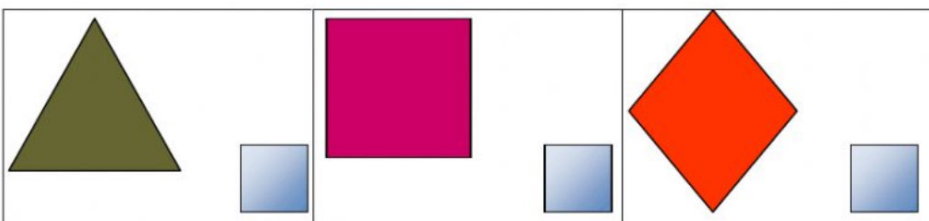
Ποιο σχήμα είναι ο κύκλος;



Ποιο σχήμα είναι το ορθογώνιο;



Ποιο σχήμα είναι το τρίγωνο;



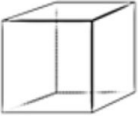







Learn the vocabulary!!!

Γεωμετρικά στερεά





Ένωσε κάθε στερεό γεωμετρικό σχήμα με το όνομά του

Στερεό	Το όνομά του
	Σφαίρα
	Τετραγωνική Πυραμίδα
	Κώνος
	Κύλινδρος
	Κύβος
	Τριγωνική Πυραμίδα
	Ορθογώνιο Παραλληλεπίπεδο
	Πρίσμα