

Δευτέρα 24 ε ρουαρίου 2025 Όνομα _____ Τμήμα: _____

Ελληνικά Μαθηματικά-Greek Math**Γεωμετρία**

Dear scholars,
This week we are:

1. Learning about lines, rays and angles.
2. Classifying angles.

Dear students,
Please follow this scedule:

Δευ ρα 2/24 σελίδες 1 και 2


Πέμπτη 2/27 σελίδα 3

Progress Friday -Exit Ticket


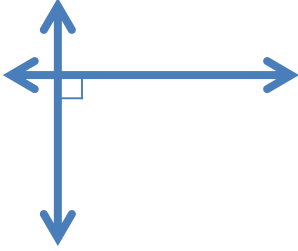
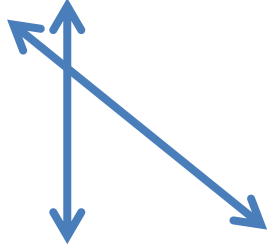
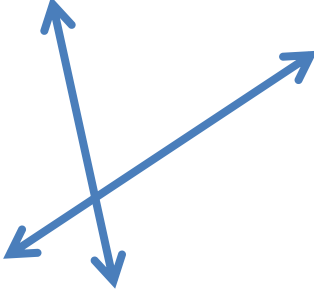

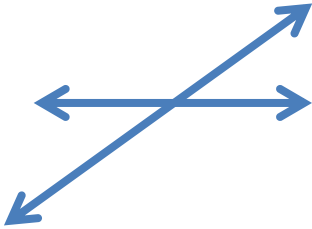
Επιστροφή

Due date

Κυριακή 3/2
(till 5.00 p.m.)



Άσκηση: Γράψε: παράλληλες, κάθετες ή τεμνόμενες ευθείες.

 _____	 _____	 _____
 _____	 _____	 _____

Σχεδιάσε τα ακόλουθα:

Parallel lines	Perpendicular lines	Intersecting lines

Παράλληλες ευθείες

Κάθετες ευθείες

Τεμνόμενες ευθείες

Άσκηση: Γράφω το είδος κάθε γωνίας

σελ.2

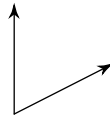
, μ , , , μ



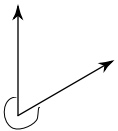
3)



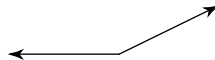
4)



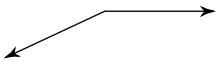
5)



6)



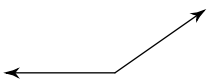
7)



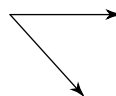
8)



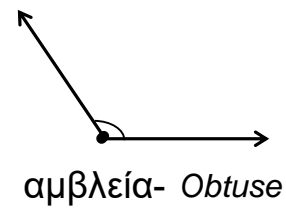
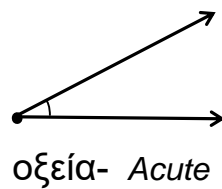
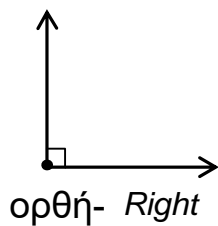
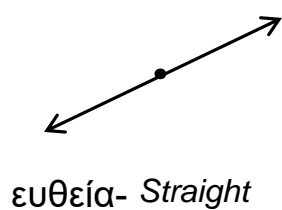
9)



10)



Γράφω τα είδη των γωνιών: ευθεία, ορθή, οξεία, αμβλεία



<p>$\angle ABC$ <u>οξεία-acute</u></p>	<p>_____</p>
<p>_____</p>	<p>_____</p>
<p>_____</p>	<p>_____</p>