

HOMEWORK 20

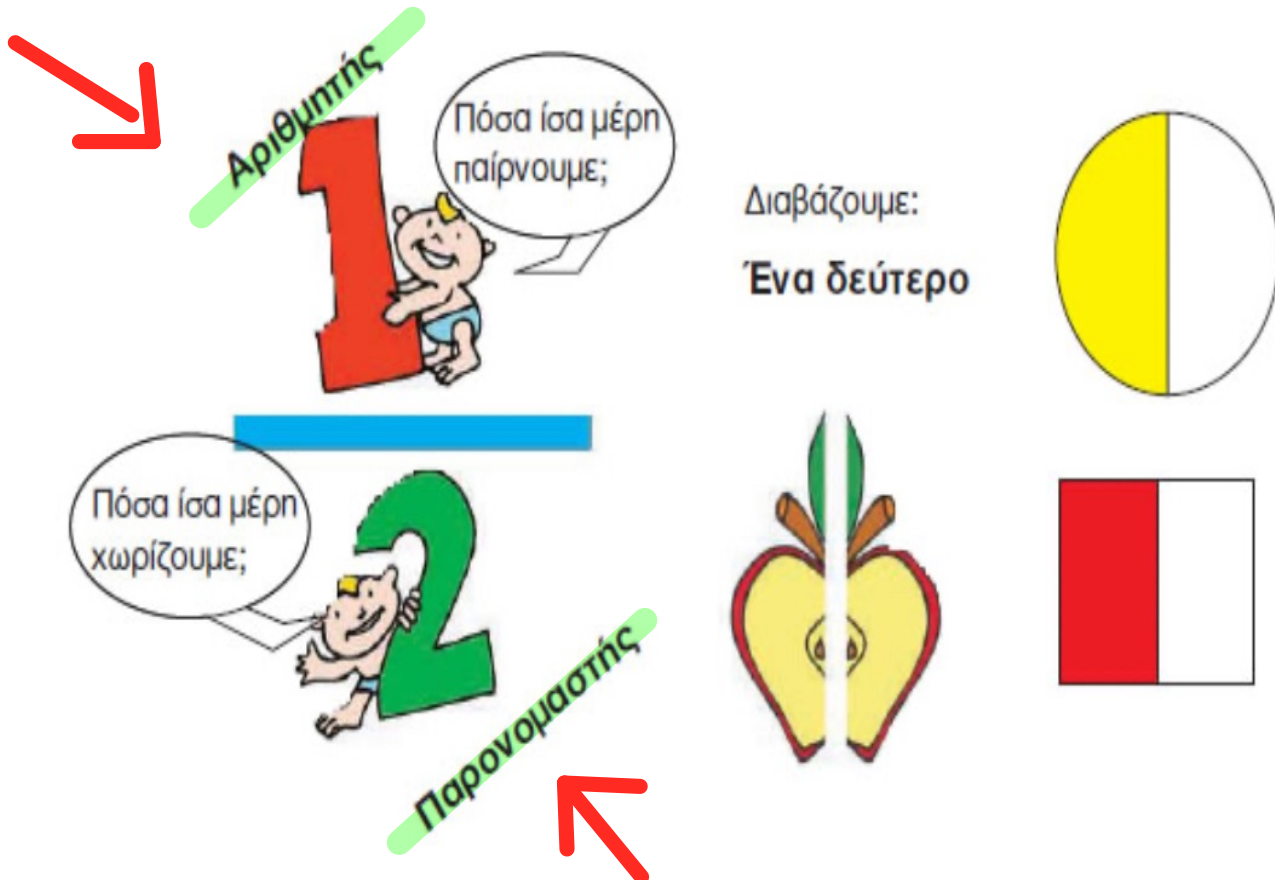
Due Friday 1/31

Ελληνικά Μαθηματικά

Όνομα: _____

Ημερομηνία: _____

Quiz on Fractions – Wednesday 1/29.

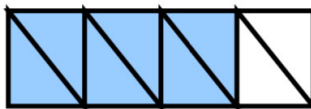


1. Γράφω το κατάλληλο κλάσμα που δείχνει τι μέρος κάθε σχήματος είναι χρωματισμένο :






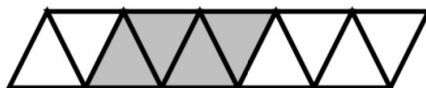













2. Χρωματίζω το μέρος του σχήματος που λέει το κλάσμα :

$$\frac{2}{4}$$



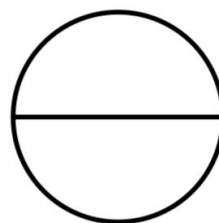
$$\frac{3}{8}$$



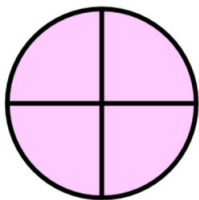
$$\frac{5}{9}$$



$$\frac{1}{2}$$



3. Γράφω το κλάσμα και τι σημαίνει, όπως στο παράδειγμα :



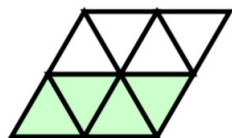
$$\frac{4}{4}$$

Από τα 4 ίσα μέρη πήρα τα 4.



$$\frac{2}{6}$$

Από τα 6 ίσα μέρη πήρα τα 2.



$$\frac{3}{6}$$

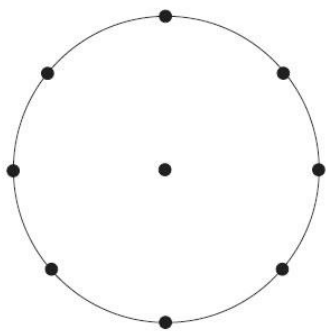
Από τα 6 ίσα μέρη πήρα τα 3.

4. Συμπληρώνω τον πίνακα:

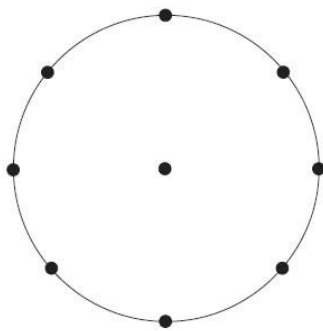
τρία πέμπτα	$\frac{4}{9}$		
	$\frac{1}{8}$		$\frac{6}{10}$
δύο δεύτερα		τέσσερα δωδέκατα	
έξι εικοστά			$\frac{3}{7}$
	$\frac{9}{11}$	ένα ένατο	



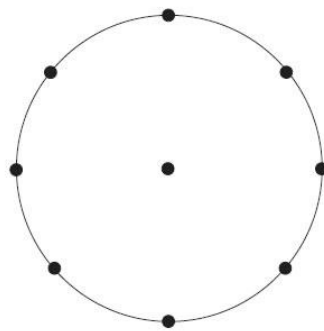
Χωρίζω τον κύκλο και χρωματίζω το μέρος που μου δείχνει το κάθε κλάσμα.



$$\frac{1}{2}$$





$$\frac{1}{4}$$



$$\frac{1}{8}$$



Χρωματίζω όσα λουλούδια μου λέει το κλάσμα.

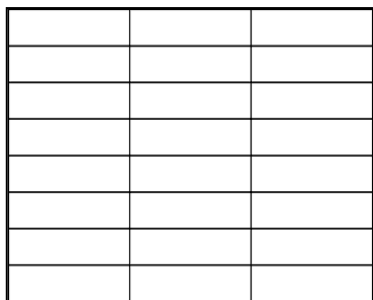


$$\frac{1}{2}$$

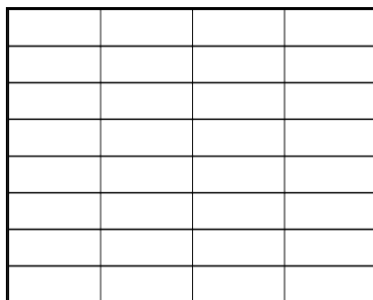
$$\frac{1}{4}$$



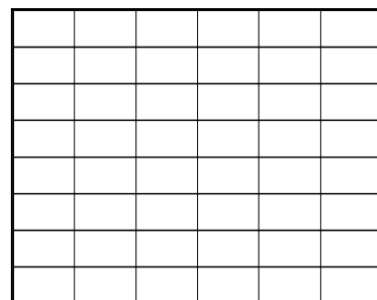
Χρωματίζω όσα λέει το κλάσμα.



$$\frac{1}{3}$$

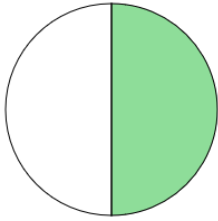


$$\frac{1}{4}$$

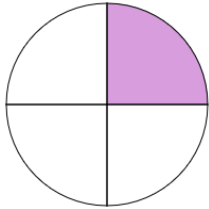


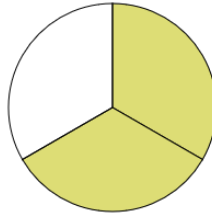
$$\frac{1}{6}$$

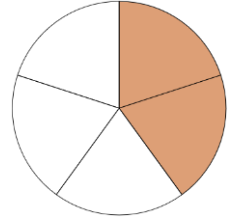
→ Γράφω το κατάλληλο κλάσμα, που δείχνει τι μέρος κάθε σχήματος είναι χρωματισμένο, όπως το παράδειγμα.



$$\frac{1}{2}$$

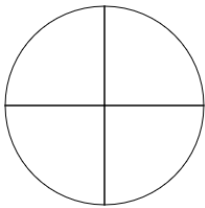




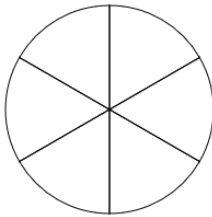


→ Χρωματίζω το μέρος της πίτας που μου δείχνει το κάθε κλάσμα.

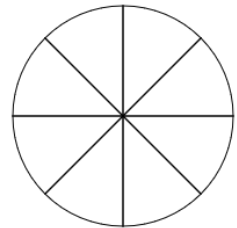
$$\frac{1}{4}$$



$$\frac{3}{6}$$




$$\frac{5}{8}$$



→ Τι μέρος κάθε σχήματος είναι χρωματισμένο; Γράφω το κατάλληλο κλάσμα:



↙ _____



↙ _____

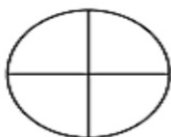


↙ _____



↙ _____

→ Χρωματίζω το μέρος του σχήματος που λέει κάθε κλάσμα:



$$\frac{1}{4}$$



$$\frac{1}{8}$$



$$\frac{1}{9}$$

