

HOMEWORK 19

Due Friday 1/24

Ελληνικά Μαθηματικά

Όνομα: _____

Ημερομηνία: _____

Review the study guide below. We will have a Quiz on the Names of the Fractions on Wednesday 1/22.

Study!

1. Μάθε:

$$\frac{1}{2} = \text{ένα δεύτερο}$$

$$\frac{1}{3} = \text{ένα τρίτο}$$

$$\frac{1}{4} = \text{ένα τέταρτο}$$

$$\frac{1}{5} = \text{ένα πέμπτο}$$

$$\frac{1}{6} = \text{ένα έκτο}$$

$$\frac{1}{7} = \text{ένα έβδομο}$$

Study!

$$\frac{1}{8} = \text{ένα όγδοο}$$

$$\frac{1}{9} = \text{ένα ένατο}$$

$$\frac{1}{10} = \text{ένα δέκατο}$$

$$\frac{1}{11} = \text{ένα εντέκατο}$$

$$\frac{1}{12} = \text{ένα δωδέκατο}$$

$$\frac{1}{13} = \text{ένα δέκατο τρίτο}$$

$$\frac{1}{14} = \text{ένα δέκατο τέταρτο}$$

$$\frac{1}{15} = \text{ένα δέκατο πέμπτο}$$

$$\frac{1}{16} = \text{ένα δέκατο έκτο}$$

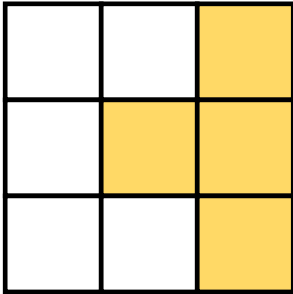
$$\frac{1}{17} = \text{ένα δέκατο έβδομο}$$

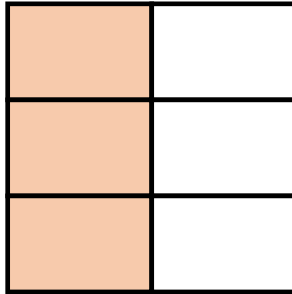
$$\frac{1}{18} = \text{ένα δέκατο όγδοο}$$


$$\frac{1}{19} = \text{ένα δέκατο ένατο}$$

ΚΛΑΣΜΑΤΙΚΕΣ ΜΟΝΑΔΕΣ ΚΑΙ ΚΛΑΣΜΑΤΙΚΟΙ ΑΡΙΘΜΟΙ

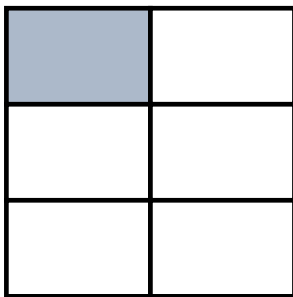
1. Γράφω το κλάσμα που δηλώνει το χρωματισμένο μέρος κάθε σχήματος.



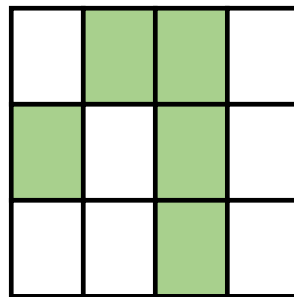




Τα κλάσματα που έχουν αριθμητή το ένα λέγονται **κλασματικές μονάδες**.
Τα υπόλοιπα λέγονται **απλοί κλασματικοί αριθμοί**.

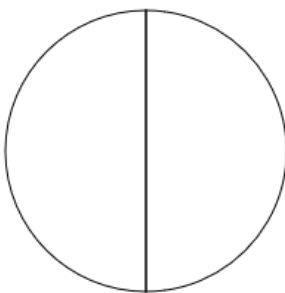




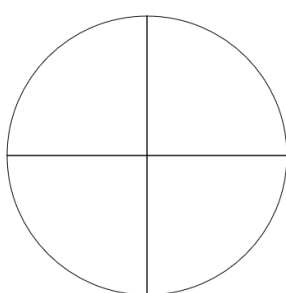




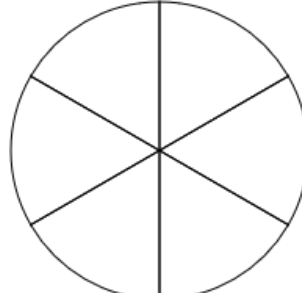
2. Χρωματίζω το μέρος του κύκλου που μου δείχνει κάθε κλάσμα.



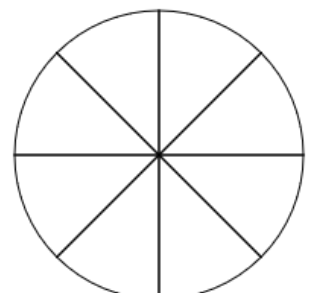
$$\frac{1}{2}$$



$$\frac{4}{4}$$



$$\frac{3}{6}$$



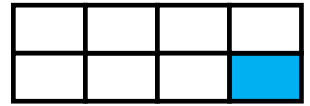
$$\frac{7}{8}$$

1. Γράφω το κατάλληλο κλάσμα, που δείχνει τι μέρος κάθε σχήματος είναι χρωματισμένο.








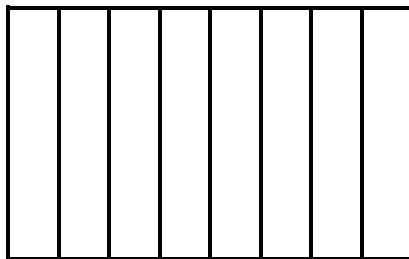


2. Χρωματίζω το μέρος του σχήματος που μου δείχνει το κλάσμα. Έπειτα γράφω το **όνομα** του κλάσματος με λέξεις.

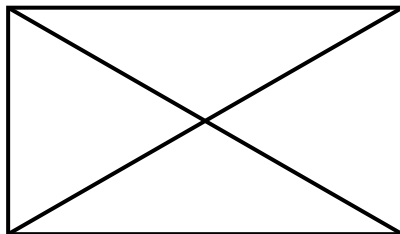
$$\frac{1}{5}$$



$$\frac{1}{8}$$



$$\frac{1}{4}$$



$$\frac{1}{6}$$

