

Archimedean Pre-K

13 ΕΩΣ 17 Ιανουαρίου 2025

ΟΝΟΜΑ: _____



Αυτή την εβδομάδα μαθαίνουμε....

HOMEWORK 14, Sect 1

ΔΕΚΑΤΕΣΣΕΡΑ	14
ΤΕΤΡΑΓΩΝΟ	
ΡΟ	Ρ ρ
ρόδι	

*Language:

-The letter: Ρ ρ

Listening, Speaking, Reading
Writing.

*Mathematics:

-Number: 14

Counting and matching
strategies, constructing sets,
comparing quantities, ordering
numbers, composing numbers.

* Geometry: The square

Πηγές (Resources)

*The Homework 14 Guide



Εργασία στο σπίτι



ΔΕΥΤΕΡΑ	ΤΡΙΤΗ	ΤΕΤΑΡΤΗ	ΠΕΜΠΤΗ	ΠΑΡΑΣΚΕΥΗ
Section 1 & 2 Section 3: 1, 2	Section 3: 4, 5	REVIEW: the colors, the letters and the vocabulary	REVIEW: Math and Geometry.	NO SCHOOL

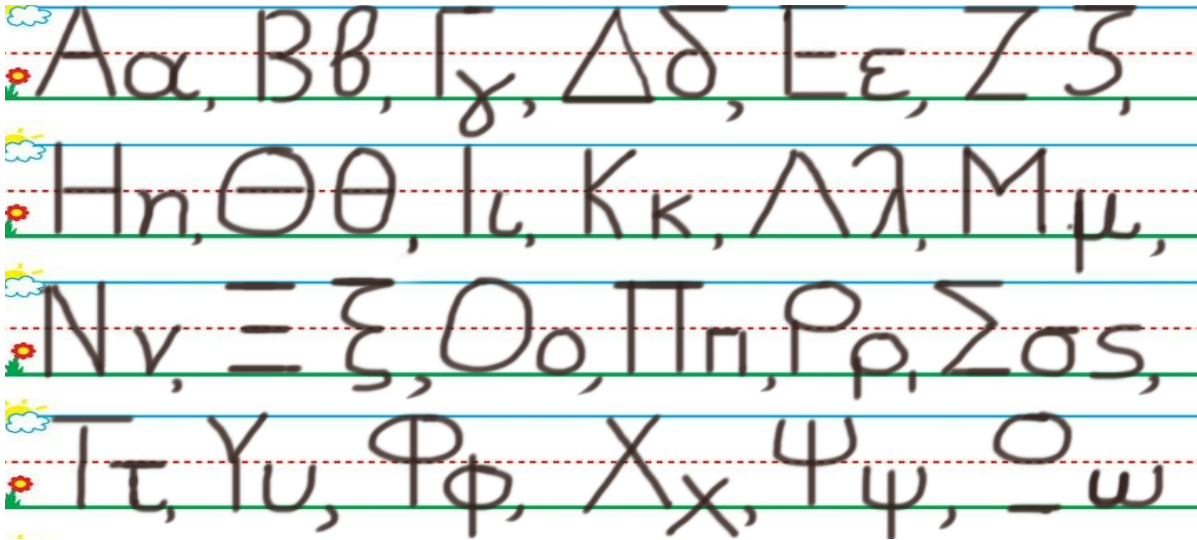
HOMEWORK 14. Section 3. Activities. Activities should be turned in on Friday.

ΟΝΟΜΑ:

(ΟΝΟΜΑ) NAME

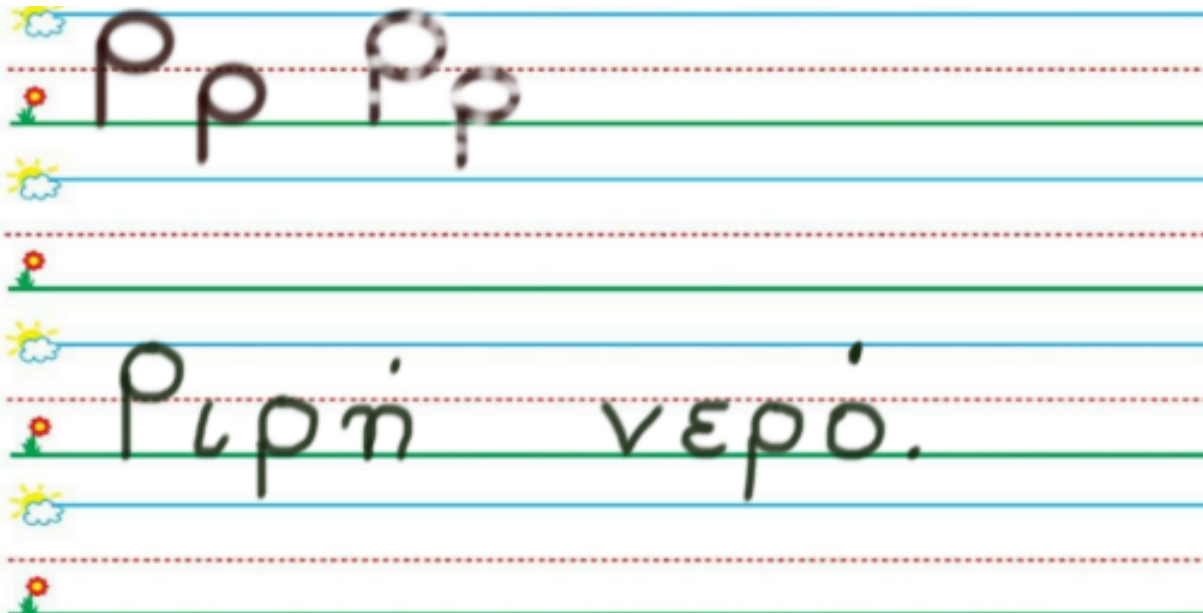
1. ΚΥΚΛΩΣΕ ΤΟ ΓΡΑΜΜΑ : Ρ ρ

(ΚΥΚΛΩΣΕ ΤΟ ΓΡΑΜΜΑ: Ρ ρ.) CIRCLE THE LETTER: Ρ ρ



2. ΓΡΑΨΕ:

(ΓΡΑΨΕ) WRITE



3.1 ΧΡΩΜΑΤΙΣΕ ΚΟΚΚΙΝΑ ΤΑ ΔΕΚΑ ΚΟΥΤΙΑ ΤΗΣ ΔΕΚΑΔΑΣ ΜΕ ΤΑ ΜΙΚΡΑ ΚΟΥΤΙΑ. ΧΡΩΜΑΤΙΣΕ ΚΙΤΡΙΝΑ ΤΑ ΤΕΣΣΕΡΑ ΚΟΥΤΙΑ ΤΗΣ ΔΕΚΑΔΑΣ ΜΕ ΤΑ ΜΕΓΑΛΥΤΕΡΑ ΚΟΥΤΙΑ.

(HROMATISE KOKKINA TA THEKA KOUTIA TIS THEKATHAS ME TA MIKRA KOUTIA. HROMATISE KITRINA TA TESSERA KOUTIA TIS THEKATHAS ME TA MEYALITERA KOUTIA.) COLOR RED THE TEN SMALL BOXES OF THE GROUP OF THE TEN SMALL BOXES. COLOR YELLOW FOUR BOXES OF THE GROUP OF THE TEN BIGGER BOXES.

3.2 ΜΕΤΡΗΣΕ. ΠΟΣΑ ΕΙΝΑΙ ΤΑ ΚΟΥΤΙΑ ΜΕ ΧΡΩΜΑ ΟΛΑ ΜΑΖΙ; ΠΕΣ ΤΟΝ ΑΡΙΘΜΟ. ΓΡΑΨΕ ΤΟΝ ΑΡΙΘΜΟ ΠΑΝΩ ΣΤΗ ΓΡΑΜΜΗ. (METRISE. POSA INE TA KOUTIA ME HROMA OLA MAZI? PES TON ARITHMO. YRAPSE TON ARITHMO PANO STI YRAMMI.) COUNT. HOW MANY ARE THE BOXES WITH COLOR ALL TOGETHER? WRITE THE NUMBER ON THE LINE.

.....

3.3 ΜΕΤΡΗΣΕ ΚΑΙ ΓΡΑΨΕ ΤΟΥΣ ΑΡΙΘΜΟΥΣ. COUNT AND WRITE THE NUMBERS.

.....

ΚΟΚΚΙΝΑ ΚΟΥΤΙΑ

KOKKINA KOUTIA
RED BOXES

ΚΑΙ

KE
AND

.....

ΚΙΤΡΙΝΑ ΚΟΥΤΙΑ

KITRINA KOUTIA
YELLOW BOXES

.....

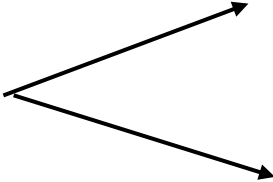
ΤΑ ΚΟΥΤΙΑ ΜΕ ΧΡΩΜΑ ΟΛΑ ΜΑΖΙ

TA KOUTIA ME HROMA OLA MAZI
THE BOXES WITH COLOR ALL TOGETHER

3.4 ΠΟΣΑ ΕΙΝΑΙ ΟΛΑ ΜΑΖΙ; ΓΡΑΨΕ ΤΟΝ ΑΡΙΘΜΟ ΜΕΣΑ ΣΤΟ ΚΟΥΤΙ.

(POSA INE OLA MAZI? YRAPSE TON ARITHMO MESA STO KOUTI) HOW MANY ARE ALL TOGETHER? WRITE THE NUMBER IN THE BOX.

--



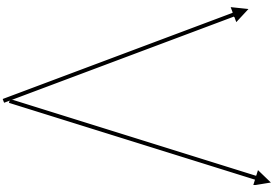
10

4

3.5 ΠΟΣΑ ΕΙΝΑΙ ΜΕΣΑ ΣΕ ΚΑΘΕ ΔΕΚΑΔΑ; ΓΡΑΨΕ ΤΟΥΣ ΑΡΙΘΜΟΥΣ ΜΕΣΑ ΣΤΑ ΚΟΥΤΙΑ.

(POSA INE MESA SE KATHE THEKATHA? YRAPSE TOUS ARITHMOUS MESA STA KOUTIA) HOW MANY ARE IN EACH TEN FRAME? WRITE THE NUMBERS IN THE BOXES.

14



--

--

(ΣΚΕΨΟΥ ΤΗ ΣΕΙΡΑ ΠΟΥ ΜΕΤΡΑΣ ΚΑΘΩΣ ΣΥΓΚΡΙΝΕΙΣ ΤΟΥΣ ΑΡΙΘΜΟΥΣ)

SAY THE NUMBERS CIRCLE **THE GREATER** NUMBER. (THINK ABOUT THE COUNTING ORDER AS YOU COMPARE THE NUMBERS.)

1.

8

4

II.

7

10

III.

9

3

- HOW MANY ANGLES DOES A SQUARE HAVE? COUNT AND WRITE THE NUMBER.

- HOW MANY LINES DOES A SQUARE HAVE? COUNT AND WRITE THE NUMBER.

.....

.....

- (EHI ENA TETRAYONO TESSERIS YRAMMES **ISES?** KIKLOSE TI SOSTI LEXI.) DOES A SQUARE HAVE 4 **EQUAL** LINES?

NAI

OXI

Ρ ρ



**Ρ ρ ρ, το νερό.
- Νερό, Ριρή.
Καλό νερό.**

