

Archimedean Pre-K




6 ΕΩΣ 10 ΙΑΝΟΥΑΡΙΟΥ 2025

ΟΝΟΜΑ: _____



Αυτή την εβδομάδα μαθαίνουμε....

HOMEWORK 13. Sect. 1

ΔΕΚΑΤΡΙΑ	13
ΓΩΝΙΑ	
ΤΡΙΓΩΝΟ	
ΧΙ	Χ χ
ΧΕΛΩΝΑ	

*Language:

-The letter: X χ

Listening, Speaking, Reading
Writing.

*Mathematics:

-Number: 13

Counting and matching
strategies, constructing sets,
comparing quantities, ordering
numbers, composing numbers.

* Geometry: The triangle

Πηγές (Resources)

*The Homework 13 Guide



Εργασία στο σπίτι



ΔΕΥΤΕΡΑ	ΤΡΙΤΗ	ΤΕΤΑΡΤΗ	ΠΕΜΠΤΗ	ΠΑΡΑΣΚΕΥΗ
Section 1 & 2	Section 3: 1, 2	Section 3: 3, 4	Section 3: 5	REVIEW: Flash cards: the colors, the letters and Geometry. Count up to 13

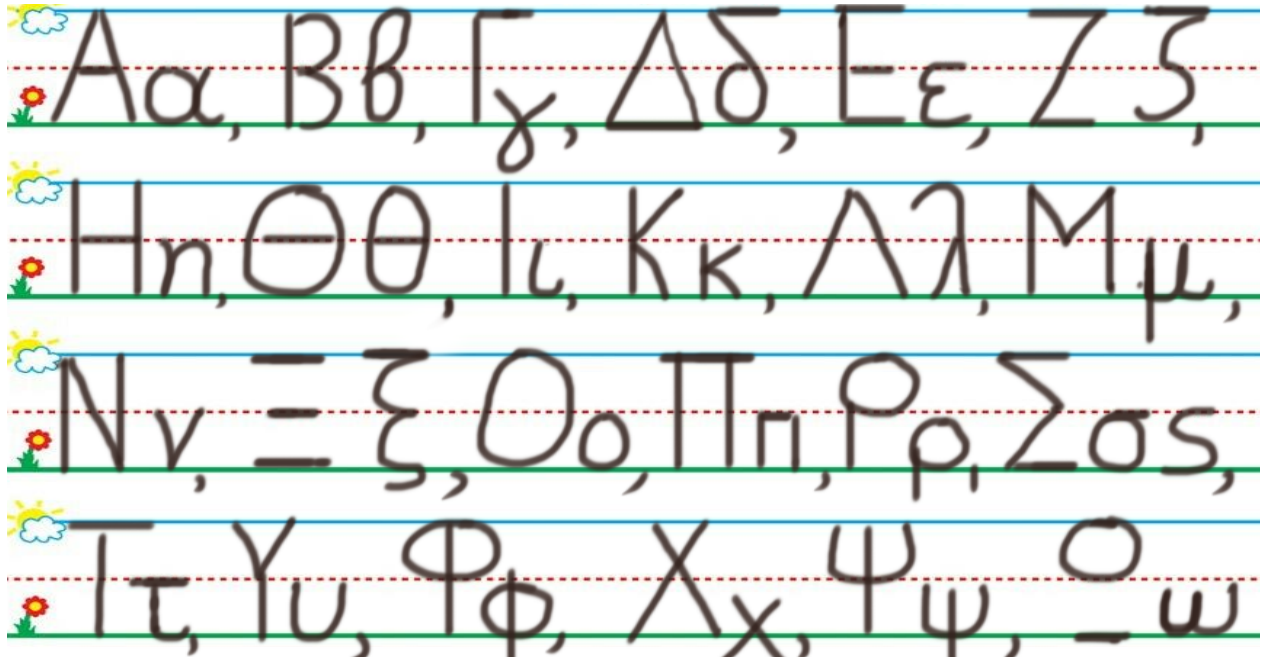
HOMEWORK 13. Section 3. Activities. Activities should be turned in on Friday.

ΟΝΟΜΑ:

(ΟΝΟΜΑ) NAME


1.ΚΥΚΛΩΣΕ ΤΟ ΓΡΑΜΜΑ: Χ χ

(ΚΥΚΛΩΣΕ ΤΟ ΓΡΑΜΜΑ: Χ χ) CIRCLE THE LETTER: Χ χ



2. ΓΡΑΨΕ :

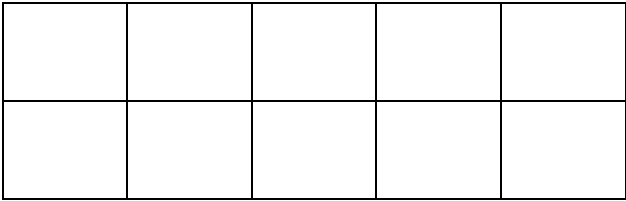

(ΓΡΑΨΕ) WRITE



3.1. ΧΡΩΜΑΤΙΣΕ ΚΑΦΕ ΤΑ ΔΕΚΑ ΚΟΥΤΙΑ ΤΗΣ ΔΕΚΑΔΑΣ ΜΕ ΤΑ ΜΙΚΡΑ ΚΟΥΤΙΑ. ΧΡΩΜΑΤΙΣΕ ΠΡΑΣΙΝΑ ΤΑ ΤΡΙΑ ΚΟΥΤΙΑ ΤΗΣ ΔΕΚΑΔΑΣ ΜΕ ΤΑ ΜΕΓΑΛΥΤΕΡΑ ΚΟΥΤΙΑ.

(ΧΡΩΜΑΤΙΣΕ ΚΑΦΕ ΤΑ ΤΗΚΑ ΚΟΥΤΙΑ ΤΙΣ ΤΗΚΑΤΗΣ ΜΕ ΤΑ ΜΙΚΡΑ ΚΟΥΤΙΑ. ΧΡΩΜΑΤΙΣΕ ΠΡΑΣΙΝΑ ΤΑ ΤΡΙΑ ΚΟΥΤΙΑ ΤΙΣ ΤΗΚΑΤΗΣ ΜΕ ΤΑ

MEYALITERA KOUTIA.) COLOR BROWN THE TEN SMALL BOXES OF THE GROUP OF THE TEN SMALL BOXES. COLOR GREEN THREE BOXES OF THE GROUP OF THE TEN BIGGER BOXES.



3.2. ΜΕΤΡΗΣΕ. ΠΟΣΑ ΕΙΝΑΙ ΤΑ ΚΟΥΤΙΑ ΜΕ ΧΡΩΜΑ ΟΛΑ ΜΑΖΙ; ΠΕΣ ΤΟΝ ΑΡΙΘΜΟ. ΓΡΑΨΕ ΤΟΝ ΑΡΙΘΜΟ ΠΑΝΩ ΣΤΗ ΓΡΑΜΜΗ. (METRISE. POSA INE TA KOUTIA ME HROMA OLA MAZI? PES TON ARITHMO. YRAPSE TON ARITHMO PANO STI YRAMMI.)

COUNT. HOW MANY ARE THE BOXES WITH COLOR ALL TOGETHER?
WRITE THE NUMBER ON THE LINE.

.....

3.3. ΜΕΤΡΗΣΕ ΚΑΙ ΓΡΑΨΕ ΤΟΥΣ ΑΡΙΘΜΟΥΣ. COUNT AND WRITE THE NUMBERS.

.....

ΚΑΦΕ ΚΟΥΤΙΑ

KAPE KOUTIA
BROWN BOXES

ΚΑΙ

KE
AND

.....

ΠΡΑΣΙΝΑ ΚΟΥΤΙΑ

PRASINA KOUTIA
GREEN BOXES

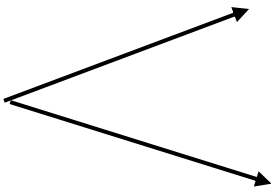

.....

ΤΑ ΚΟΥΤΙΑ ΜΕ ΧΡΩΜΑ ΟΛΑ ΜΑΖΙ

TA KOUTIA ME HROMA OLA MAZI
THE BOXES WITH COLOR ALL TOGETHER

3.4 ΠΟΣΑ ΕΙΝΑΙ ΟΛΑ ΜΑΖΙ; ΓΡΑΨΕ ΤΟΝ ΑΡΙΘΜΟ ΜΕΣΑ ΣΤΟ ΚΟΥΤΙ.

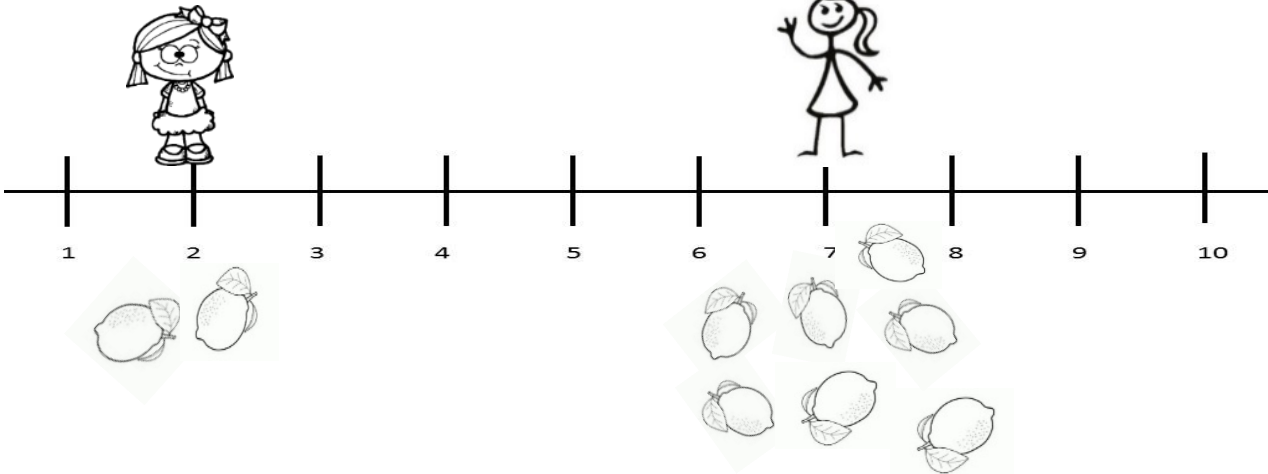
(POSA INE OLA MAZI? YRAPSE TON ARITHMO MESA STO KOUTI) HOW MANY ARE ALL TOGETHER? WRITE THE NUMBER IN THE BOX.



10

3

4. Η ΕΛΛΗ ΕΧΕΙ ΔΥΟ ΛΕΜΟΝΙΑ. Η ΑΝΝΑ ΕΧΕΙ ΕΠΤΑ ΛΕΜΟΝΙΑ. (I ELLI EHI THIO LEMONIA. I ANNA EHI EPTA LEMONIA.) ELLI HAS 2 LEMONS. ANNA HAS 7 LEMONS.



- ΠΟΙΑ ΕΧΕΙ ΛΙΓΟΤΕΡΑ ΛΕΜΟΝΙΑ;

ΓΡΑΨΕ ΤΟ ΟΝΟΜΑ ΤΗΣ ΣΤΗ ΓΡΑΜΜΗ.

(PIA EHI LIYOTERA LEMONIA? YRAPSE TO ONOMA TIS PANO STI YRAMMI)

WHO HAS FEWER LEMONS? WRITE HER NAME ON THE LINE.

.....

- ΠΟΙΑ ΕΧΕΙ ΠΕΡΙΣΣΟΤΕΡΑ ΛΕΜΟΝΙΑ;

ΓΡΑΨΕ ΤΟ ΟΝΟΜΑ ΤΗΣ ΣΤΗ ΓΡΑΜΜΗ.

(PIA EHI PERISSOTERA LEMONIA? YRAPSE TO ONOMA TIS PANO STI YRAMMI)

WHO HAS MORE LEMONS? WRITE HER NAME ON THE LINE.

.....

- ΚΥΚΛΩΣΕ ΤΙΣ ΛΕΞΕΙΣ ΠΟΥ ΚΑΝΟΥΝ ΤΗΝ ΠΡΟΤΑΣΗ ΣΩΣΤΗ.

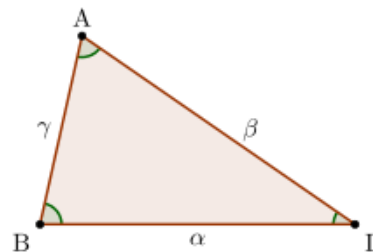
(KIKLOSE TIS LEXIS POU KANOUN THN PROTASI SOSTI) CIRCLE THE WORDS THAT MAKE THE SENTENCE TRUE.

Ο ΑΡΙΘΜΟΣ 7 ΕΙΝΑΙ _____ ΤΟΝ ΑΡΙΘΜΟ 2

⇒ ΜΕΓΑΛΥΤΕΡΟΣ ΑΠΟ (MEYALITEROS APO) GREATER THAN

⇒ ΜΙΚΡΟΤΕΡΟΣ ΑΠΟ (MIKROTEROS APO) LESS THAN

5. ΝΑ ΕΝΑ ΤΡΙΓΩΝΟ. (NA, ENA TRIYONO) THERE IS A TRIANGLE.



- ΠΟΣΕΣ ΓΩΝΙΕΣ ΕΧΕΙ ΕΝΑ ΤΡΙΓΩΝΟ; ΜΕΤΡΗΣΕ ΚΑΙ ΓΡΑΨΕ ΤΟΝ ΑΡΙΘΜΟ. (POSES YONIES EHI ENA TRIYONO? METRISE KAI YRAPSE TON ARITHMO.)

HOW MANY ANGLES DOES A TRIANGLE HAVE? COUNT AND WRITE THE NUMBER.




.....

- ΠΟΣΕΣ ΓΡΑΜΜΕΣ ΕΧΕΙ ΤΟ ΤΡΙΓΩΝΟ; ΜΕΤΡΗΣΕ ΚΑΙ ΓΡΑΨΕ ΤΟΝ ΑΡΙΘΜΟ. (POSES YRAMMES EHI TO TRIYONO? METRISE KAI YRAPSE TON ARITHMO.)

HOW MANY LINES DOES THE TRIANGLE HAVE? COUNT AND WRITE THE NUMBER.

.....

Χ χ



Χ χ χ η χήνα.

Κο, κο, κο, η κότα.

Πι, πι, το παπί.