

Δευτέρα 16 Δεκεμβρίου 2024 Όνομα _____ Τμήμα: _____

Ελληνικά Μαθηματικά-Greek Math-4th Grade

Πρόσθεση και Αφαίρεση Δεκαδικών Αριθμών

Dear students,
This week we are learning:

Addition and Subtraction of Decimals

See on Archie the corresponding **Study Guide**
"Addition and Subtraction of Decimals"

Please, follow this schedule:

Δευτέρα 12/16 σελίδες 1-2

Επιστροφή

Due date

Πέμπτη 12/19
(till 5.00 p.m.)

Χιλιάδες Εκατοντάδες Δεκάδες Μονάδες δέκατα εκατοστά χιλιοστά

X

E

Δ

M

δ

ε

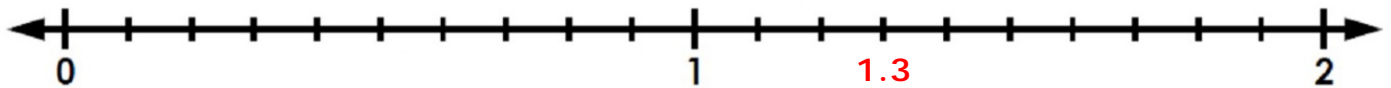

X




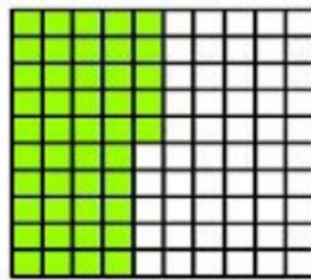
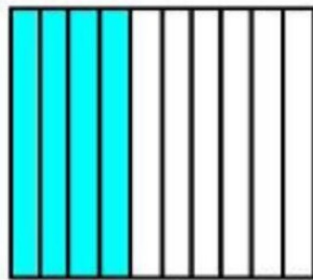
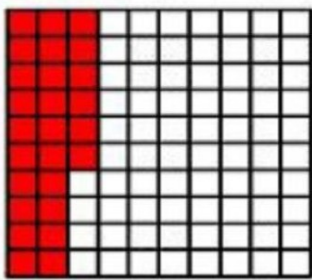
.



1. Τοποθέτησε τους δεκαδικούς αριθμούς πάνω στην αριθμογραμμή όπως στο παράδειγμα:



2. Γράψε κάτω από κάθε διάγραμμα τον δεκαδικό αριθμό:



3. Συμπλήρωσε μεγαλύτερο $>$, μικρότερο $<$ ή ίσο $=$:

0.3 0.03	4.0 4.00	7.8 7.088
1.25 1.5	3.007 30.7	5.0 0.5
3.56 3.560	5.9 3.90	0.05 0.15
1.8 1.808	2.5 25.0	4.4 4.04
3.3 3.300	9.01 9.001	5.7 5.71

Άσκηση:

Κάνω τις παρακάτω προσθέσεις και αφαιρέσεις κάθετα:

$$137.18 + 22.11$$

$$54.258 + 36.39$$

$$0.084 + 38.2$$

$$6.57 - 4.04$$

$$42.02 - 8.54$$

$$8 - 4.214$$

$$12 - 5.06$$

$$9 + 7.32$$

$$0.34 + 4.214$$

$$39.67 + 3.526$$

$$456 - 2.35$$

$$683.75 + 9.25$$