

Archimedean Pre-K
9 ΕΩΣ 13 ΟΚΤΩΒΡΙΟΥ 2023

ΟΝΟΜΑ: _____



Αυτή την εβδομάδα μαθαίνουμε....

✂ Homework 4 Sect. 1 |

ΤΕΣΣΕΡΑ

4

ΜΩΒ



ΝΙ

Ν ν

νεράιδα



*Language:

-The letter: Ν ν

-Color: Μωβ

Listening, Speaking, Reading
Writing.

*Mathematics:

-Number: 4

Counting and matching
strategies, constructing sets,
comparing quantities, the five
and the ten frames.

Πηγές (Resources)

*The Homework 4 Guide



Εργασία στο σπίτι



ΔΕΥΤΕΡΑ	ΤΡΙΤΗ	ΤΕΤΑΡΤΗ	ΠΕΜΠΤΗ	ΠΑΡΑΣΚΕΥΗ
Section 1 & 2	Section 3: 1, 2	Section 3: 3	Section 3: 4	Review: Flash cards (Homework 1,2,3,4) Counting in Greek up to ten


HOMEWORK 4. Sect. 3.

ΟΝΟΜΑ:

(ΟΝΟΜΑ) NAME

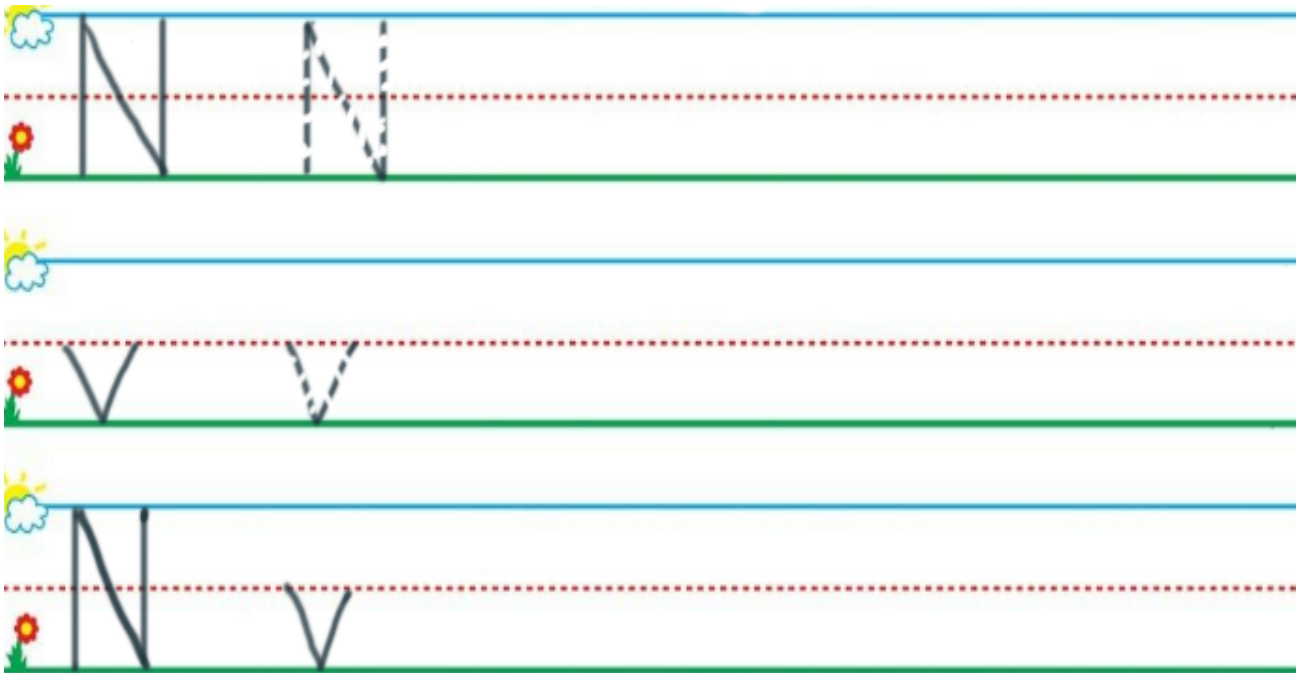
1. ΚΥΚΛΩΣΕ ΤΟ ΓΡΑΜΜΑ Ν ν:

(ΚΥΚΛΩΣΕ ΤΟ ΓΡΑΜΜΑ: Ν ν.) CIRCLE THE LETTER: Ν ν.



2. ΓΡΑΨΕ ΤΟ ΓΡΑΜΜΑ Ν ν:

(ΓΡΑΨΕ ΤΟ ΓΡΑΜΜΑ: Ν ν.) WRITE THE LETTER: Ν ν.



3.1. ΠΕΣ ΤΟΝ ΑΡΙΘΜΟ: ΤΕΣΣΕΡΑ 4

(ΠΕΣ ΤΟΝ ΑΡΙΘΜΟ: ΤΕΣΣΕΡΑ 4) SAY THE NUMBER: FOUR 4

3.2 ΧΡΩΜΑΤΙΣΕ ΜΩΒ ΤΟΣΑ ΚΟΥΤΙΑ ΟΣΑ ΛΕΕΙ Ο ΑΡΙΘΜΟΣ.

(HROMATISE MOV TOSA KOUTIA OSA LEI O ARITHMOS.) COLOR PURPLE AS MANY BOXES AS THE NUMBER SAYS.

--	--	--	--	--

3.3.ΜΕΤΡΗΣΕ. ΠΟΣΑ ΕΙΝΑΙ ΤΑ ΚΟΥΤΙΑ ΜΕ ΧΡΩΜΑ;

(METRISE. POSA EINAI TA KOUTIA ME HROMA?) COUNT. HOW MANY ARE THE BOXES WITH COLOR?

ΠΕΣ ΤΟΝ ΑΡΙΘΜΟ.

(PES TON ARITHMO.) SAY THE NUMBER.

ΓΡΑΨΕ ΤΟΝ ΑΡΙΘΜΟ ΜΕΣΑ ΣΤΟ ΚΟΥΤΙ.

(YRAPSE TON ARITHMO MESA STO KOUTI.) WRITE THE NUMBER IN THE BOX.

--

3.4. ΜΕΤΡΗΣΕ. ΠΟΣΑ ΕΙΝΑΙ ΤΑ ΑΣΠΡΑ ΚΟΥΤΙΑ;

(METRISE. POSA EINAI TA ASPRA KOUTIA?) COUNT. HOW MANY ARE THE WHITE BOXES?

ΠΕΣ ΤΟΝ ΑΡΙΘΜΟ.

(PES TON ARITHMO.) SAY THE NUMBER.

ΓΡΑΨΕ ΤΟΝ ΑΡΙΘΜΟ ΜΕΣΑ ΣΤΟ ΚΟΥΤΙ.

(YRAPSE TON ARITHMO MESA STO KOUTI.) WRITE THE NUMBER IN THE BOX.

--

3.5. ΕΙΝΑΙ ΤΑ ΜΩΒ ΚΟΥΤΙΑ ΤΟΣΑ ΟΣΑ ΕΙΝΑΙ ΤΑ ΑΣΠΡΑ ΚΟΥΤΙΑ;

(INE TA MOV KOUTIA TOSA OSA INE TA ASPRA KOUTIA?) ARE PURPLE BOXES AS MANY AS THE WHITE BOXES?

ΚΥΚΛΩΣΕ ΤΗ ΣΩΣΤΗ ΛΕΞΗ.

(KIKLOSE TI SOSTI LEXI.) CIRCLE THE RIGHT WORD. (NE) YES/ (OHI) NO

ΝΑΙ

ΟΧΙ

4.1 ΠΟΣΕΣ ΕΙΝΑΙ ΟΙ ΝΕΡΑΙΔΕΣ; ΜΕΤΡΗΣΕ ΚΑΙ ΚΥΚΛΩΣΕ ΤΟΝ ΣΩΣΤΟ ΑΡΙΘΜΟ.

(POSES INE I NERAITHES?) HOW MANY ARE THE FAIRIES? (METRISE KAI KIKLOSE TON ARITHMO) COUNT AND CIRCLE THE NUMBER.



1 2 3 4

4.2 ΠΟΣΑ ΕΙΝΑΙ ΤΑ ΑΣΤΕΡΙΑ; ΜΕΤΡΗΣΕ ΚΑΙ ΚΥΚΛΩΣΕ ΤΟΝ ΣΩΣΤΟ ΑΡΙΘΜΟ.

(POSA INE TA ASTERIA?) HOW MANY ARE THE STARS? (METRISE KAI KIKLOSE TON ARITHMO) COUNT AND CIRCLE THE NUMBER.

1 2 3 4

4.3 ΕΙΝΑΙ ΟΙ ΝΕΡΑΙΔΕΣ ΤΟΣΕΣ ΟΣΑ ΕΙΝΑΙ ΤΑ ΑΣΤΕΡΙΑ;

(INE I NERAITDES TOSES OSA INE TA ASTERIA?) ARE THE FAIRIES AS MANY AS THE STARS?


ΚΥΚΛΩΣΕ ΤΗ ΣΩΣΤΗ ΛΕΞΗ.

(KIKLOSE TI SOSTI LEXI.) CIRCLE THE RIGHT WORD. (NE) YES/ (OHI) NO

ΝΑΙ

ΟΧΙ

N v



Nα.



Nα, vα.