

Archimedean Pre-K
23 ΕΩΣ 27 ΣΕΠΤΕΜΒΡΙΟΥ 2024

ΟΝΟΜΑ: _____



Αυτή την εβδομάδα μαθαίνουμε....

Homework 2 Sect. 1

ΔΥΟ	2
ΠΡΑΣΙΝΟ	
ΑΛΦΑ	Α α
αχλάδι	

*Language:

-The letter: Α α

-Color: Πράσινο

Listening, Speaking, Reading
Writing.

*Mathematics:

-Number: 2

Counting, the number frames, one
to one correspondence, spatial
relationships.

Πηγές (Resources)

*The Homework 2 Guide



Εργασία στο σπίτι



ΔΕΥΤΕΡΑ	ΤΡΙΤΗ	ΤΕΤΑΡΤΗ	ΠΕΜΠΤΗ	ΠΑΡΑΣΚΕΥΗ
Section 1 & 2	Section 3: 1, 2	Section 3: 3, 4	Section 3: 5	Review: Section 1, counting in Greek up to ten


HOMEWORK 2. Section 3.

ΟΝΟΜΑ:

(ΟΝΟΜΑ) NAME

1.ΚΥΚΛΩΣΕ ΤΟ ΓΡΑΜΜΑ: Α α

(ΚΥΚΛΩΣΕ ΤΟ ΓΡΑΜΜΑ: CIRCLE THE LETTER: Α α.)



2. ΓΡΑΨΕ ΤΟ ΓΡΑΜΜΑ: Α α

(ΓΡΑΨΕ ΤΟ ΓΡΑΜΜΑ: Α α.)

WRITE THE LETTER: Α α.



3.1. ΠΕΣ ΤΟΝ ΑΡΙΘΜΟ: ΔΥΟ 2

(PES TON ARITHMO: ΔΥΟ 2)
SAY THE NUMBER: ΔΥΟ 2


3.2. ΧΡΩΜΑΤΙΣΕ ΠΡΑΣΙΝΑ ΤΟΣΑ ΚΟΥΤΙΑ ΟΣΑ ΛΕΕΙ Ο ΑΡΙΘΜΟΣ.

(HROMATISE PRASINA TOSA KOUTIA OSA LEI O ARITHMOS.)
COLOR GREEN AS MANY BOXES AS THE NUMBER SAYS.

--	--	--	--	--

4.1. ΜΕΤΡΗΣΕ ΚΑΙ ΚΥΚΛΩΣΕ ΔΥΟ ΑΧΛΑΔΙΑ.

(METRISE KAI KYKLOSE THIO AXLATHIA.) COUNT AND CIRCLE TWO PEARS.



4.2. ΠΟΣΑ ΑΧΛΑΔΙΑ ΕΙΝΑΙ ΜΕΣΑ ΣΤΟΝ ΚΥΚΛΟ;

(POSA AXLATHIA INE MESA STON KIKLO?) HOW MANY PEARS ARE IN THE CIRCLE?

ΠΕΣ ΤΟΝ ΑΡΙΘΜΟ.

(PES TON ARITHMO.) SAY THE NUMBER.

ΓΡΑΨΕ ΤΟΝ ΑΡΙΘΜΟ ΜΕΣΑ ΣΤΟ ΚΟΥΤΙ.

(YRAPSE TON ARITHMO MESA STO KOUTI.) WRITE THE NUMBER IN THE BOX.

--

4.3. ΠΟΣΑ ΑΧΛΑΔΙΑ ΕΙΝΑΙ ΕΞΩ ΑΠΟ ΤΟΝ ΚΥΚΛΟ;

(POSA AXLATHIA INE EXO APO TON KIKLO?) HOW MANY PEARS ARE OUT OF THE CIRCLE?

ΠΕΣ ΤΟΝ ΑΡΙΘΜΟ.


(PES TON ARITHMO.) SAY THE NUMBER.

ΓΡΑΨΕ ΤΟΝ ΑΡΙΘΜΟ ΜΕΣΑ ΣΤΟ ΚΟΥΤΙ.

(YRAPSE TON ARITHMO MESA STO KOUTI.) WRITE THE NUMBER IN THE BOX.

--

5. ΖΩΓΡΑΦΙΣΕ ΕΝΑ ΠΡΑΣΙΝΟ ΑΧΛΑΔΙ ΠΑΝΩ ΣΤΟ ΔΕΝΔΡΟ ΚΑΙ ΕΝΑ ΠΡΑΣΙΝΟ ΑΧΛΑΔΙ ΜΕΣΑ ΣΤΟ ΚΑΛΑΘΙ. (ΖΟΥΡΑΦΙΣΕ ΕΝΑ PRASINO AHLATHI PANO STO THENTHRO KE ΕΝΑ PRASINO AHLATHI MESA STO KALATHI.) DRAW A GREEN PEAR ON THE TREE AND A GREEN PEAR IN THE BASKET.



A α



A α