

Homework 18

Due Thursday 1/16

TEST on Multiplication and Division Wednesday 1/15

Fractions

Study the vocabulary



Study the first 2 pages.

1. Μάθε:

$$\frac{1}{2} = \text{ένα δεύτερο}$$

$$\frac{1}{3} = \text{ένα τρίτο}$$

$$\frac{1}{4} = \text{ένα τέταρτο}$$

$$\frac{1}{5} = \text{ένα πέμπτο}$$

$$\frac{1}{6} = \text{ένα έκτο}$$

$$\frac{1}{7} = \text{ένα έβδομο}$$

$$\frac{1}{8} = \text{ένα όγδοο}$$

$$\frac{1}{9} = \text{ένα ένατο}$$

$$\frac{1}{10} = \text{ένα δέκατο}$$

$$\frac{1}{11} = \text{ένα εντέκατο}$$

$$\frac{1}{12} = \text{ένα δωδέκατο}$$

$$\frac{1}{13} = \text{ένα δέκατο τρίτο}$$

$$\frac{1}{14} = \text{ένα δέκατο τέταρτο}$$

$$\frac{1}{15} = \text{ένα δέκατο πέμπτο}$$

$$\frac{1}{16} = \text{ένα δέκατο έκτο}$$

$$\frac{1}{17} = \text{ένα δέκατο έβδομο}$$

$$\frac{1}{18} = \text{ένα δέκατο όγδοο}$$

$$\frac{1}{19} = \text{ένα δέκατο ένατο}$$

1. Γράφω πώς ονομάζονται οι όροι του κλάσματος.







2. Γράφω πώς διαβάζονται τα παρακάτω κλάσματα, όπως το παράδειγμα.

$\frac{1}{2}$	_____
$\frac{1}{3}$	_____
$\frac{2}{4}$	_____
$\frac{3}{5}$	_____

Το κλάσμα αυτό
διαβάζεται
ένα τέταρτο.

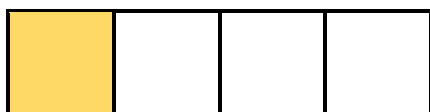


3. Γράφω με κλάσμα τα καρότα που μάζεψε κάθε φορά ο λαγός.



4. Βρίσκω το κλάσμα. Έπειτα περιγράφω με λόγια τι μου δείχνει το κάθε κλάσμα.

$$\frac{1}{4}$$




ένα τέταρτο

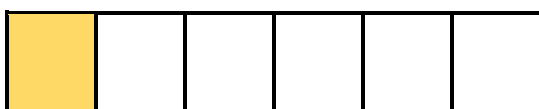
$$\frac{\quad}{\quad}$$



$$\frac{\quad}{\quad}$$



$$\frac{\quad}{\quad}$$



$$\frac{\quad}{\quad}$$

