


Τρίτη 6 Δεκεμβρίου 2021

Όνομα: _____ Τμήμα: _____

4^η Δημοτικού Ελληνικά Μαθηματικά - Εργασία για το σπίτι4th Grade Greek Math Homework

Γεωμετρικά σχήματα - Περίμετρος, εμβαδό

Geometrical shapes - Perimeter, area

Dear Students,

Please adhere to the following schedule when completing your homework

	Να συμπληρωθεί μέχρι (to be completed on):	✓
Σελίδα (Page) 1	Τρίτη 12/06	
Σελίδα (Page) 2	Τετάρτη 12/07	
Σελίδα (Page) 3	Πέμπτη 12/08	
Σελίδες (Pages) 4, 5	Παρασκευή 12/09	
Επιστροφή (Due date)	Κυριακή 12/11	

Τεστ: Δευτέρα 12 Δεκεμβρίου 2022

Please Remember:

Monday, 12/14:

Test on Perimeter & Area of geometrical shapes.

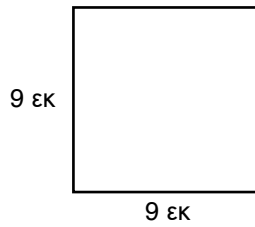
Archimedes

Mr. Pantelis Konstantinidis

pantelis.konstantinidis@archimedean.org

Άσκηση 1: Βρίσκω την περίμετρο και το εμβαδό:

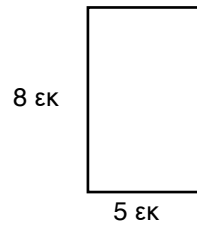
(1)



Περίμετρος: _____

Εμβαδό: _____

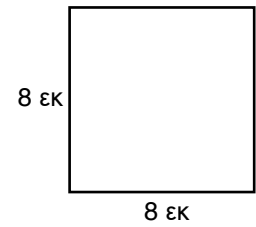
(2)



Περίμετρος: _____

Εμβαδό: _____

(3)



Περίμετρος: _____

Εμβαδό: _____

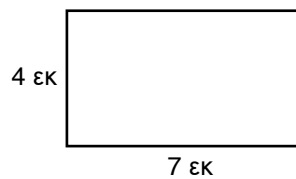
(4)



Περίμετρος: _____

Εμβαδό: _____

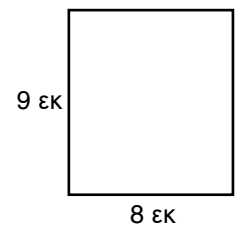
(5)



Περίμετρος: _____

Εμβαδό: _____

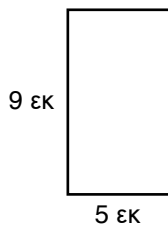
(6)



Περίμετρος: _____

Εμβαδό: _____

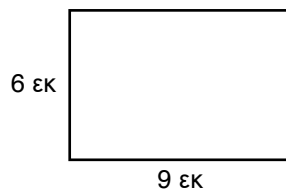
(7)



Περίμετρος: _____

Εμβαδό: _____

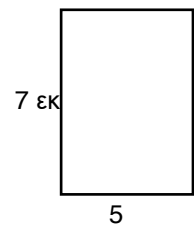
(8)



Περίμετρος: _____

Εμβαδό: _____

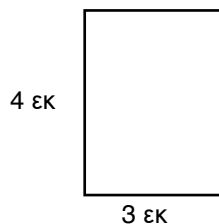
(9)



Περίμετρος: _____

Εμβαδό: _____

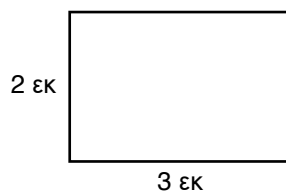
(10)



Περίμετρος: _____

Εμβαδό: _____

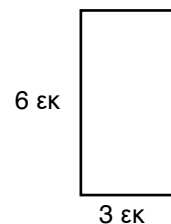
(11)



Περίμετρος: _____

Εμβαδό: _____

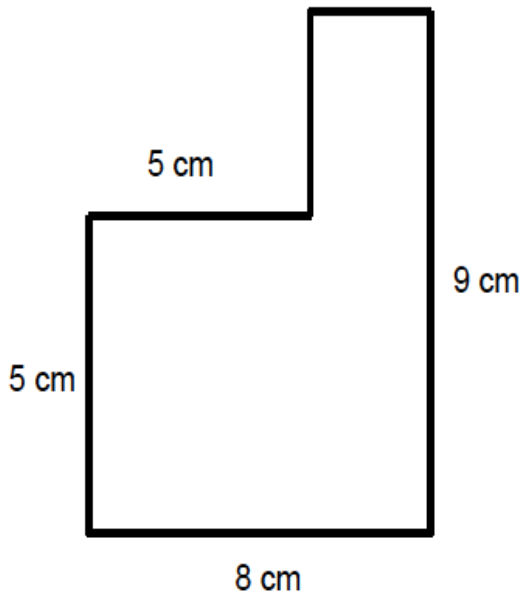
(12)



Περίμετρος: _____

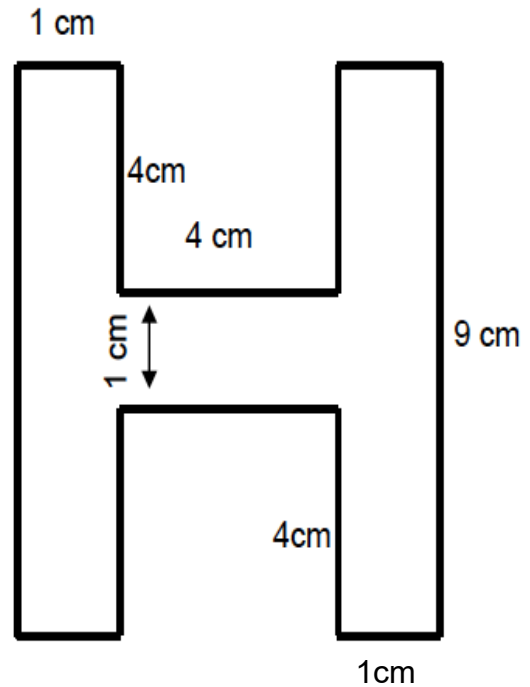
Εμβαδό: _____

Άσκηση 2: Βρίσκω την περίμετρο και το εμβαδό:



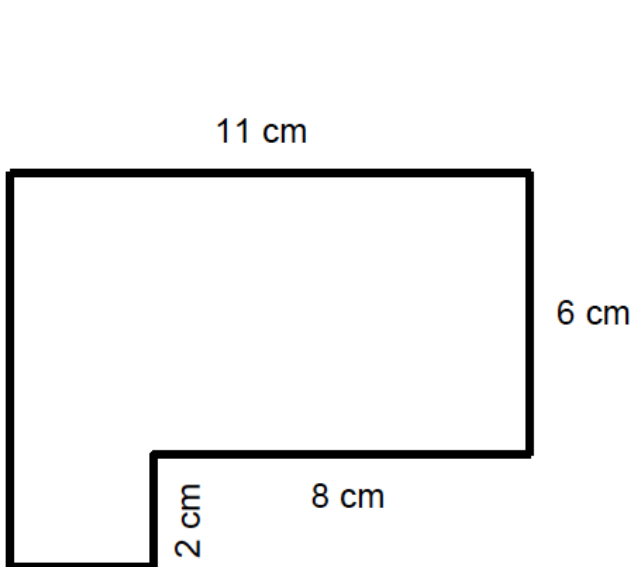
Περίμετρος: _____

Εμβαδό: _____



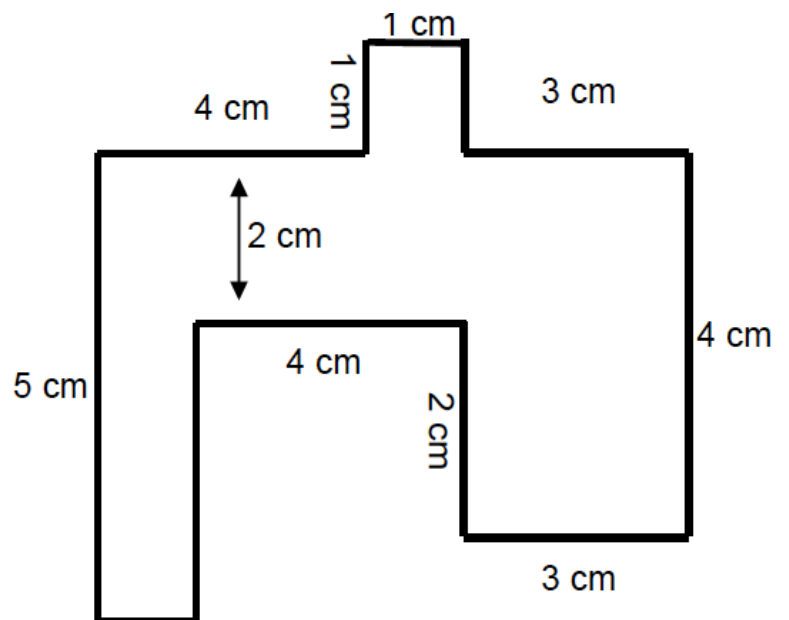
Περίμετρος: _____

Εμβαδό: _____



Περίμετρος: _____

Εμβαδό: _____

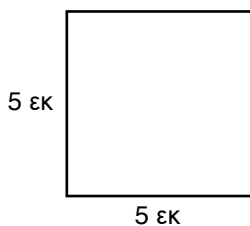


Περίμετρος: _____

Εμβαδό: _____

Άσκηση 3: Βρίσκω την περίμετρο και το εμβαδό:

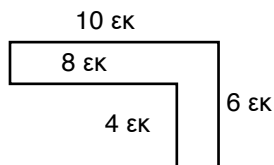
(1)



Περίμετρος: _____

Εμβαδό: _____

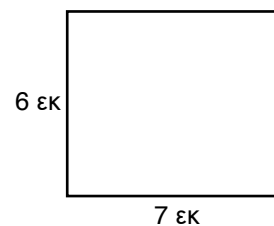
(2)



Περίμετρος: _____

Εμβαδό: _____

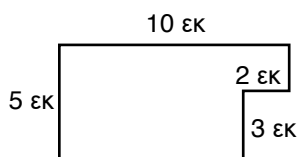
(3)



Περίμετρος: _____

Εμβαδό: _____

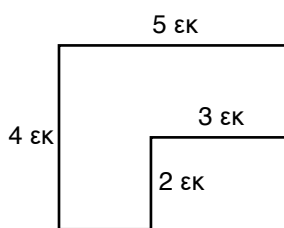
(4)



Περίμετρος: _____

Εμβαδό: _____

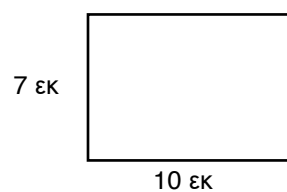
(5)



Περίμετρος: _____

Εμβαδό: _____

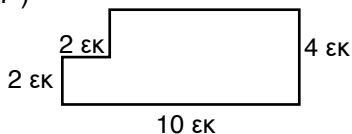
(6)



Περίμετρος: _____

Εμβαδό: _____

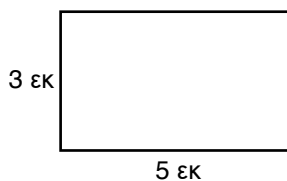
(7)



Περίμετρος: _____

Εμβαδό: _____

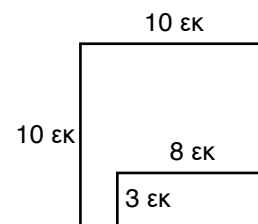
(8)



Περίμετρος: _____

Εμβαδό: _____

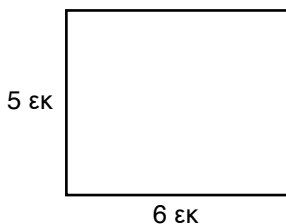
(9)



Περίμετρος: _____

Εμβαδό: _____

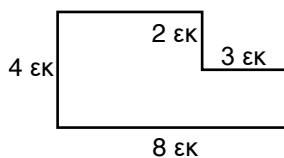
(10)



Περίμετρος: _____

Εμβαδό: _____

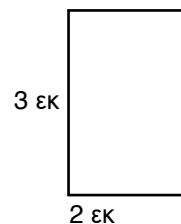
(11)



Περίμετρος: _____

Εμβαδό: _____

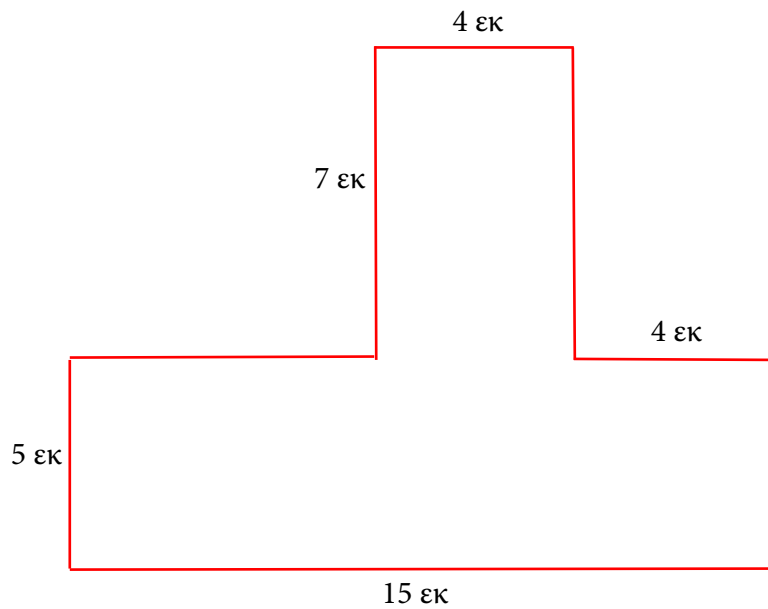
(12)



Περίμετρος: _____

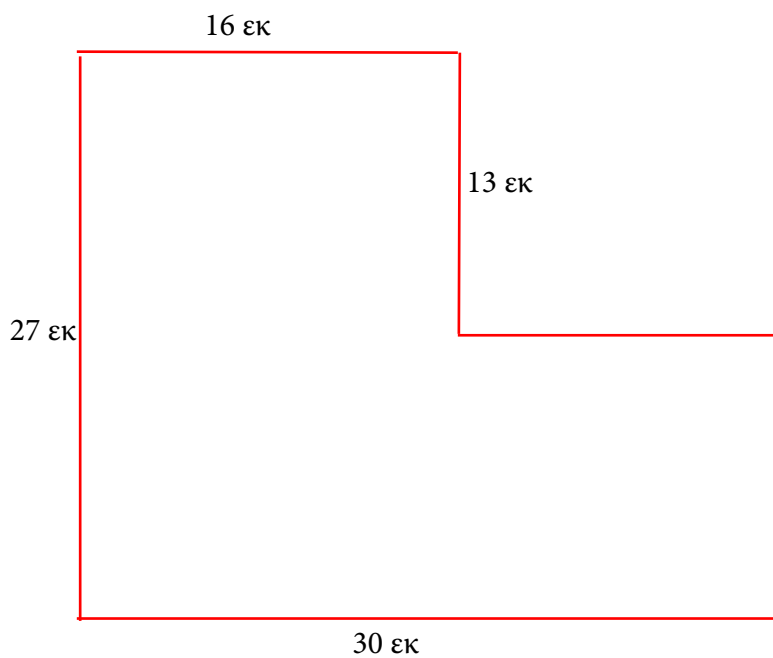
Εμβαδό: _____

Άσκηση 4: Βρίσκω την περίμετρο και το εμβαδό:



Περίμετρος:

Εμβαδό:

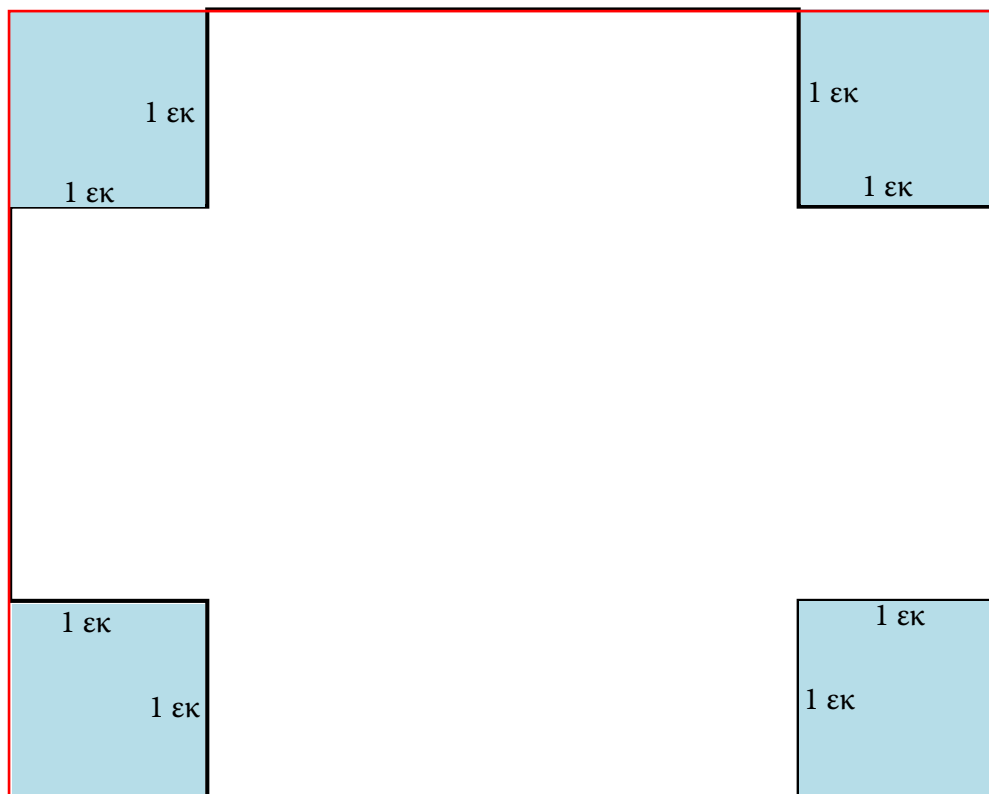


Περίμετρος:

Εμβαδό:

Άσκηση 5: Βρίσκω την περίμετρο και το εμβαδό:

6 εκ

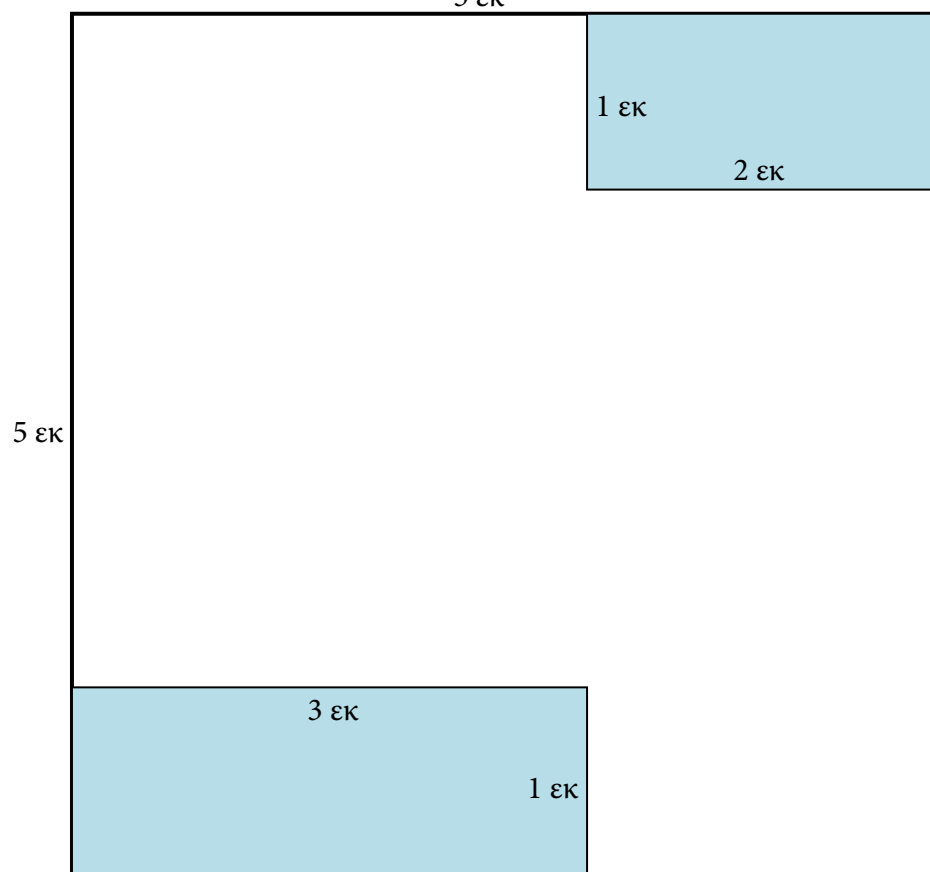


5 εκ

Περίμετρος: _____

Εμβαδό: _____

5 εκ



Περίμετρος: _____

Εμβαδό: _____