

Archimedean Pre-K

6 ΕΩΣ 10 ΜΑΙΟΥ 2024

ΟΝΟΜΑ: _____

Αυτή την εβδομάδα μαθαίνουμε....



*Language:

Listening/Talking, Reading and Writing.

Review-Letters and Vocabulary

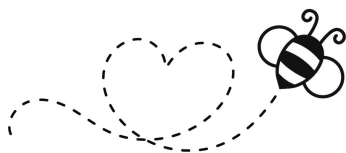
*Mathematics:

Review: Counting, comparing quantities, ordering numbers, composing and decomposing numbers, addition, subtraction.

Α α	Β β	Γ γ	Δ δ	Ε ε	Ζ ζ
Η η	Θ θ	Ι ι	Κ κ	Λ λ	Μ μ
Ν ν	Ξ ξ	Ο ο	Π π	Ρ ρ	Σ σ
Τ τ	Υ υ	Φ φ	Χ χ	Ψ ψ	Ω ω

Πηγές (Resources)

*The Homework Guides



Εργασία στο σπίτι



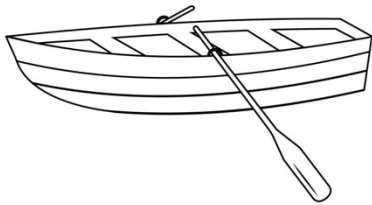
ΔΕΥΤΕΡΑ	ΤΡΙΤΗ	ΤΕΤΑΡΤΗ	ΠΕΜΠΤΗ	ΠΑΡΑΣΚΕΥΗ
Section 1 & 2 REVIEW Section 3: 1, 2	Section 3: 3, 4	Section 3: 5, 6	Section 3: 7	REVIEW

HOMEWORK 29. Section 3. Activities. Activities should be turned in on Friday.

ΟΝΟΜΑ:

(ΟΝΟΜΑ) NAME

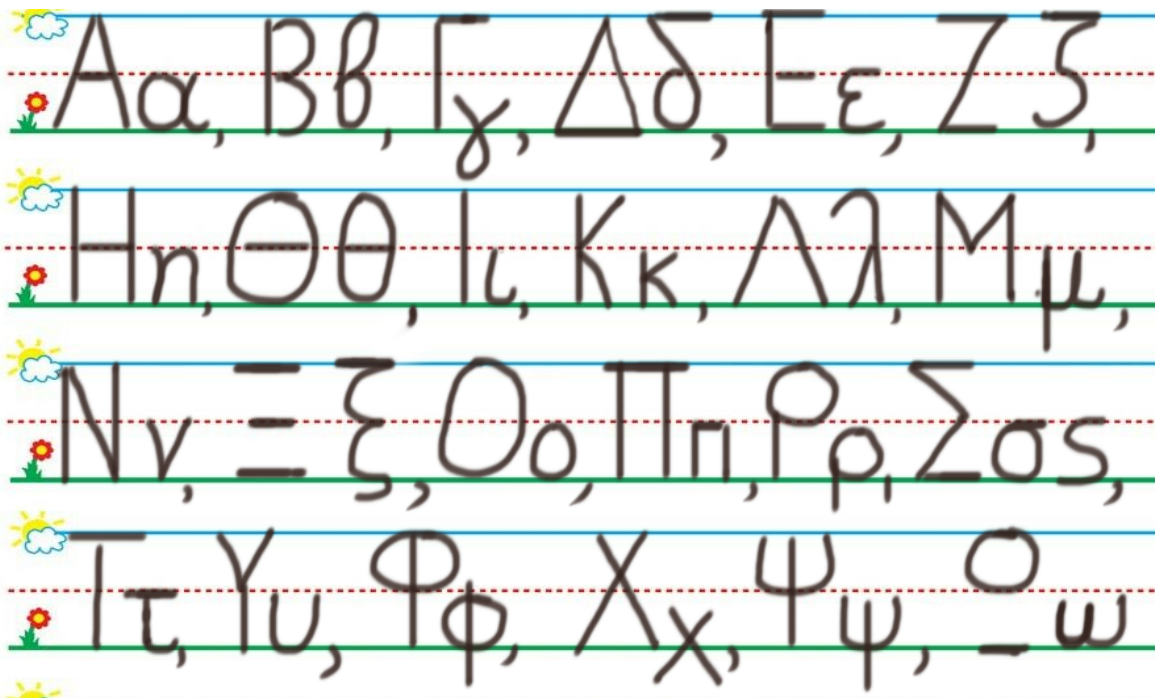
1. 1. ΤΙ ΕΙΝΑΙ ΑΥΤΟ; ΓΡΑΨΕ ΤΗ ΛΕΞΗ. WHAT IS THIS? WRITE THE WORD.



.....


1. 2. ΚΥΚΛΩΣΕ ΚΑΙ ΠΕΣ ΤΑ ΓΡΑΜΜΑΤΑ ΠΟΥ ΒΡΙΣΚΟΝΤΑΙ ΣΤΗ ΛΕΞΗ : 'ΒΑΡΚΑ'

CIRCLE AND SAY THE LETTERS OF THE WORD: 'ΒΑΡΚΑ'



2. **ΑΚΟΥ -ΔΙΑΒΑΣΕ - ΖΩΓΡΑΦΙΣΕ:** LISTEN TO- READ - DRAW:

Z ζ ζ η μέλισσα. Μμμ! Καλό μέλι.



3. ΒΑΛΕ ΤΟ ΣΩΣΤΟ ΣΥΜΒΟΛΟ ΚΑΙ ΔΙΑΒΑΣΕ. (>, <, =) (VALE TO SOSTO ΣΥΜΒΟΛΟ ΚΕ ΘΙΑΒΑΣΕ) .PUT THE CORRECT SYMBOL AND READ. (>,<,<=)

12 -----6

13-----23

17-----19

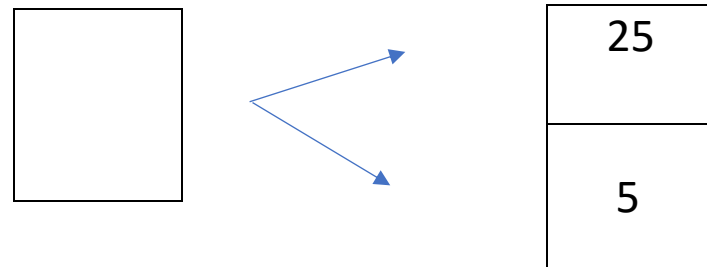
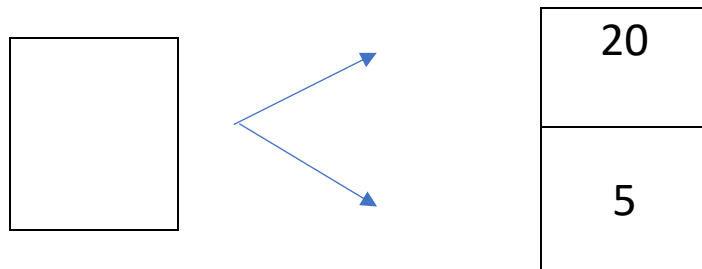
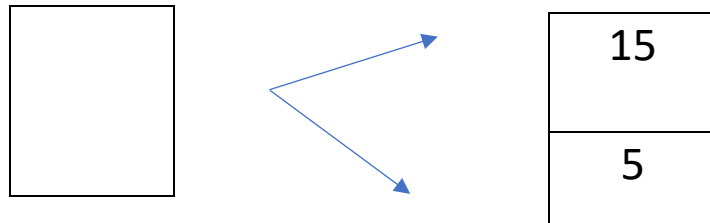
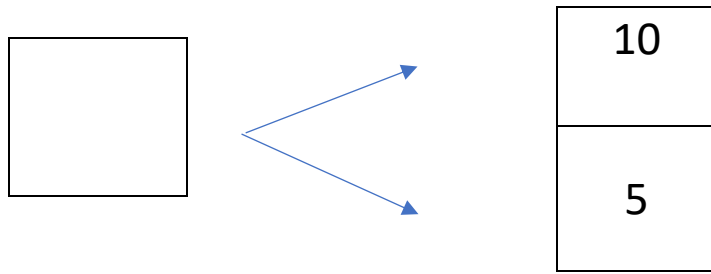
4. ΓΡΑΨΕ ΤΟΝ ΑΡΙΘΜΟ ΠΟΥ ΕΙΝΑΙ ΠΡΙΝ ΚΑΙ ΜΕΤΑ. WRITE THE NUMBER THAT COMES BEFORE AND AFTER.

....., 1,

....., 6,

....., 8,

5. ΓΡΑΨΕ ΤΟΝ ΑΡΙΘΜΟ ΠΟΥ ΛΕΙΠΕΙ ΜΕΣΑ ΣΤΟ ΚΟΥΤΙ (ΥΡΑΨΕ ΤΟΝ ΑΡΙΘΜΟ ΠΟΥ ΛΙΠΙ ΜΕΣΑ ΣΤΟ ΚΟΥΤΙ .) WRITE THE MISSING NUMBER IN THE BOX



6. ΚΑΝΕ ΤΙΣ ΠΡΟΣΘΕΣΕΙΣ. DO THE ADDITIONS.

$10 + 5 = \dots\dots$

$15 + 5 = \dots\dots$

$20 + 5 = \dots\dots$

$25 + 5 = \dots\dots$

7. ΚΑΝΕ ΤΙΣ ΑΦΑΙΡΕΣΕΙΣ. DO THE SUBTRACTIONS.

$5 - 5 = \dots\dots$

$10 - 5 = \dots\dots$