

Archimedean Pre-K

15 ΕΩΣ 19 ΑΠΡΙΛΙΟΥ 2024

ΟΝΟΜΑ: _____



Αυτή την εβδομάδα μαθαίνουμε....

*Language:

Listening/Talking, Reading and Writing.

*Mathematics:

Review: Counting, comparing quantities, ordering numbers, composing and decomposing numbers, addition, subtraction, data representation and analysis.

*Geometry:

Review: Shapes and patterns

Αα	Ββ	Γγ	Δδ	Εε	Ζζ
Ηη	Θθ	Ιι	Κκ	Λλ	Μμ
Νν	Ξξ	Οο	Ππ	Ρρ	Σσ
Ττ	Υυ	Φφ	Χχ	Ψψ	Ωω



Πηγές (Resources)

*The Homework Guides



Εργασία στο σπίτι




ΔΕΥΤΕΡΑ	ΤΡΙΤΗ	ΤΕΤΑΡΤΗ	ΠΕΜΠΤΗ	ΠΑΡΑΣΚΕΥΗ
Section 1 REVIEW THE LETTERS AND VOCABULARY (FLASH CARDS) Section 3: 1	Section 2 REVIEW THE STORIES AND VOCABULARY Section 3: 2	Section 3: 3, 4, 5, 6	Section 3: 7, 8, 9	REVIEW

HOMEWORK 26. Section 3. Activities. Activities should be turned in on Friday.

ΟΝΟΜΑ:

(ΟΝΟΜΑ) NAME

1. 1. ΤΙ ΕΙΝΑΙ ΑΥΤΟ; ΓΡΑΨΕ ΤΙΣ ΛΕΞΕΙΣ. WHAT IS THIS? WRITE THE WORDS







2.1. ΑΚΟΥ -ΔΙΑΒΑΣΕ - ΖΩΓΡΑΦΙΣΕ: LISTEN TO- READ - DRAW:

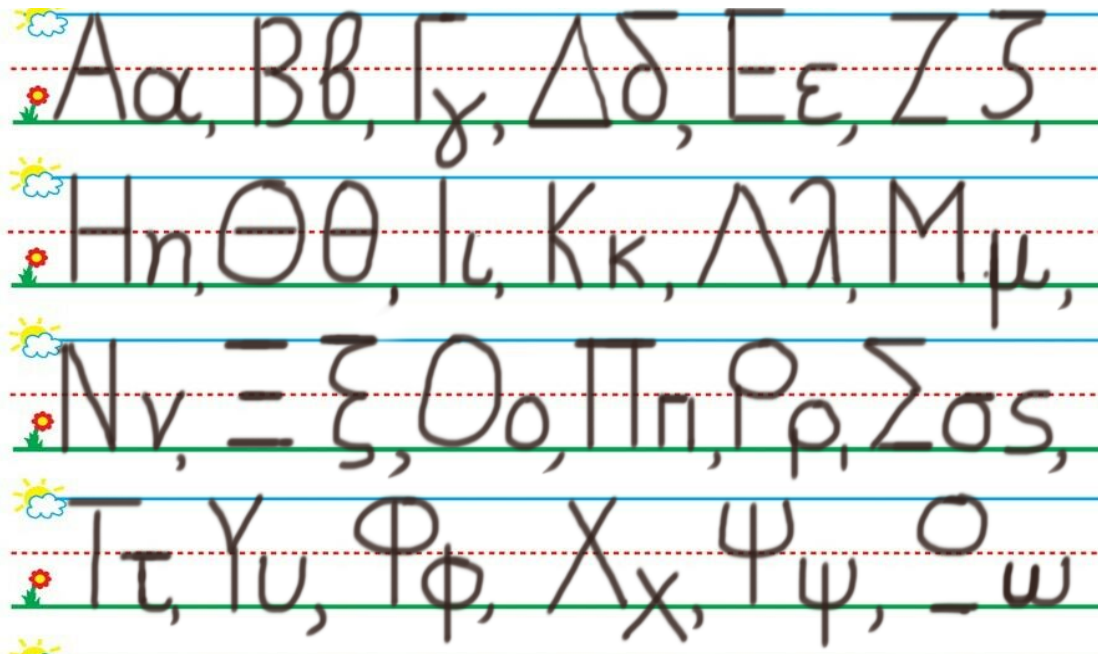
Να το νησί. Να, ο φάρος με το φως.

2.2 ΑΚΟΥ -ΔΙΑΒΑΣΕ - ΖΩΓΡΑΦΙΣΕ: LISTEN TO- READ - DRAW:

Β β β ο αέρας.

2. 3. ΚΥΚΛΩΣΕ ΚΑΙ ΠΕΣ ΤΑ ΓΡΑΜΜΑΤΑ ΠΟΥ ΒΡΙΣΚΟΝΤΑΙ ΣΤΗ ΛΕΞΗ “ ΦΩΣ”.

CIRCLE AND SAY THE LETTERS OF THE WORD “ΦΩΣ”



3. ΒΑΛΕ ΤΟ ΣΩΣΤΟ ΣΥΜΒΟΛΟ ΚΑΙ ΔΙΑΒΑΣΕ. (>,<,=) (VALE TO SOSTO SYMVOLO KE THIAVASE). PUT THE CORRECT SYMBOL AND READ. (>,<,=)

7 -----9

10-----10

20-----30

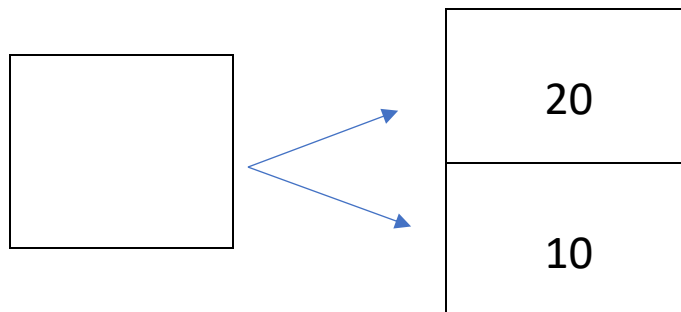
4. ΓΡΑΨΕ ΤΟΝ ΑΡΙΘΜΟ ΠΟΥ ΕΙΝΑΙ ΠΡΙΝ ΚΑΙ ΜΕΤΑ. WRITE THE NUMBER THAT COMES BEFORE AND AFTER.

....., 5,

....., 3,

....., 2,

5. ΓΡΑΨΕ ΤΟΝ ΑΡΙΘΜΟ ΠΟΥ ΛΕΙΠΕΙ ΜΕΣΑ ΣΤΟ ΚΟΥΤΙ. (ΥΡΑΨΕ ΤΟΝ ΑΡΙΘΜΟ ΠΟΥ ΛΙΠΙ ΜΕΣΑ ΣΤΟ ΚΟΥΤΙ.) WRITE THE MISSING NUMBER IN THE BOX.



6. ΚΑΝΕ ΤΙΣ ΠΡΟΣΘΕΣΕΙΣ. DO THE ADDITIONS.

10 + 10 =

5 + 5 =

3 + 3 =

3 + 2 =

7. ΚΑΝΕ ΤΙΣ ΑΦΑΙΡΕΣΕΙΣ. DO THE SUBTRACTIONS.

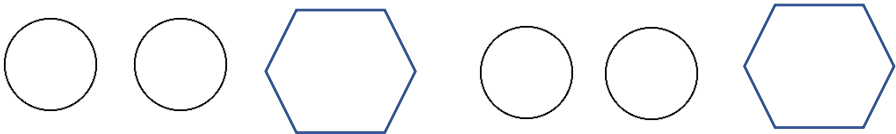
1 - 1 =

4 - 2 =

2 - 1 =

5 - 2 =

8. 1 ΠΕΣ ΤΑ ΣΧΗΜΑΤΑ. ΣΧΕΔΙΑΣΕ ΤΟ ΣΧΗΜΑ ΠΟΥ ΕΙΝΑΙ ΜΕΤΑ. (ΠΕΣ ΤΑ ΣΧΗΜΑΤΑ. ΣΗΘΗΙΑΣΕ ΤΟ ΣΗΜΑ ΠΟΥ ΙΝΕ ΜΕΤΑ. SAY THE SHAPES.) DRAW THE SHAPE THAT COMES AFTER.



8. 2 ΠΕΣ ΤΑ ΣΧΗΜΑΤΑ. ΣΧΕΔΙΑΣΕ ΤΟ ΣΧΗΜΑ ΠΟΥ ΕΙΝΑΙ ΜΕΤΑ. (ΠΕΣ ΤΑ ΣΧΗΜΑΤΑ. ΣΗΘΗΙΑΣΕ ΤΟ ΣΗΜΑ ΠΟΥ ΙΝΕ ΜΕΤΑ. SAY THE SHAPES.) DRAW THE SHAPE THAT COMES AFTER.



9. ΠΟΣΑ ΕΙΝΑΙ ΤΑ ΜΟΛΥΒΙΑ; ΠΟΣΑ ΕΙΝΑΙ ΤΑ ΨΑΛΙΔΙΑ; ΣΤΟ ΓΡΑΦΗΜΑ ΧΡΩΜΑΤΙΣΕ ΤΟΣΑ ΚΟΥΤΙΑ ΟΣΑ ΕΙΝΑΙ ΜΟΛΥΒΙΑ ΚΑΙ ΤΑ ΨΑΛΙΔΙΑ

HOW MANY ARE THE PENCILS? HOW MANY ARE THE SCISSORS? COLOR AS MANY BOXES OF THE GRAPH AS THE NUMBER OF THEM.

ΜΟΛΥΒΙΑ: 2

ΨΑΛΙΔΙΑ: 5

ΓΡΑΦΗΜΑ	
ΜΟΛΥΒΙΑ	ΨΑΛΙΔΙΑ