

HOMEWORK 25


Due Friday 4/5, upload no later than 8am.

Τρίγωνα



Γωνίες

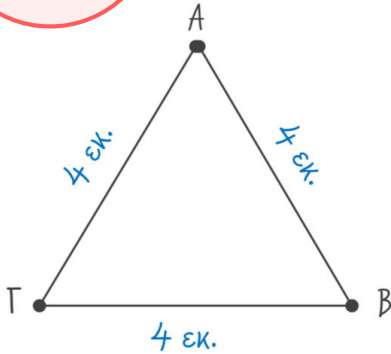
Test on Thursday 4/3.



ΕΙΔΗ ΤΡΙΓΩΝΩΝ

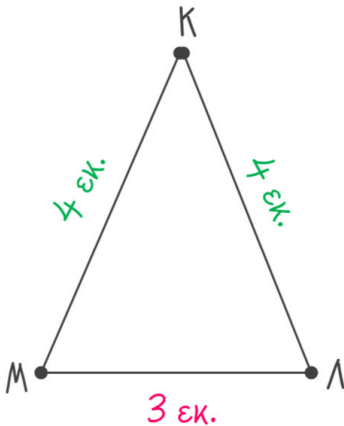
ΩΣ ΠΡΟΣ ΤΙΣ ΠΛΕΥΡΕΣ

Study the vocabulary.



ΙΣΟΠΛΕΥΡΟ ΤΡΙΤΩΝΟ

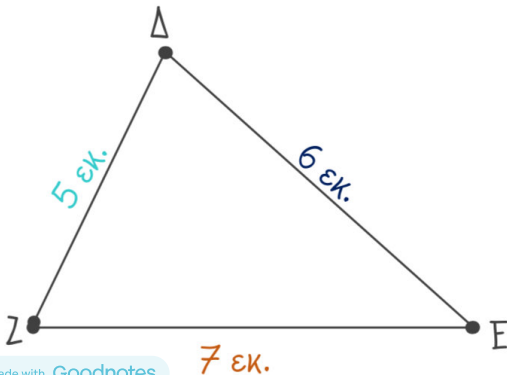
Όλες οι πλευρές και οι γωνίες του είναι ίσες.



ΙΣΟΣΚΕΛΕΣ ΤΡΙΤΩΝΟ

Έχει δύο πλευρές και δύο γωνίες ίσες.

Οι ίσες γωνίες είναι αυτές που βρίσκονται απέναντι από τις ίσες πλευρές.

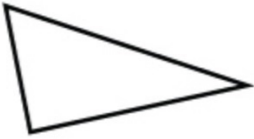


ΣΚΑΛΗΝΟ ΤΡΙΤΩΝΟ

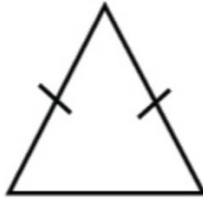
Όλες οι πλευρές και οι γωνίες του είναι άνισες.

Γράψε το όνομα του τριγώνου.

1



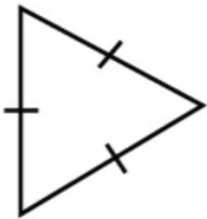
2



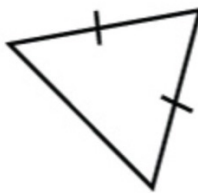
3



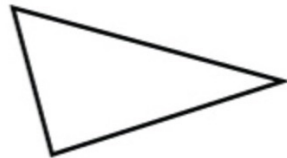
4



5



6



Αντιστοίχησε (match):

Σκαληνό τρίγωνο ■

Ισοσκελές τρίγωνο ■

Ισόπλευρο τρίγωνο ■

■ το τρίγωνο που έχει όλες τις πλευρές ίσες


■ το τρίγωνο που έχει δύο γωνίες ίσες

■ το τρίγωνο που έχει όλες τις πλευρές άνισες

■ το τρίγωνο που έχει όλες τις γωνίες ίσες

■ το τρίγωνο που έχει όλες τις γωνίες άνισες

■ το τρίγωνο που έχει δύο πλευρές ίσες



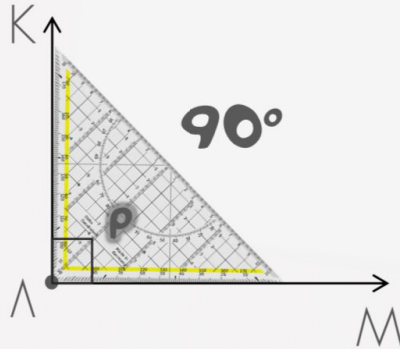
Study the
vocabulary.

ΤΑ ΕΙΔΗ ΤΩΝ ΓΩΝΙΩΝ

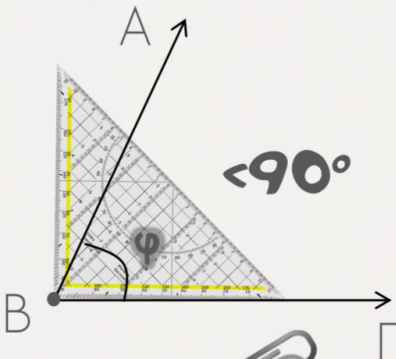
Θυμάμαι ότι:

Γωνία είναι το
άνοιγμα μεταξύ δύο
πλευρών που
ενώνονται σε μία
κορυφή και μετρείται
σε μοίρες.

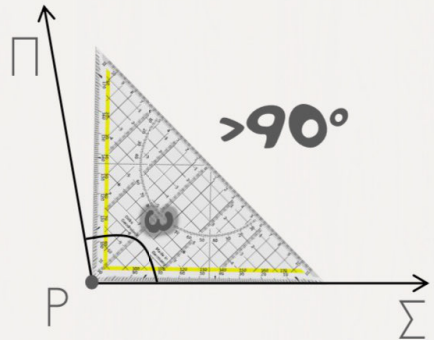
ορθή γωνία



οξεία γωνία



αμβλεία γωνία

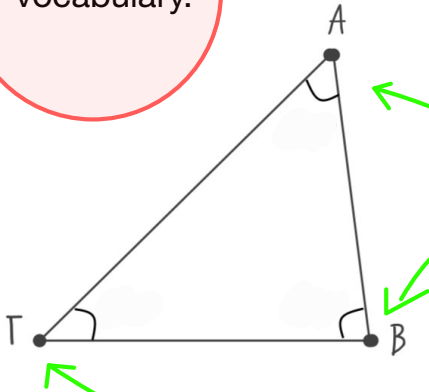




ΕΙΔΗ ΤΡΙΓΩΝΩΝ

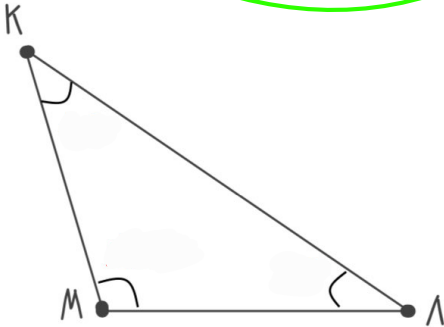
ΩΣ ΠΡΟΣ ΤΙΣ ΓΩΝΙΕΣ

Study the vocabulary.



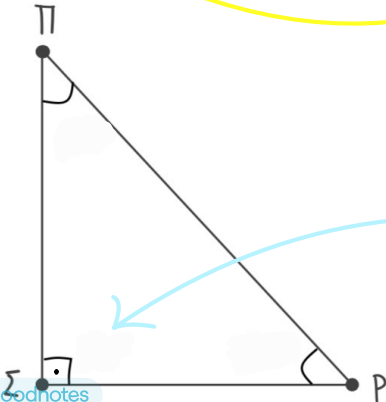
ΟΞΥΓΩΝΙΟ ΤΡΙΤΩΝΟ

Όλες οι γωνίες είναι οξείες, δηλαδή $< 90^\circ$



ΑΜΒΛΥΓΩΝΙΟ ΤΡΙΤΩΝΟ

Έχει μία αμβλεία γωνία, δηλαδή μία γωνία $> 90^\circ$



ΟΡΘΟΓΩΝΙΟ ΤΡΙΤΩΝΟ

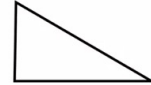
Έχει μία ορθή γωνία, δηλαδή μία γωνία ίση με 90°



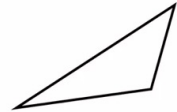
Να συμπληρώσεις τα κενά

οξεία ✓
αμβλεία ✓
ορθή ✓

Το ορθογώνιο τρίγωνο έχει μια _ _ _ _ γωνία



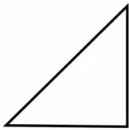
Το αμβλυγώνιο τρίγωνο έχει μία _ _ _ _ _ γωνία

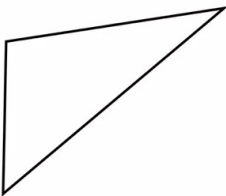


Το οξυγώνιο τρίγωνο έχει όλες τις γωνίες του _ _ _ _ _



Να γράψεις πως ονομάζεται το κάθε τρίγωνο








Study the
vocabulary.

Είδη Γραμμών

καμπύλη γραμμή



ευθεία γραμμή

Οριζόντια



Κάθετη



αρχή



ημιευθεία



αρχή

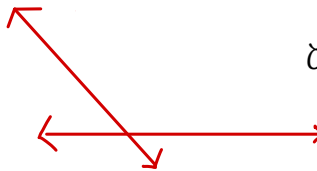


ευθύγραμμο ζήτημα

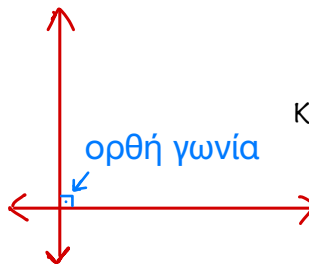
τέλος



ξεμνόμενες γραμμές



κάθετες γραμμές



ορθή γωνία

