


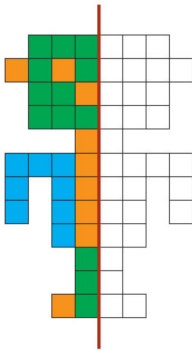

# Homework 23

Due Friday 3/22, upload no later than 8am.



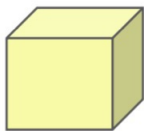
σχήματα και στερεά

μετρώ το μήκος



άξονας συμμετρίας

Γράψε κάτω από κάθε αντικείμενο αν είναι σχήμα ή στερεό και το είδος του.



\_\_\_\_\_

\_\_\_\_\_




\_\_\_\_\_

\_\_\_\_\_



\_\_\_\_\_

\_\_\_\_\_



\_\_\_\_\_

\_\_\_\_\_



\_\_\_\_\_

\_\_\_\_\_



\_\_\_\_\_

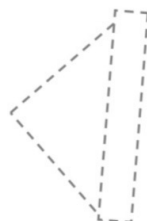
\_\_\_\_\_

Χρωμάτισε τα σχήματα που πρέπει.

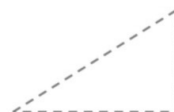
τετράγωνο



ορθογώνιο  
παράλληλόγραμμο



τρίγωνο



## ΜΕΤΡΩ ΜΕ ΕΚΑΤΟΣΤΟΜΕΤΡΑ

1. Βρίσκω πόσα εκατοστόμετρα είναι τα αντικείμενα.



\_\_\_ εκατοστά



\_\_\_ εκατοστά



\_\_\_ εκατοστά



\_\_\_ εκατοστά


ΜΕΤΡΩ ΤΟ ΜΗΚΟΣ ΣΕ ΪΝΤΣΕΣ (inches).




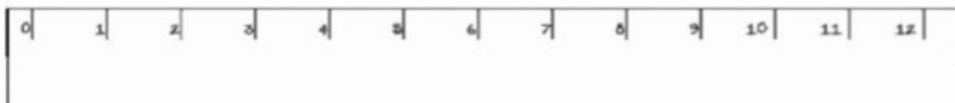
inches



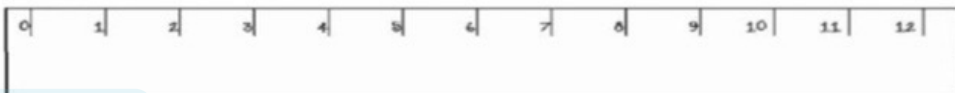
inches



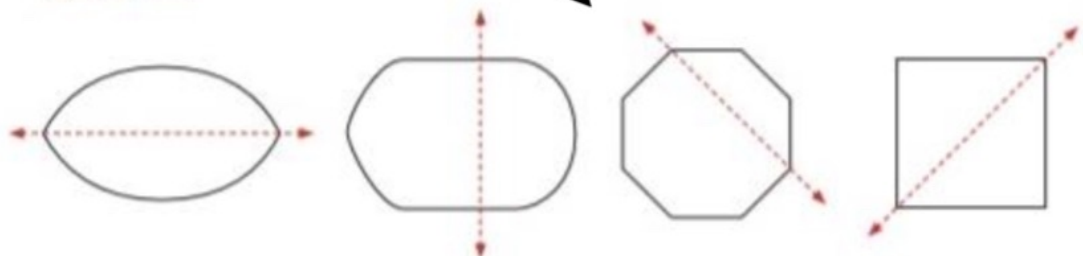
inches



inches



1. Να σημειώσεις σε ποια από τα σχήματα η διακεκομμένη γραμμή είναι άξονας συμμετρίας.

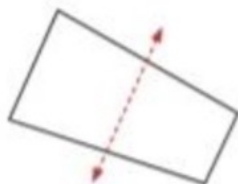
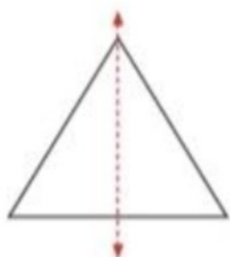


\_\_\_\_\_

\_\_\_\_\_

\_\_\_\_\_

\_\_\_\_\_



\_\_\_\_\_

\_\_\_\_\_

\_\_\_\_\_

\_\_\_\_\_

2. Να σχεδιάσεις το συμμετρικό του σχήματος. Ο άξονας συμμετρίας είναι η διακεκομμένη γραμμή.

