


Homework 22 due Friday 3/15




3η Τάξη

Ελληνικά Μαθηματικά

Όνομα: _____

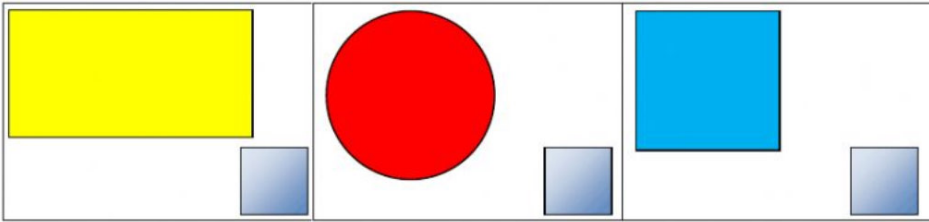
Ημερομηνία: _____

ΓΕΩΜΕΤΡΙΑ

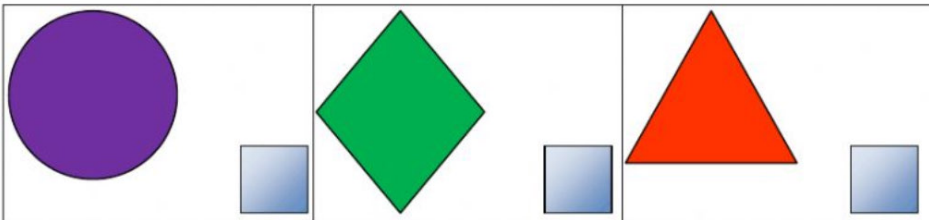


Make sure you carry a ruler with you in your pencil pouch everyday.


Ποιο σχήμα είναι το τετράγωνο;



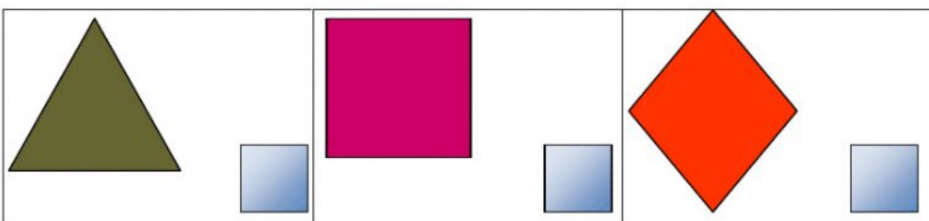
Ποιο σχήμα είναι ο κύκλος;




Ποιο σχήμα είναι το ορθογώνιο;



Ποιο σχήμα είναι το τρίγωνο;



Γράψε τη λέξη στο σωστό κουτάκι.



οβάλ



ορθογώνιο

τρίγωνο

κύκλος





τετράγωνο

ρόμβος



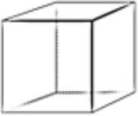







ΓΕΩΜΕΤΡΙΚΑ ΣΧΗΜΑΤΑ

Γράφω κάτω από τα γεωμετρικά σχήματα την ονομασία τους:





Ένωσε κάθε στερεό γεωμετρικό σχήμα με το όνομά του

Στερεό	Το όνομά του
	Σφαίρα
	Τετραγωνική Πυραμίδα
	Κώνος
	Κύλινδρος
	Κύβος
	Τριγωνική Πυραμίδα
	Ορθογώνιο Παραλληλεπίπεδο
	Πρίσμα