

# Archimedean Pre-K

15 ΕΩΣ 19 Ιανουαρίου 2024

ΟΝΟΜΑ: \_\_\_\_\_



Αυτή την εβδομάδα μαθαίνουμε....

HOMEWORK 14, Sect 1

ΔΕΚΑΤΕΣΣΕΡΑ	14
ΤΕΤΡΑΓΩΝΟ	
ΡΟ	Ρ ρ
ρόδι	

\*Language:

-The letter: Ρ ρ

Listening, Speaking, Reading  
Writing.

\*Mathematics:

-Number: 14

Counting and matching  
strategies, constructing sets,  
comparing quantities, ordering  
numbers, composing numbers.

\* Geometry: The square

Πηγές ( Resources)

\*The Homework 14 Guide



**Εργασία στο σπίτι**



ΔΕΥΤΕΡΑ	ΤΡΙΤΗ	ΤΕΤΑΡΤΗ	ΠΕΜΠΤΗ	ΠΑΡΑΣΚΕΥΗ
NO SCHOOL	Section 1 & 2  Section 3: 1, 2	Section 3: 4, 5	REVIEW: Flash cards: the colors, the letters and Geometry. Count up to 14	NO SCHOOL

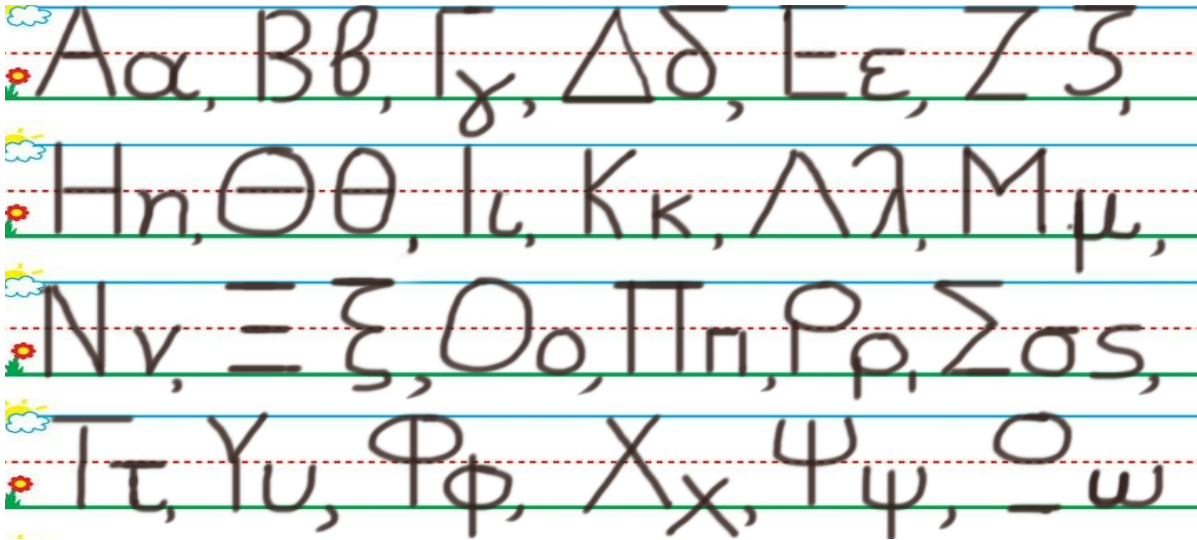
HOMEWORK 14. Section 3. Activities. Activities should be turned in on Friday.

**ΟΝΟΜΑ:** .....

(ΟΝΟΜΑ) NAME

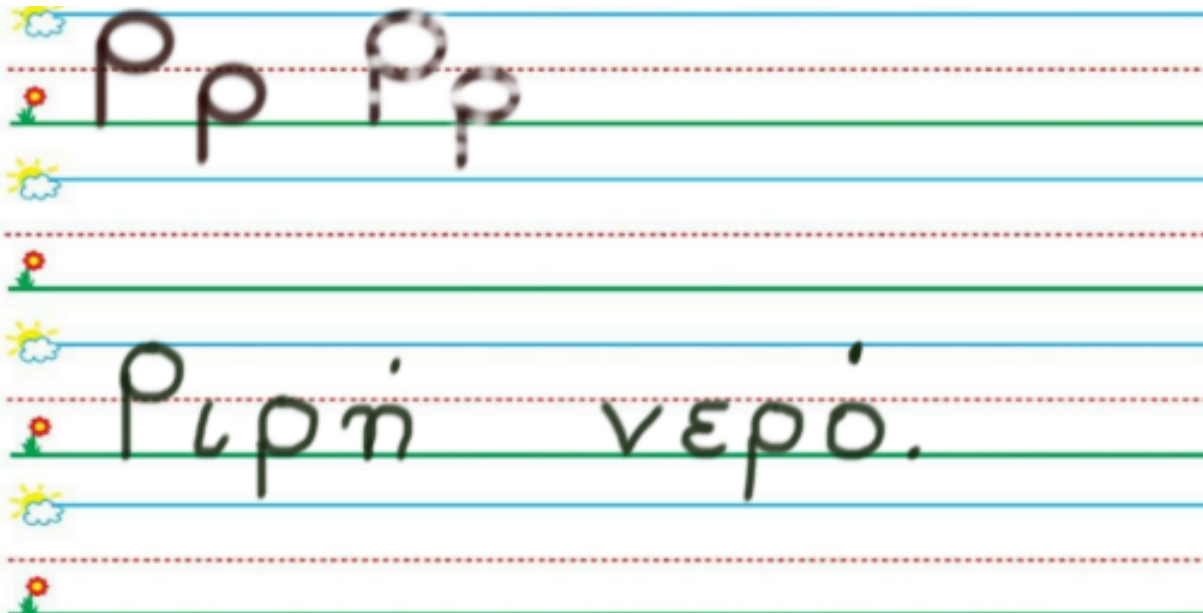
**1. ΚΥΚΛΩΣΕ ΤΟ ΓΡΑΜΜΑ : Ρ ρ**

(ΚΥΚΛΩΣΕ ΤΟ ΓΡΑΜΜΑ: Ρ ρ.) CIRCLE THE LETTER: Ρ ρ



**2. ΓΡΑΨΕ:**

(ΓΡΑΨΕ ) WRITE



**3.1 ΧΡΩΜΑΤΙΣΕ ΚΟΚΚΙΝΑ ΤΑ ΔΕΚΑ ΚΟΥΤΙΑ ΤΗΣ ΔΕΚΑΔΑΣ ΜΕ ΤΑ ΜΙΚΡΑ ΚΟΥΤΙΑ. ΧΡΩΜΑΤΙΣΕ ΚΙΤΡΙΝΑ ΤΑ ΤΕΣΣΕΡΑ ΚΟΥΤΙΑ ΤΗΣ ΔΕΚΑΔΑΣ ΜΕ ΤΑ ΜΕΓΑΛΥΤΕΡΑ ΚΟΥΤΙΑ.**

(HROMATISE KOKKINA TA THEKA KOUTIA TIS THEKATHAS ME TA MIKRA KOUTIA. HROMATISE KITRINA TA TESSERA KOUTIA TIS THEKATHAS ME TA MEYALITERA KOUTIA.) COLOR RED THE TEN SMALL BOXES OF THE GROUP OF THE TEN SMALL BOXES. COLOR YELLOW FOUR BOXES OF THE GROUP OF THE TEN BIGGER BOXES.



**3.2 ΜΕΤΡΗΣΕ. ΠΟΣΑ ΕΙΝΑΙ ΤΑ ΚΟΥΤΙΑ ΜΕ ΧΡΩΜΑ ΟΛΑ ΜΑΖΙ; ΠΕΣ ΤΟΝ ΑΡΙΘΜΟ. ΓΡΑΨΕ ΤΟΝ ΑΡΙΘΜΟ ΠΑΝΩ ΣΤΗ ΓΡΑΜΜΗ.** (METRISE. POSA INE TA KOUTIA ME HROMA OLA MAZI? PES TON ARITHMO. YRAPSE TON ARITHMO PANO STI YRAMMI.) COUNT. HOW MANY ARE THE BOXES WITH COLOR ALL TOGETHER? WRITE THE NUMBER ON THE LINE.

.....

**3.3 ΜΕΤΡΗΣΕ ΚΑΙ ΓΡΑΨΕ ΤΟΥΣ ΑΡΙΘΜΟΥΣ.** COUNT AND WRITE THE NUMBERS.

.....

**ΚΟΚΚΙΝΑ ΚΟΥΤΙΑ**

KOKKINA KOUTIA  
RED BOXES

**ΚΑΙ**

KE  
AND

.....

**ΚΙΤΡΙΝΑ ΚΟΥΤΙΑ**

KITRINA KOUTIA  
YELLOW BOXES

.....

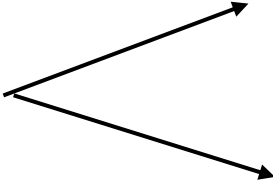
**ΤΑ ΚΟΥΤΙΑ ΜΕ ΧΡΩΜΑ ΟΛΑ ΜΑΖΙ**

TA KOUTIA ME HROMA OLA MAZI  
THE BOXES WITH COLOR ALL TOGETHER

**3.4 ΠΟΣΑ ΕΙΝΑΙ ΟΛΑ ΜΑΖΙ; ΓΡΑΨΕ ΤΟΝ ΑΡΙΘΜΟ ΜΕΣΑ ΣΤΟ ΚΟΥΤΙ.**

(POSA INE OLA MAZI? YRAPSE TON ARITHMO MESA STO KOUTI) HOW MANY ARE ALL TOGETHER? WRITE THE NUMBER IN THE BOX.

--



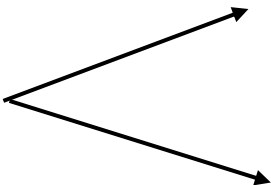
10
----

4
---

**3.5 ΠΟΣΑ ΕΙΝΑΙ ΜΕΣΑ ΣΕ ΚΑΘΕ ΔΕΚΑΔΑ; ΓΡΑΨΕ ΤΟΥΣ ΑΡΙΘΜΟΥΣ ΜΕΣΑ ΣΤΑ ΚΟΥΤΙΑ.**

(POSA INE MESA SE KATHE THEKATHA? YRAPSE TOUS ARITHMOUS MESA STA KOUTIA) HOW MANY ARE IN EACH TEN FRAME? WRITE THE NUMBERS IN THE BOXES.

14
----



--

--

**(ΣΚΕΨΟΥ ΤΗ ΣΕΙΡΑ ΠΟΥ ΜΕΤΡΑΣ ΚΑΘΩΣ ΣΥΓΚΡΙΝΕΙΣ ΤΟΥΣ ΑΡΙΘΜΟΥΣ)**

**SAY THE NUMBERS** CIRCLE **THE GREATER** NUMBER. (THINK ABOUT THE COUNTING ORDER AS YOU COMPARE THE NUMBERS.)

1.

8

4

II.

**7**

10

### III.

9

3

- HOW MANY ANGLES DOES A SQUARE HAVE? COUNT AND WRITE THE NUMBER.

- HOW MANY LINES DOES A SQUARE HAVE? COUNT AND WRITE THE NUMBER.

.....

.....

- (EHI ENA TETRAYONO TESSERIS YRAMMES **ISES?** KIKLOSE TI SOSTI LEXI.) DOES A SQUARE HAVE 4 **EQUAL** LINES?

NAI

OXI

Ρ ρ



**Ρ ρ ρ, το νερό.  
- Νερό, Ριρή.  
Καλό νερό.**

