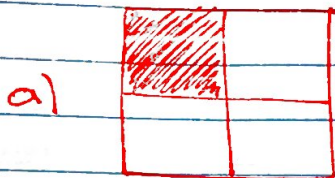


Ασκήσεις στην τάξη


Άσκηση ⑤ Να βρείτε τα ελάσματα και να γράψετε ποιος είναι ο αριθμητής και ποιος ο παρονομαστής:



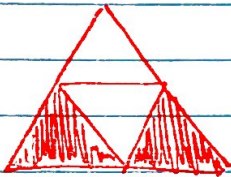
$$= \frac{1}{4}$$

Ο αριθμητής είναι το 1 και
Ο παρονομαστής είναι το 4.

β)




γ)



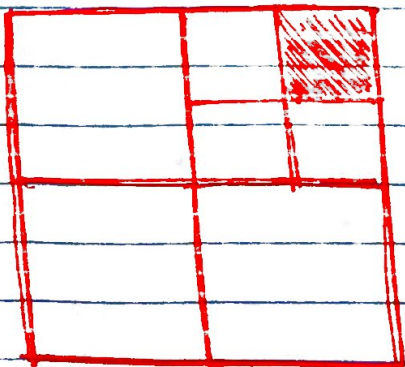
δ)



ε)



στ)



Άσκηση ② Να εξετάσετε αν τα κλάσματα είναι Ισοδύναμα.

α) $\frac{4}{5}$ και $\frac{8}{10}$ ~~IV~~ $\frac{4}{5} \stackrel{?}{=} \frac{8}{10} \Rightarrow 4 \cdot 10 \stackrel{?}{=} 5 \cdot 8 \Rightarrow 40 \stackrel{?}{=} 40 \checkmark$
Σωστό
Άρα τα $\frac{4}{5}$ και $\frac{8}{10}$ είναι Ισοδύναμα

β) $\frac{1}{7}$ και $\frac{3}{14}$

γ) $\frac{9}{12}$ και $\frac{1}{4}$

δ) $\frac{12}{15}$ και $\frac{8}{12}$

ε) $\frac{7}{9}$ και $\frac{14}{18}$

στ) $\frac{2}{15}$ και $\frac{6}{45}$

ζ) $\frac{4}{14}$ και $\frac{3}{7}$

η) $\frac{2}{7}$ και $\frac{7}{2}$