

Archimedean Pre-K

22 ΕΩΣ 26 ΑΠΡΙΛΙΟΥ 2024

ΟΝΟΜΑ: _____



Αυτή την εβδομάδα μαθαίνουμε....

***Language:**

Listening/Talking, Reading and Writing.

Review: Letters and Vocabulary

***Mathematics:**

Review: Counting, comparing quantities, ordering numbers, composing and decomposing numbers, addition, subtraction.


Αα	Ββ	Γγ	Δδ	Εε	Ζζ
Ηη	Θθ	Ιι	Κκ	Λλ	Μμ
Νν	Ξξ	Οο	Ππ	Ρρ	Σσ
Ττ	Υυ	Φφ	Χχ	Ψψ	Ωω

Πηγές (Resources)

***The Homework Guides**



Εργασία στο σπίτι

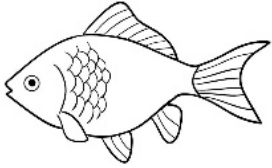


ΔΕΥΤΕΡΑ	ΤΡΙΤΗ	ΤΕΤΑΡΤΗ	ΠΕΜΠΤΗ	ΠΑΡΑΣΚΕΥΗ
Section 1 & 2 REVIEW Section 3: 1, 2	Section 3: 3, 4	Section 3: 5, 6	Section 3: 7	REVIEW

ΟΝΟΜΑ:

(ΟΝΟΜΑ) NAME


1. 1. ΤΙ ΕΙΝΑΙ ΑΥΤΟ; ΓΡΑΨΕ ΤΙΣ ΛΕΞΕΙΣ. WHAT IS THIS? WRITE THE WORDS.



.....



.....



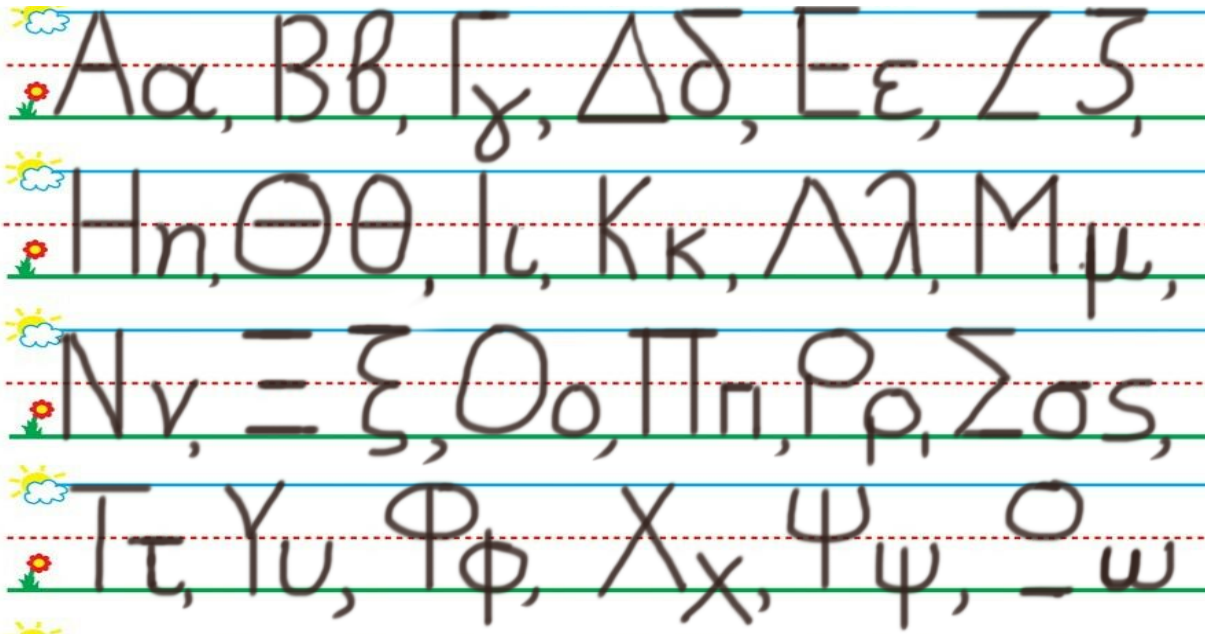
.....



.....

1. 2. ΚΥΚΛΩΣΕ ΚΑΙ ΠΕΣ ΤΑ ΓΡΑΜΜΑΤΑ ΠΟΥ ΒΡΙΣΚΟΝΤΑΙ ΣΤΙΣ ΛΕΞΕΙΣ : "ΜΗΛΟ" ΚΑΙ "ΨΑΡΙ"

CIRCLE AND SAY THE LETTERS OF THE WORDS: "ΜΗΛΟ" ΚΑΙ "ΨΑΡΙ"



2. ΑΚΟΥY -ΔΙΑΒΑΣΕ - ΖΩΓΡΑΦΙΣΕ: LISTEN TO- READ - DRAW:

Να το δάσος. Να ο λαγός. Να η χελώνα.

3. ΒΑΛΕ ΤΟ ΣΩΣΤΟ ΣΥΜΒΟΛΟ ΚΑΙ ΔΙΑΒΑΣΕ. ($>$, $<$, $=$) (VALE TO SOSTO SYMBOLO KE THIAVASE) .PUT THE CORRECT SYMBOL AND READ. ($>$, $<$, $=$)

2 -----5

17-----7

10-----10

4. ΓΡΑΨΕ ΤΟΝ ΑΡΙΘΜΟ ΠΟΥ ΕΙΝΑΙ ΠΡΙΝ ΚΑΙ ΜΕΤΑ. WRITE THE NUMBER THAT COMES BEFORE AND AFTER.

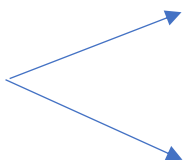
....., 2,

....., 4,

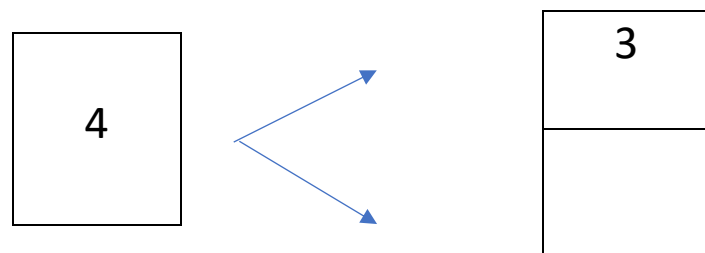
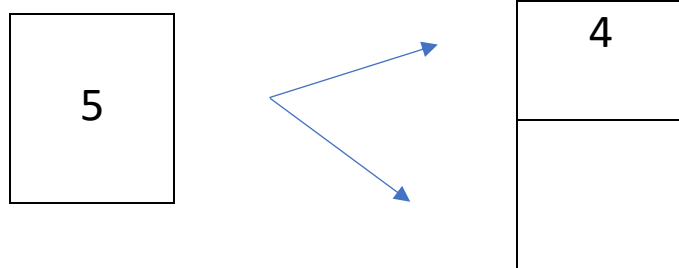
....., 5,

5. ΓΡΑΨΕ ΤΟΝ ΑΡΙΘΜΟ ΠΟΥ ΛΕΙΠΕΙ ΜΕΣΑ ΣΤΟ ΚΟΥΤΙ (YRAPSE TON ARITHMO POU LIPI MESA STO KOUTI .) WRITE THE MISSING NUMBER IN THE BOX

7



6



6. ΚΑΝΕ ΤΙΣ ΠΡΟΣΘΕΣΕΙΣ. DO THE ADDITIONS.

$$10 + 4 = \dots\dots \quad 10 + 2 = \dots\dots \quad 10 + 1 = \dots\dots \quad 10 + 10 = \dots\dots$$

$$20 + 10 = \dots\dots \quad 5 + 1 = \dots\dots \quad 7 + 1 = \dots\dots \quad 9 + 1 = \dots\dots$$

7. ΚΑΝΕ ΤΙΣ ΑΦΑΙΡΕΣΕΙΣ. DO THE SUBTRACTIONS.

$$2 - 1 = \dots\dots \quad 3 - 1 = \dots\dots \quad 4 - 1 = \dots\dots \quad 5 - 1 = \dots\dots$$

$$5 - 5 = \dots\dots \quad 4 - 2 = \dots\dots \quad 4 - 1 = \dots\dots \quad 5 - 3 = \dots\dots$$