

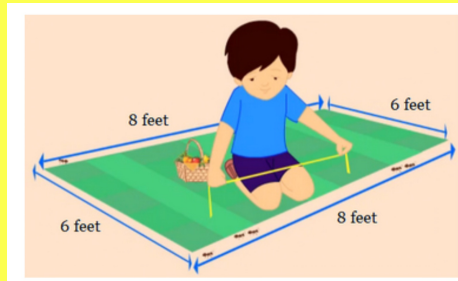
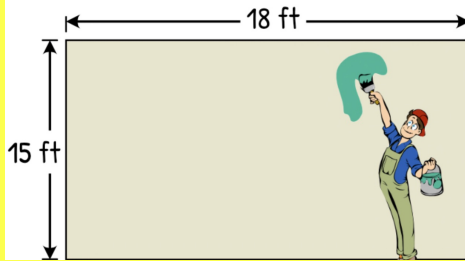
Homework 27

Due Thursday 4/18, upload no later than 8am.

Ελληνικά Μαθηματικά

Όνομα: _____

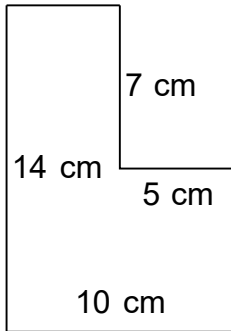
Area and Perimeter



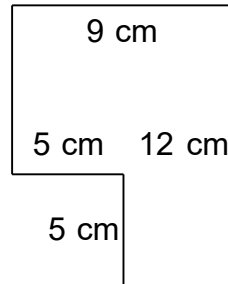
Do 1 page per day!

Βρες την περίμετρο.

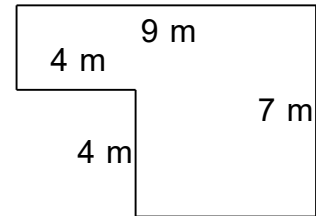
1.



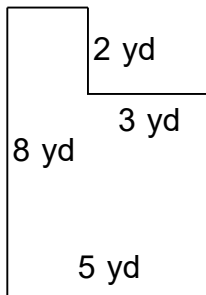
2.



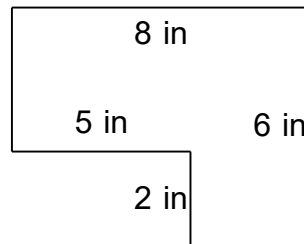
3.



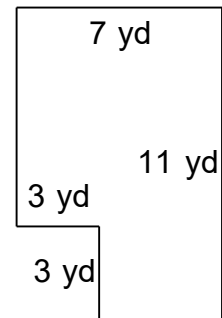
4.



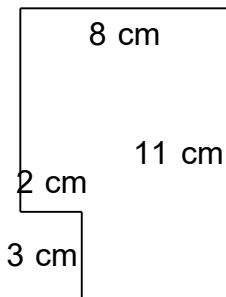
5.



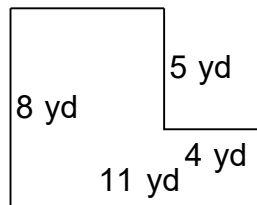
6.



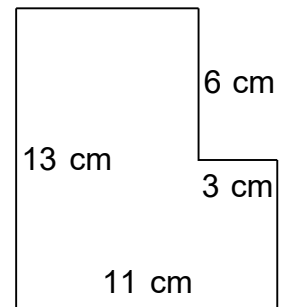
7.



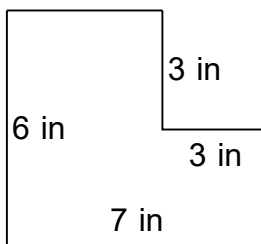
8.



9.



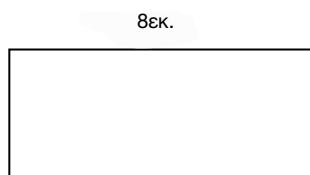
10.





Ασκήσεις:


1. Να βρεις το εμβαδόν στα πιο κάτω σχήματα.



E =

3εκ.

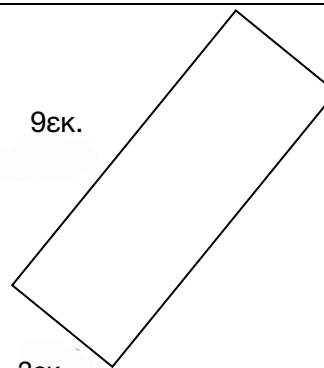
4εκ.



8εκ.

E =

9εκ.



3εκ.

E =

2. Συμπλήρωσε τον πιο κάτω πίνακα

show your work

Σχήμα	Μήκος	Πλάτος	Εμβαδόν
Ορθογώνιο	7εκ.	6εκ.	
Τετράγωνο	5εκ.		
Τετράγωνο			49τ.εκ.
Ορθογώνιο	6εκ.		18τ.εκ.
Ορθογώνιο		2εκ.	6τ.εκ.

3. α) Σχεδίασε στο πιο κάτω τετραγωνισμένο χαρτί τετράγωνο με εμβαδόν 36cm^2 και υπολόγισε την περίμετρό του:

$$E = 36\text{τ.εκ.}$$

$$\Pi =$$

- β) Σχεδίασε τετράγωνο με περίμετρο 36 cm και υπολόγισε το εμβαδόν του.

$$\Pi = 36\text{εκ.}$$

$$E =$$

