


Archimedean Pre-K
8 ΕΩΣ 12 ΑΠΡΙΛΙΟΥ 2024

ΟΝΟΜΑ: _____

Αυτή την εβδομάδα μαθαίνουμε....



*Language:


- Understanding and Speaking- Emergent Reading and Writing

*Mathematics:

- Measurements- Problem solving-Composing and decomposing numbers- Addition- Subtraction.

Πηγές (Resources)

*The homework Guides and the audio files




Εργασία στο σπίτι



ΔΕΥΤΕΡΑ	ΤΡΙΤΗ	ΤΕΤΑΡΤΗ	ΠΕΜΠΤΗ	ΠΑΡΑΣΚΕΥΗ
Section 3: 1, 2	Section 3: 3, 4, 5	No school	Section 3: 6, 7	REVIEW THE COLORS AND THE VOCABULARY (THE STORIES AND THE FLASH CARDS)

HOMEWORK 25. Section 3. Activities. Activities should be turned in on Friday.

1. ΤΙ ΕΙΝΑΙ ΑΥΤΟ; ΓΡΑΨΕ ΤΙΣ ΛΕΞΕΙΣ. WHAT IS THIS? WRITE THE WORDS.



.....
2.1 ΑΚΟΥ -ΔΙΑΒΑΣΕ - ΖΩΓΡΑΦΙΣΕ: LISTEN TO- READ - DRAW:

Να, η Λόλα με τη γάτα.


2.2 ΑΚΟΥ -ΔΙΑΒΑΣΕ - ΖΩΓΡΑΦΙΣΕ: LISTEN TO - READ - DRAW:

Να, η θάλασσα. Να, ένα ψάρι.

3.1 ΠΟΣΟ ΕΙΝΑΙ ΤΟ ΜΗΚΟΣ ΤΟΥ ΜΟΛΥΒΙΟΥ; ΚΥΚΛΩΣΕ ΤΟΝ ΑΡΙΘΜΟ. *WHAT IS THE LENGTH OF THE PENCIL? CIRCLE THE NUMBER.*



3.2 ΠΟΣΟ ΕΙΝΑΙ ΤΟ ΥΨΟΣ ΤΟΥ ΔΕΝΔΡΟΥ; ΚΥΚΛΩΣΕ ΤΟΝ ΑΡΙΘΜΟ. *WHAT IS THE HEIGHT OF THE TREE? CIRCLE THE NUMBER.*

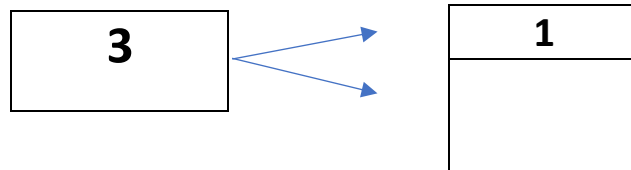


7
6
5
4
3
2
1

4.1 Ο ΜΙΜΗΣ ΕΧΕΙ ΤΡΙΑ ΒΙΒΛΙΑ ΟΛΑ ΜΑΖΙ. ΤΟ ΕΝΑ ΒΙΒΛΙΟ ΕΙΝΑΙ ΠΑΝΩ ΣΤΟ ΤΡΑΠΕΖΙ. ΠΟΣΑ ΒΙΒΛΙΑ ΕΙΝΑΙ ΜΕΣΑ ΣΤΗΝ ΤΣΑΝΤΑ ΤΟΥ; ΖΩΓΡΑΦΙΣΕ ΤΑ ΒΙΒΛΙΑ ΜΕΣΑ ΣΤΗΝ ΤΣΑΝΤΑ. *(Ο ΜΙΜΗΣ ΕΧΙ ΤΡΙΑ ΒΙΒΛΙΑ ΟΛΑ ΜΑΖΙ. ΤΟ ΕΝΑ ΒΙΒΛΙΟ ΙΝΕ ΠΑΝΟ ΣΤΟ ΤΡΑΠΕΖΙ. ΠΟΣΑ ΒΙΒΛΙΑ ΙΝΕ ΜΕΣΑ ΣΤΙΝ ΤΣΑΝΤΑ ΤΟΥ? ΖΟΥΡΑΦΙΣΕ ΤΑ ΒΙΒΛΙΑ ΜΕΣΑ ΣΤΙΝ ΤΣΑΝΤΑ)*
MIMIS HAS THREE BOOKS ALTOGETHER. ONE BOOK IS ON THE TABLE. HOW MANY BOOKS ARE IN HIS BAG? DRAW THE BOOKS IN THE BAG



4.2 ΓΡΑΨΕ ΤΟ ΖΕΥΓΑΡΙ ΤΟΥ ΑΡΙΘΜΟΥ ΣΤΑ ΜΙΚΡΑ ΚΟΥΤΙΑ WRITE THE NUMBER PAIR IN THE SMALL BOXES.

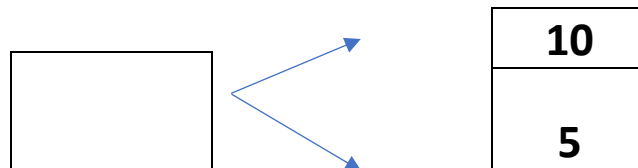
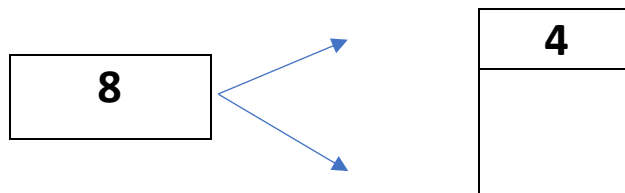
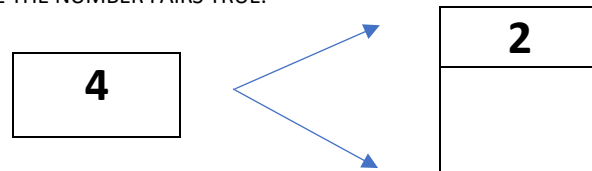


4.3 ΚΑΝΕ ΤΗΝ ΑΦΑΙΡΕΣΗ. DO THE SUBTRACTION.

$$3 - 1 = \text{-----}$$

5. ΓΡΑΨΕ ΤΟΝ ΑΡΙΘΜΟ ΠΟΥ ΛΕΙΠΕΙ ΜΕΣΑ ΣΤΟ ΚΟΥΤΙ ΓΙΑ ΝΑ ΕΙΝΑΙ ΣΩΣΤΑ ΤΑ ΖΕΥΓΑΡΙΑ ΤΟΥ

ΑΡΙΘΜΟΥ. (ΓΡΑΨΕ ΤΟΝ ΑΡΙΘΜΟ ΠΟΥ ΛΙΠΙ ΜΕΣΑ ΣΤΟ ΚΟΥΤΙ ΓΙΑ ΝΑ ΙΝΕ ΣΟΣΤΑ ΤΑ ΖΕΥΥΑΡΙΑ ΤΟΝ ΑΡΙΘΜΟΝ) WRITE THE MISSING NUMBER IN THE BOX TO MAKE THE NUMBER PAIRS TRUE.



6. ΚΑΝΕ ΤΙΣ ΠΡΟΣΘΕΣΕΙΣ. DO THE ADDITIONS.

$$2 + 3 = \text{-----}$$

$$6 + 1 = \text{-----}$$

$$4 + 4 = \text{-----}$$

7. ΚΑΝΕ ΤΙΣ ΑΦΑΙΡΕΣΕΙΣ. DO THE SUBTRACTIONS.

$$2 - 1 = \text{-----}$$

$$4 - 2 = \text{-----}$$

$$5 - 3 = \text{-----}$$