


HOMEWORK 24

due Thursday 3/28

Είδη Γραμμών

καμπύλη γραμμή



TEST
ON
WEDNESDAY

ευθεία γραμμή

Οριζόντια



Κάθετη



ημιευθεία

αρχή



αρχή

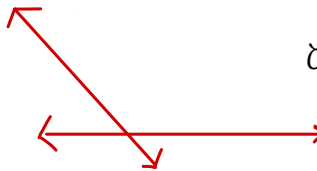


ευθύγραμμο ζήτημα

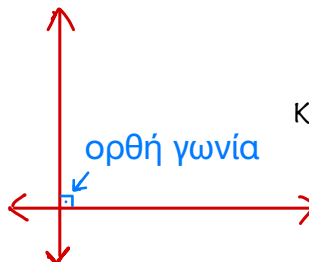
τέλος



ξεμνόμενες γραμμές



κάθετες γραμμές



ορθή γωνία



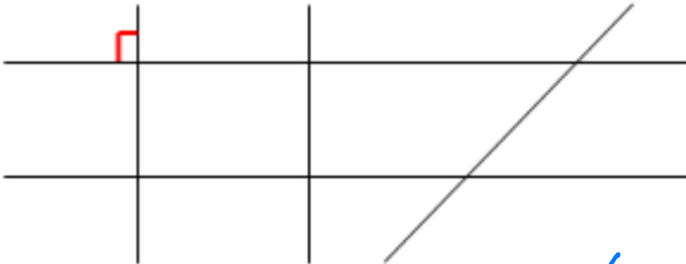
1. Βάζω ✓ στα γράμματα που περιέχουν ορθές γωνίες.

← right angles



2. Σημειώνω όπως το παράδειγμα τις ορθές γωνίες στο παρακάτω σχήμα με κόκκινο χρώμα.

Find the right angles.



Δύο ευθείες που είναι κάθετες μεταξύ τους (είναι σαν σταυρός) σχηματίζουν μια ορθή γωνία.

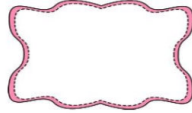



Το παραπάνω σχήμα έχει συνολικά _____ ορθές γωνίες.





Count the right angles.

3. Βρίσκω πόσες ορθές γωνίες έχει το κάθε σχήμα.



4. Φτιάχνω με την βοήθεια του γνώμονα και του χάρακα κάθετες ευθείες.

Draw perpendicular lines.



1. Βάζω ✓ στα γράμματα που έχουν παράλληλες ευθείες.

A



Z



Δ



Ε



Η



T



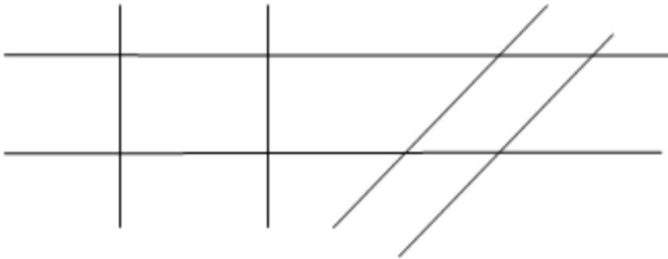
M



X



2. Σημειώνω με κόκκινο χρώμα τις παράλληλες ευθείες στο παρακάτω σχήμα.



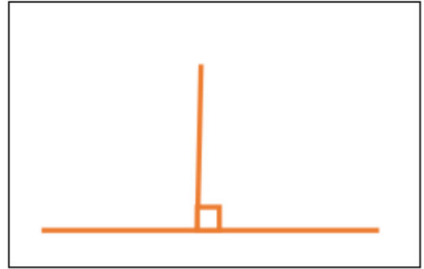
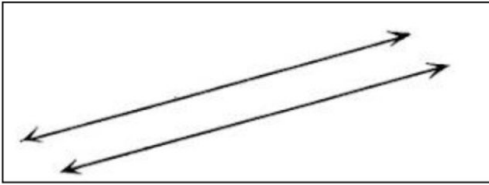
Οι ευθείες που δεν
συναντιούνται όσο και
να τις προεκτείνουμε
με τον χάρακα
λέγονται παράλληλες.


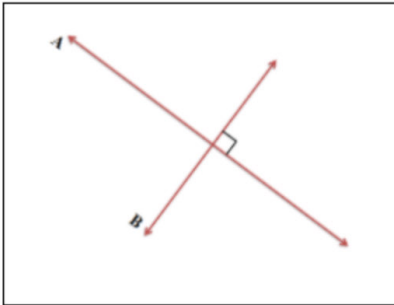
Το παραπάνω σχήμα έχει συνολικά _____ ζεύγη
(ζευγάρια) από παράλληλες ευθείες.

pairs



3. Γράφω αν οι ευθείες της κάθε εικόνας είναι κάθετες ή παράλληλες.





4. Φτιάχνω με την βοήθεια του γνώμονα και του χάρακα 4 παράλληλες ευθείες (διαφορετικό χρώμα το κάθε ζεύγος). 2 pairs using different colors.

