


HOMEWORK 6

3η Τάξη



Ελληνικά Μαθηματικά

Όνομα: _____

Ημερομηνία: _____



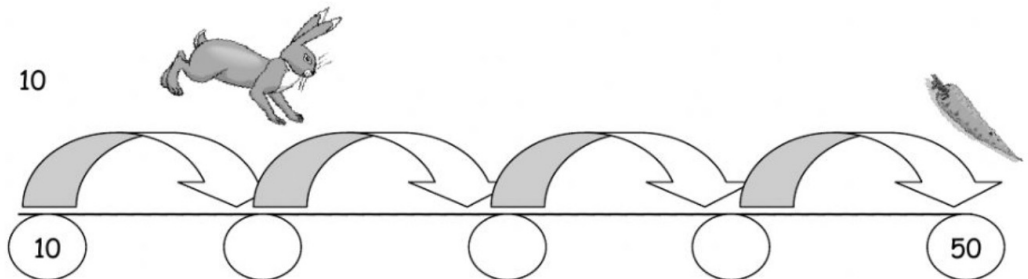
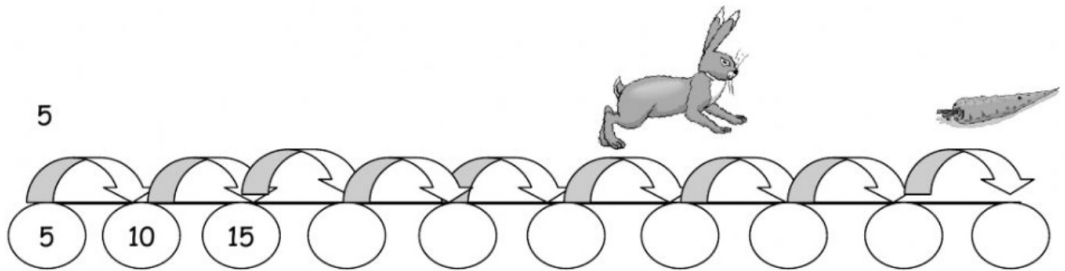

Due on Friday 10/13. ✓

Upload no later than 8am. ✓

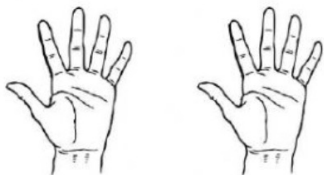
Εισαγωγή στον πολλαπλασιασμό

Όνομα: _____

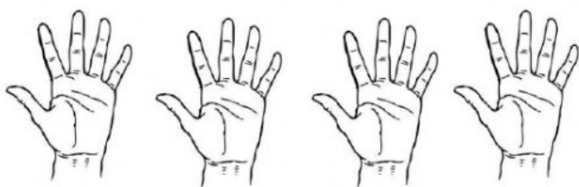
1. Μετρώ ανά



2. Μετρώ τα δάχτυλα



$$\boxed{} + \boxed{} = \boxed{} \text{ δηλαδή } \dots\dots\dots \text{ φορές το } 5 = \dots\dots\dots$$



$$\boxed{} + \boxed{} + \boxed{} + \boxed{} = \boxed{}$$

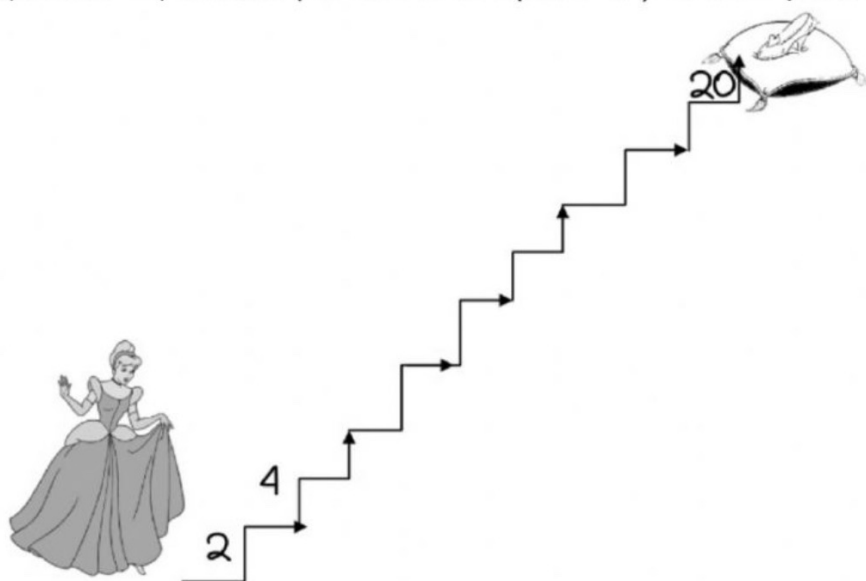
Δηλαδή $\dots\dots\dots$ φορές το $\dots\dots\dots = \dots\dots\dots$



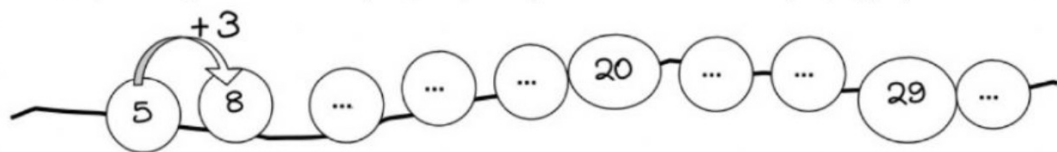
$$\boxed{} + \boxed{} + \boxed{} = \boxed{}$$

Δηλαδή $\dots\dots\dots$ φορές το $\dots\dots\dots = \dots\dots\dots$

1. Ανεβαίνω τη σκάλα με τον ίδιο τρόπο ως το 20. (ανά 2)



2. Συμπληρώνω τους αριθμούς που λείπουν. (προχωρώ ανά 3)



3. Ανεβαίνω τέσσερα-τέσσερα ως το 40. (ανά 4)

0 — — — — — — — — 40

4. Ανεβαίνω πέντε-πέντε ως το 50. (ανά 5)

5				
				50

5. Συμπληρώνω όπως το παράδειγμα.

$$2 + 2 + 2 + 2 = 8$$

$$4 \text{ φορές το } 2 = 8$$

$$3 + 3 + 3 + 3 = \underline{\quad}$$

$$\underline{\quad} \text{ φορές το } \underline{\quad} = \underline{\quad}$$

$$2 + 2 + 2 + 2 + 2 + 2 = \underline{\quad}$$

$$\underline{\quad} \text{ φορές το } \underline{\quad} = \underline{\quad}$$

$$5 + 5 + 5 = \underline{\quad}$$

$$\underline{\quad} \text{ φορές το } \underline{\quad} = \underline{\quad}$$

$$4 + 4 + 4 + 4 = \underline{\quad}$$

$$\underline{\quad} \text{ φορές το } \underline{\quad} = \underline{\quad}$$

$$3 + 3 + 3 + 3 = \underline{\quad}$$

$$\underline{\quad} \text{ φορές το } \underline{\quad} = \underline{\quad}$$



ΜΕΤΡΑΩ ΠΟΣΕΣ
ΦΟΡΕΣ
ΕΠΑΝΑΛΑΜΒΑΝΕΤΑΙ Ο
ΑΡΙΘΜΟΣ ΠΟΥ ΒΛΕΠΩ!