



ONOMA (NAME): _____

Εργασία 5 - Greek Math - (Homework) 5

(2A, 2B, 2C, 2D, 2E)



ΡΟΔΟΣ

Dear Scholars,

This week we will be revising the numbers from 0 to 100 with their Greek names. We will work on the number's Greek name and will learn how to recognize which number is before, after, between, greater, equal or smaller up to 100. We will analyze the value of a number (tens and ones) and also practice *addition & comparison problems* and work on counting by 2 & 10 forward and backward. Introduction to Mental Mathematics (*Completion of a multiple of 10*).

TEST will be taken, in class, on Thursday 09/28/2023.



Dear Parents,

Your children have been practicing similar exercises in class. Along with the example given the beginning of each exercise, they are able to complete the task.

Please, remind them to upload the packet on Archie, on Sunday 10/01/2023.

Please, encourage your child to complete the assigned homework.

If you have any questions or concerns, please, contact me through email at:
ilias.papadopoulos@archimedean.org.

Thank you,

Mr Elias Papadopoulos





Άσκηση 1: Κάνε τις προσθέσεις, χρησιμοποιώντας την προσεταιριστική ιδιότητα: $a+(b+c)=(a+b)+c$ όπως στο παράδειγμα:

• $57+5=57+(3+2)=(57+3)+2=60+2=62$



• $44+8=44+(6+2)=(44+6)+2=50+2=52$



♦ $15+9=$ _____

♦ $28+7=$ _____

♦ $37+5=$ _____

♦ $49+7=$ _____

♦ $47+6=$ _____

♦ $66+7=$ _____

♦ $77+5=$ _____

♦ $89+4=$ _____

♦ $86+8=$ _____





Άσκηση 2: Να γράψετε τους αριθμούς όπως στο παράδειγμα:




δέκα	10
τριάντα δύο	32
είκοσι έξι	_____
πενήντα τρία	_____
σαράντα εννέα	_____
ογδόντα τρία	_____
εβδομήντα δύο	_____
ογδόντα οκτώ	_____
ενενήντα τέσσερα	_____
εξήντα επτά	_____
ογδόντα εννέα	_____
σαράντα πέντε	_____
ενενήντα επτά	_____
πενήντα εννέα	_____
σαράντα ένα	_____





Άσκηση 3: Να αναλύσετε τους αριθμούς σε **Δεκάδες** και **Μονάδες** όπως στο παράδειγμα:

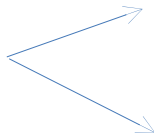
Δεκάδα



Μονάδα



46



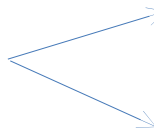
4 Δεκάδες

6 Μονάδες



40 + 6

72



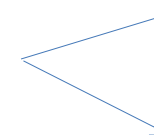
7 Δεκάδες

2 Μονάδες



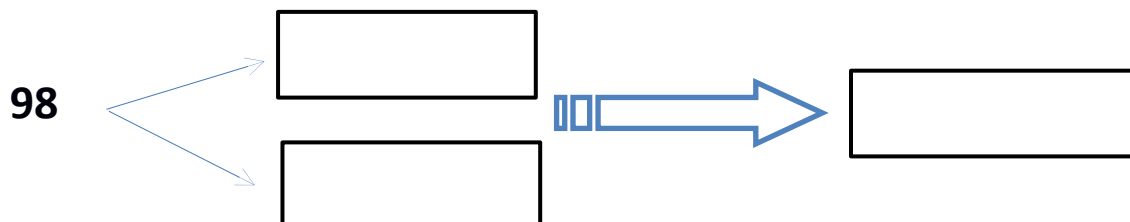
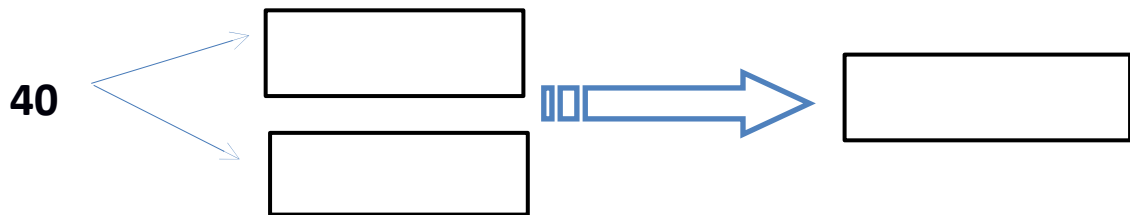
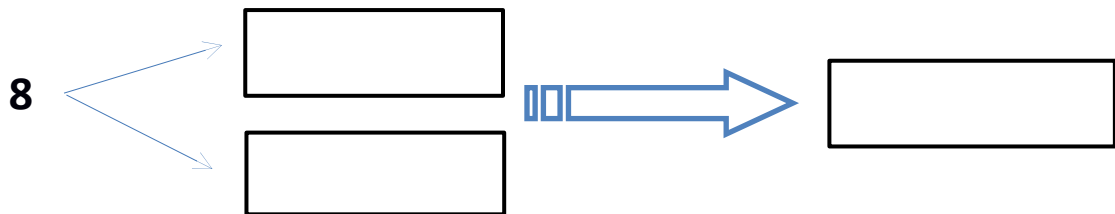
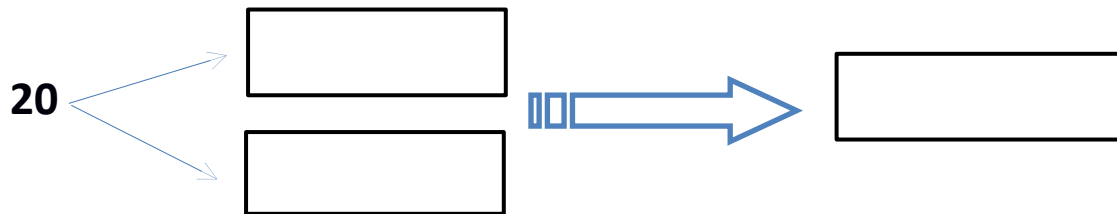
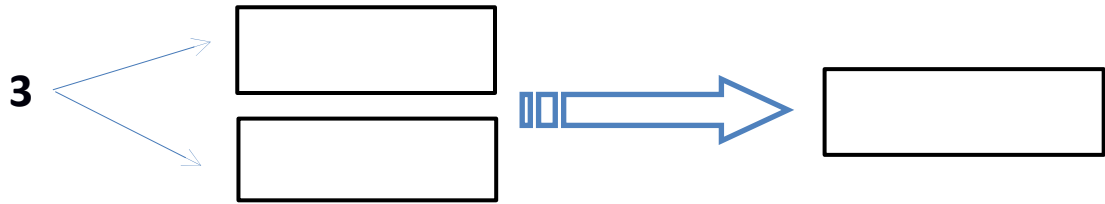
70 + 2

39











Άσκηση 4: Ένωσε τις τελείες μετρώντας ανά ένα (+1) μέχρι το δέκα (10).

