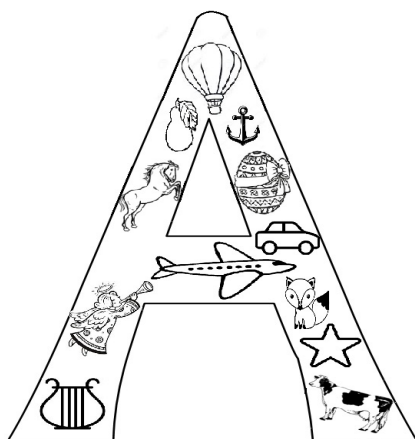


Archimedean Pre-K
14 to ΕΩΣ 18 ΝΟΕΜΒΡΙΟΥ 2022

ΟΝΟΜΑ: _____



Αυτή την εβδομάδα μαθαίνουμε....



*Language:

-The letter: Α α

-Color: Πράσινο

Listening, Speaking, Reading Writing.

*Mathematics:

-Number: 2

Counting, the number frames, one to one correspondence, spatial relationships.

Πηγές (Resources)

*The Homework 2 Guide

 **Εργασία στο σπίτι** 




ΔΕΥΤΕΡΑ	ΤΡΙΤΗ	ΤΕΤΑΡΤΗ	ΠΕΜΠΤΗ	ΠΑΡΑΣΚΕΥΗ
Section 1 & 2	Section 3: 1, 2	Section 3: 3, 4	Section 3: 5	Review: Section 1, counting in Greek up to ten

ΟΝΟΜΑ:

(ΟΝΟΜΑ) NAME

1.ΚΥΚΛΩΣΕ ΤΟ ΓΡΑΜΜΑ: Α α

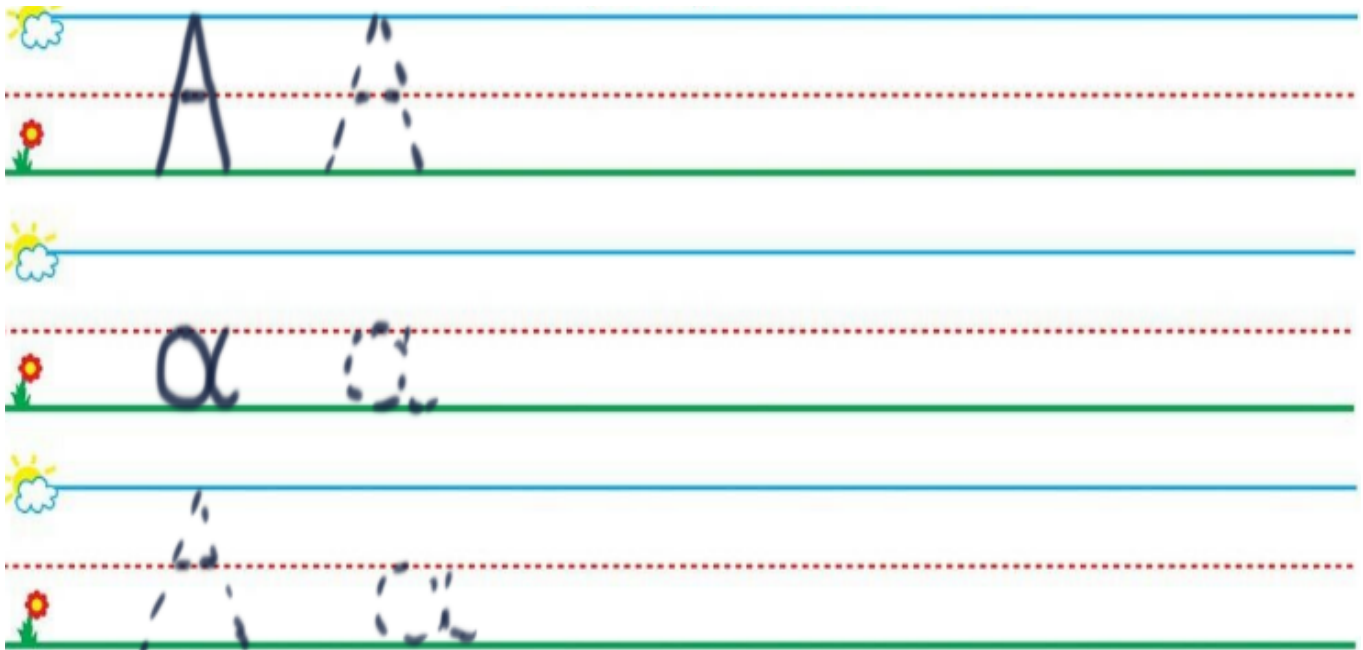
(ΚΥΚΛΩΣΕ ΤΟ ΓΡΑΜΜΑ: Α α) CIRCLE THE LETTER: Α α.



2. ΓΡΑΨΕ ΤΟ ΓΡΑΜΜΑ: Α α

(ΓΡΑΨΕ ΤΟ ΓΡΑΜΜΑ: Α α.)

WRITE THE LETTER: Α α.



3.1. ΠΕΣ ΤΟΝ ΑΡΙΘΜΟ: ΔΥΟ 2

(PES TON ARITHMO: ΔΥΟ 2)
SAY THE NUMBER: ΔΥΟ 2


3.2. ΧΡΩΜΑΤΙΣΕ ΠΡΑΣΙΝΑ ΤΟΣΑ ΚΟΥΤΙΑ ΟΣΑ ΛΕΕΙ Ο ΑΡΙΘΜΟΣ.

(HROMATISE PRASINA TOSA KOUTIA OSA LEI O ARITHMOS.)
COLOR GREEN AS MANY BOXES AS THE NUMBER SAYS.

--	--	--	--	--

4.1. ΜΕΤΡΗΣΕ ΚΑΙ ΚΥΚΛΩΣΕ ΔΥΟ ΑΧΛΑΔΙΑ.

(METRISE KAI KYKLOSE THIO AXLATHIA.) COUNT AND CIRCLE TWO PEARS.



4.2. ΠΟΣΑ ΑΧΛΑΔΙΑ ΕΙΝΑΙ ΜΕΣΑ ΣΤΟΝ ΚΥΚΛΟ;

(POSA AXLATHIA INE MESA STON KIKLO?) HOW MANY PEARS ARE IN THE CIRCLE?

ΠΕΣ ΤΟΝ ΑΡΙΘΜΟ.

(PES TON ARITHMO.) SAY THE NUMBER.

ΓΡΑΨΕ ΤΟΝ ΑΡΙΘΜΟ ΜΕΣΑ ΣΤΟ ΚΟΥΤΙ.

(YRAPSE TON ARITHMO MESA STO KOUTI.) WRITE THE NUMBER IN THE BOX.

--

4.3. ΠΟΣΑ ΑΧΛΑΔΙΑ ΕΙΝΑΙ ΕΞΩ ΑΠΟ ΤΟΝ ΚΥΚΛΟ;

(POSA AXLATHIA INE EXO APO TON KIKLO?) HOW MANY PEARS ARE OUT OF THE CIRCLE?

ΠΕΣ ΤΟΝ ΑΡΙΘΜΟ.

(PES TON ARITHMO.) SAY THE NUMBER.

ΓΡΑΨΕ ΤΟΝ ΑΡΙΘΜΟ ΜΕΣΑ ΣΤΟ ΚΟΥΤΙ.

(YRAPSE TON ARITHMO MESA STO KOUTI.) WRITE THE NUMBER IN THE BOX.

--

5. ΖΩΓΡΑΦΙΣΕ ΕΝΑ ΠΡΑΣΙΝΟ ΑΧΛΑΔΙ ΠΑΝΩ ΣΤΟ ΔΕΝΔΡΟ ΚΑΙ ΕΝΑ ΠΡΑΣΙΝΟ ΑΧΛΑΔΙ ΜΕΣΑ ΣΤΟ ΚΑΛΑΘΙ. (ΖΟΥΡΑΦΙΣΕ ΕΝΑ ΠΡΑΣΙΝΟ ΑΗΛΑΤΗ ΠΑΝΟ ΣΤΟ ΤΗΝΕΤΗΡΟ ΚΕ ΕΝΑ ΠΡΑΣΙΝΟ ΑΗΛΑΤΗ ΜΕΣΑ ΣΤΟ ΚΑΛΑΘΙ.) DRAW A GREEN PEAR ON THE TREE AND A GREEN PEAR IN THE BASKET.

