

Archimedean Pre-K

16 ΕΩΣ 20 ΜΑΙΟΥ 2022

ΟΝΟΜΑ: _____



Αυτή την εβδομάδα μαθαίνουμε....



*Language:

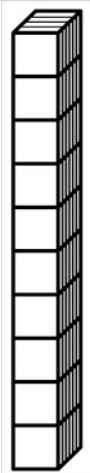
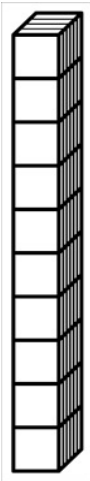
Listening/Talking, Reading and Writing.

Review-Letters and Vocabulary

*Mathematics:

Counting, composing and decomposing numbers, addition. Tens and ones.

Α α	Β β	Γ γ	Δ δ	Ε ε	Ζ ζ
Η η	Θ θ	Ι ι	Κ κ	Λ λ	Μ μ
Ν ν	Ξ ξ	Ο ο	Π π	Ρ ρ	Σ σ
Τ τ	Υ υ	Φ φ	Χ χ	Ψ ψ	Ω ω



Εργασία στο σπίτι



ΔΕΥΤΕΡΑ	ΤΡΙΤΗ	ΤΕΤΑΡΤΗ	ΠΕΜΠΤΗ	ΠΑΡΑΣΚΕΥΗ
Section 1 & 2 Section 3: 1, 2	Section 3: 3, 4	Section 3: 5, 6, 7, 8	Section 3: 9, 10	Homework Due


HOMEWORK 30. Activities. Activities should be turned in on Friday.

ΟΝΟΜΑ:.....


1. ΔΙΑΒΑΣΕ ΚΑΙ ΖΩΓΡΑΦΙΣΕ. ΣΥΜΠΛΗΡΩΣΕ ΤΗΝ ΕΙΚΟΝΑ. READ AND DRAW. COMPLETE THE PICTURE.

Να, η χήνα.

Να, η κότα.


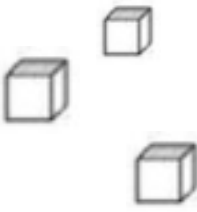


2. ΤΙ ΕΙΝΑΙ ΑΥΤΟ; ΓΡΑΨΕ ΤΙΣ ΛΕΞΕΙΣ. WHAT IS THIS? WRITE THE WORDS.

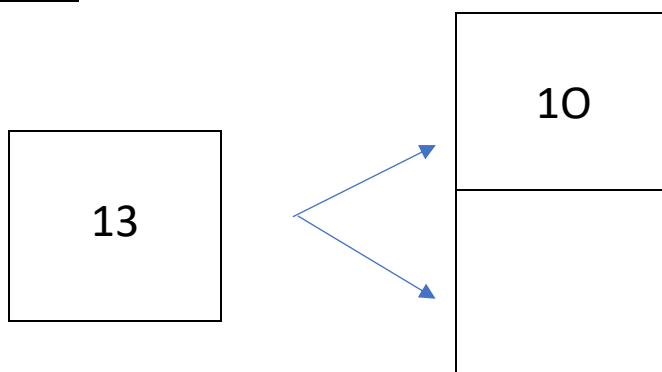




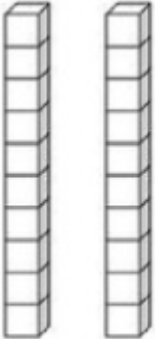
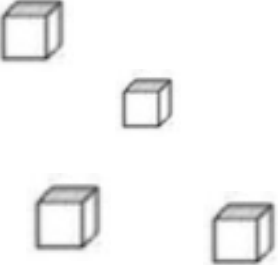
3. ΠΟΣΕΣ ΕΙΝΑΙ ΟΙ ΔΕΚΑΔΕΣ; ΠΟΣΕΣ ΕΙΝΑΙ ΟΙ ΜΟΝΑΔΕΣ; ΚΑΝΕ ΤΗΝ ΠΡΟΣΘΕΣΗ. ΓΡΑΨΕ ΤΟΝ ΑΡΙΘΜΟ ΠΟΥ ΛΕΙΠΕΙ ΜΕΣΑ ΣΤΟ ΚΟΥΤΙ. (POSES INE Ι ΤΗΕΚΑΤΗΣ? POSES INE Ι ΜΟΝΑΤΗΣ? ΚΑΝΕ ΤΙΝ ΠΡΣΤΗΕΙ. ΥΡΑΡΣΕ ΤΟΝ ΑΡΙΤΗΜΟ ΡΟΥ ΛΙΡΙ ΜΕΣΑ ΣΤΟ ΚΟΥΤΙ)
HOW MANY ARE THE TENS HOW MANY ARE THE ONES? DO THE ADDITION. WRITE THE MISSING NUMBER IN THE BOX.

ΔΕΚΑΔΕΣ	ΜΟΝΑΔΕΣ
	

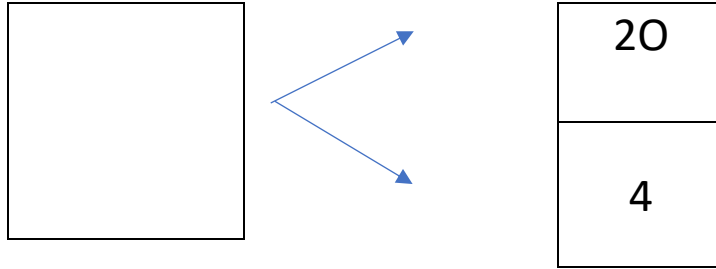
$$\text{-----} + \text{-----} = \text{-----}$$



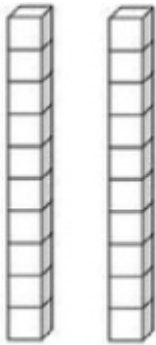
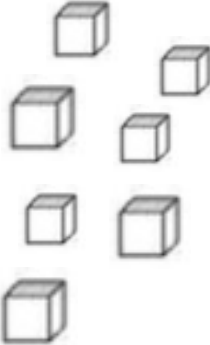
4. ΠΟΣΕΣ ΕΙΝΑΙ ΟΙ ΔΕΚΑΔΕΣ; ΠΟΣΕΣ ΕΙΝΑΙ ΟΙ ΜΟΝΑΔΕΣ; ΚΑΝΕ ΤΗΝ ΠΡΟΣΘΕΣΗ. ΓΡΑΨΕ ΤΟΝ ΑΡΙΘΜΟ ΠΟΥ ΛΕΙΠΕΙ ΜΕΣΑ ΣΤΟ ΚΟΥΤΙ. HOW MANY ARE THE TENS HOW MANY ARE THE ONES? DO THE ADDITION. WRITE THE MISSING NUMBER IN THE BOX.

ΔΕΚΑΔΕΣ	ΜΟΝΑΔΕΣ
	

$$\text{-----} + \text{-----} = \text{-----}$$



5. ΠΟΣΕΣ ΕΙΝΑΙ ΟΙ ΔΕΚΑΔΕΣ; ΠΟΣΕΣ ΕΙΝΑΙ ΟΙ ΜΟΝΑΔΕΣ; ΚΑΝΕ ΤΗΝ ΠΡΟΣΘΕΣΗ. HOW MANY ARE THE TENS HOW MANY ARE THE ONES? DO THE ADDITION.

ΔΕΚΑΔΕΣ	ΜΟΝΑΔΕΣ
	

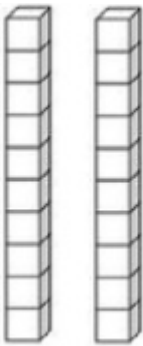
$$\text{-----} + \text{-----} = \text{-----}$$

6. ΠΟΣΕΣ ΕΙΝΑΙ ΟΙ ΔΕΚΑΔΕΣ; ΠΟΣΕΣ ΕΙΝΑΙ ΟΙ ΜΟΝΑΔΕΣ; ΚΑΝΕ ΤΗΝ ΠΡΟΣΘΕΣΗ. HOW MANY ARE THE TENS HOW MANY ARE THE ONES? DO THE ADDITION.

ΔΕΚΑΔΕΣ	ΜΟΝΑΔΕΣ
	

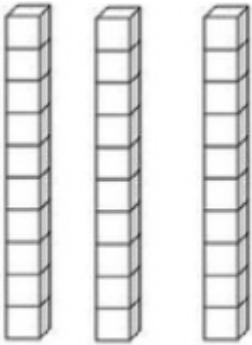
$$\text{-----} + \text{-----} = \text{-----}$$

7. ΠΟΣΕΣ ΕΙΝΑΙ ΟΙ ΔΕΚΑΔΕΣ; ΠΟΣΕΣ ΕΙΝΑΙ ΟΙ ΜΟΝΑΔΕΣ; ΚΑΝΕ ΤΗΝ ΠΡΟΣΘΕΣΗ. HOW MANY ARE THE TENS HOW MANY ARE THE ONES? DO THE ADDITION.

ΔΕΚΑΔΕΣ	ΜΟΝΑΔΕΣ
	

$$\text{-----} + \text{-----} = \text{-----}$$

8. ΠΟΣΕΣ ΕΙΝΑΙ ΟΙ ΔΕΚΑΔΕΣ; ΠΟΣΕΣ ΕΙΝΑΙ ΟΙ ΜΟΝΑΔΕΣ; ΚΑΝΕ ΤΗΝ ΠΡΟΣΘΕΣΗ. HOW MANY ARE THE TENS HOW MANY ARE THE ONES? DO THE ADDITION.

	
--	--

$$\text{-----} + \text{-----} = \text{-----}$$

9. ΚΑΝΕ ΤΙΣ ΠΡΟΣΘΕΣΕΙΣ. DO THE ADDITIONS.

$$6 + 1 = \text{.....}$$

$$7 + 1 = \text{.....}$$

$$8 + 1 = \text{.....}$$

$$9 + 1 = \text{.....}$$

10. ΚΑΝΕ ΤΙΣ ΑΦΑΙΡΕΣΕΙΣ. DO THE SUBTRACTIONS.

$$4 - 1 = \text{.....}$$

$$5 - 1 = \text{.....}$$

$$2 - 1 = \text{.....}$$

$$1 - 1 = \text{.....}$$